

## Основной государственный экзамен по МАТЕМАТИКЕ

### Инструкция по выполнению работы

Экзаменационная работа состоит из двух частей, включающих в себя 25 заданий. Часть 1 содержит 19 заданий, часть 2 содержит 6 заданий с развёрнутым ответом.

На выполнение экзаменационной работы по математике отводится 3 часа 55 минут (235 минут).

Ответы к заданиям 7 и 13 запишите в бланк ответов № 1 в виде одной цифры, которая соответствует номеру правильного ответа.

Для остальных заданий части 1 ответом является число или последовательность цифр. Ответ запишите в поле ответа в тексте работы, а затем перенесите в бланк ответов № 1. Если получилась обыкновенная дробь, ответ запишите в виде десятичной.

Решения заданий части 2 и ответы к ним запишите на бланке ответов № 2. Задания можно выполнять в любом порядке. Текст задания переписывать не надо, необходимо только указать его номер.

Все бланки заполняются яркими чёрными чернилами. Допускается использование гелевой или капиллярной ручки.

Сначала выполняйте задания части 1. Начать советуем с тех заданий, которые вызывают у Вас меньше затруднений, затем переходите к другим заданиям. Для экономии времени пропускайте задание, которое не удаётся выполнить сразу, и переходите к следующему. Если у Вас останется время, Вы сможете вернуться к пропущенным заданиям.

При выполнении части 1 все необходимые вычисления, преобразования выполняйте в черновике. **Записи в черновике, а также в тексте контрольных измерительных материалов не учитываются при оценивании работы.**

Если задание содержит рисунок, то на нём непосредственно в тексте работы можно выполнять необходимые Вам построения. Рекомендуем внимательно читать условие и проводить проверку полученного ответа.

При выполнении работы Вы можете воспользоваться справочными материалами, выданными вместе с вариантом КИМ, и линейкой.

Баллы, полученные Вами за выполненные задания, суммируются. Постарайтесь выполнить как можно больше заданий и набрать наибольшее количество баллов.

После завершения работы проверьте, чтобы ответ на каждое задание в бланках ответов № 1 и № 2 был записан под правильным номером.

*Желаем успеха!*

Копирование не допускается

## СПРАВОЧНЫЕ МАТЕРИАЛЫ ПО МАТЕМАТИКЕ

### АЛГЕБРА

- Формула корней квадратного уравнения:

$$x = \frac{-b \pm \sqrt{D}}{2a}, \text{ где } D = b^2 - 4ac.$$

- Если квадратный трёхчлен  $ax^2 + bx + c$  имеет два корня  $x_1$  и  $x_2$ , то

$$ax^2 + bx + c = a(x - x_1)(x - x_2);$$

если квадратный трёхчлен  $ax^2 + bx + c$  имеет единственный корень  $x_0$ , то

$$ax^2 + bx + c = a(x - x_0)^2.$$

- Абсцисса вершины параболы, заданной уравнением  $y = ax^2 + bx + c$ :

$$x_0 = -\frac{b}{2a}.$$

- Формула  $n$ -го члена арифметической прогрессии  $(a_n)$ , первый член которой равен  $a_1$  и разность равна  $d$ :

$$a_n = a_1 + d(n - 1).$$

- Формула суммы первых  $n$  членов арифметической прогрессии:

$$S_n = \frac{(a_1 + a_n)n}{2}.$$

- Формула  $n$ -го члена геометрической прогрессии  $(b_n)$ , первый член которой равен  $b_1$ , а знаменатель равен  $q$ :

$$b_n = b_1 \cdot q^{n-1}.$$

- Формула суммы первых  $n$  членов геометрической прогрессии:

$$S_n = \frac{(q^n - 1)b_1}{q - 1}.$$

- Формулы сокращённого умножения:

$$(a + b)^2 = a^2 + 2ab + b^2;$$

$$(a - b)^2 = a^2 - 2ab + b^2;$$

$$a^2 - b^2 = (a - b)(a + b).$$

- Свойства арифметического квадратного корня:

$$\sqrt{ab} = \sqrt{a} \cdot \sqrt{b} \text{ при } a \geq 0, b \geq 0;$$

$$\sqrt{\frac{a}{b}} = \frac{\sqrt{a}}{\sqrt{b}} \text{ при } a \geq 0, b > 0.$$

- Свойства степени при  $a > 0, b > 0$ :

$$a^{-n} = \frac{1}{a^n};$$

$$a^n \cdot a^m = a^{n+m};$$

$$\frac{a^n}{a^m} = a^{n-m};$$

$$(a^n)^m = a^{nm};$$

$$(ab)^n = a^n \cdot b^n;$$

$$\left(\frac{a}{b}\right)^n = \frac{a^n}{b^n}.$$

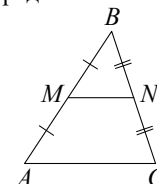
Таблица квадратов двузначных чисел

		Единицы									
		0	1	2	3	4	5	6	7	8	9
Десятки	1	100	121	144	169	196	225	256	289	324	361
	2	400	441	484	529	576	625	676	729	784	841
	3	900	961	1024	1089	1156	1225	1296	1369	1444	1521
	4	1600	1681	1764	1849	1936	2025	2116	2209	2304	2401
	5	2500	2601	2704	2809	2916	3025	3136	3249	3364	3481
	6	3600	3721	3844	3969	4096	4225	4356	4489	4624	4761
	7	4900	5041	5184	5329	5476	5625	5776	5929	6084	6241
	8	6400	6561	6724	6889	7056	7225	7396	7569	7744	7921
	9	8100	8281	8464	8649	8836	9025	9216	9409	9604	9801

## ГЕОМЕТРИЯ

Сумма углов выпуклого  $n$ -угольника равна  $180^\circ(n-2)$ .

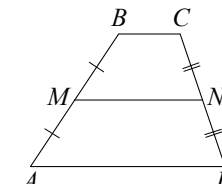
Средняя линия треугольника и трапеции



$MN$  — ср. лин.

$MN \parallel AC$

$$MN = \frac{AC}{2}$$



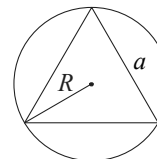
$BC \parallel AD$

$MN$  — ср. лин.

$MN \parallel AD$

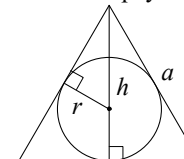
$$MN = \frac{BC + AD}{2}$$

Описанная и вписанная окружности правильного треугольника



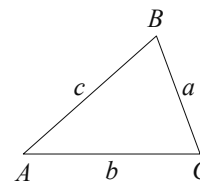
$$R = \frac{a\sqrt{3}}{3}$$

$$S = \frac{a^2\sqrt{3}}{4}$$



$$r = \frac{a\sqrt{3}}{6}$$

$$h = \frac{a\sqrt{3}}{2}$$



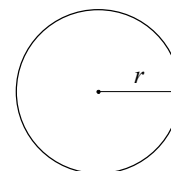
Для треугольника  $ABC$  со сторонами  $AB=c$ ,  $AC=b$ ,  $BC=a$ :

$$\frac{a}{\sin A} = \frac{b}{\sin B} = \frac{c}{\sin C} = 2R,$$

где  $R$  — радиус описанной окружности.

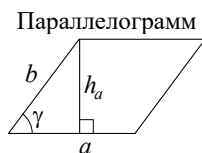
Для треугольника  $ABC$  со сторонами  $AB=c$ ,  $AC=b$ ,  $BC=a$ :

$$c^2 = a^2 + b^2 - 2ab \cos C.$$



Длина окружности  $C = 2\pi r$

Площадь круга  $S = \pi r^2$

**Площади фигур**

$$S = ah_a$$

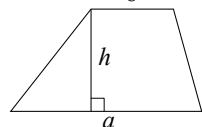
$$S = ab \sin \gamma$$



$$S = \frac{1}{2} ah_a$$

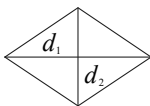
$$S = \frac{1}{2} ab \sin \gamma$$

Трапеция



$$S = \frac{a+b}{2} \cdot h$$

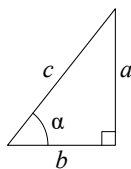
Ромб



$$d_1, d_2 \text{ — диагонали}$$

$$S = \frac{1}{2} d_1 d_2$$

Прямоугольный треугольник



$$\sin \alpha = \frac{a}{c}$$

$$\cos \alpha = \frac{b}{c}$$

$$\operatorname{tg} \alpha = \frac{a}{b}$$

Теорема Пифагора:  $a^2 + b^2 = c^2$ Основное тригонометрическое тождество:  $\sin^2 \alpha + \cos^2 \alpha = 1$ 

Некоторые значения тригонометрических функций

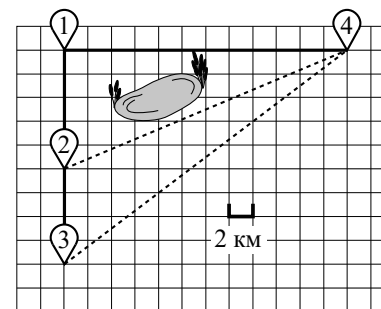
$\alpha$	градусы	$0^\circ$	$30^\circ$	$45^\circ$	$60^\circ$	$90^\circ$	$180^\circ$	$270^\circ$	$360^\circ$
$\sin \alpha$		0	$\frac{1}{2}$	$\frac{\sqrt{2}}{2}$	$\frac{\sqrt{3}}{2}$	1	0	-1	0
$\cos \alpha$		1	$\frac{\sqrt{3}}{2}$	$\frac{\sqrt{2}}{2}$	$\frac{1}{2}$	0	-1	0	1
$\operatorname{tg} \alpha$		0	$\frac{\sqrt{3}}{3}$	1	$\sqrt{3}$	—	0	—	0

**Часть 1**

Ответами к заданиям 1–19 являются число или последовательность цифр, которые следует записать в БЛАНК ОТВЕТОВ № 1 справа от номера соответствующего задания, начиная с первой клеточки. Если ответом является последовательность цифр, то запишите её без пробелов и других дополнительных символов. Каждый символ пишите в отдельной клеточке в соответствии с приведёнными в бланке образцами.

**Прочитайте внимательно текст и выполните задания 1–5.**

Гриша летом отдыхает у дедушки в деревне Грушёвка. В понедельник они собираются съездить на велосипедах в село Абрамово на ярмарку. Из деревни Грушёвка в село Абрамово можно проехать по прямой лесной дорожке. Есть более длинный путь: по прямолинейному шоссе через деревню Таловка до деревни Новая, где нужно повернуть под прямым углом направо на другое шоссе, ведущее в село Абрамово. Есть и третий маршрут: в деревне Таловка можно свернуть на прямую тропинку в село Абрамово, которая идёт мимо пруда. Лесная дорожка и тропинка образуют с шоссе прямоугольные треугольники.



По шоссе Гриша с дедушкой едут со скоростью 15 км/ч, а по лесной дорожке и тропинке — со скоростью 12 км/ч. На плане изображено взаимное расположение населённых пунктов, длина стороны каждой клетки равна 2 км.

- 1** Пользуясь описанием, определите, какими цифрами на плане обозначены населённые пункты.  
Заполните таблицу, в бланк ответов перенесите последовательность трёх цифр без пробелов, запятых и других дополнительных символов.

Насел. пункты	д. Таловка	д. Грушёвка	с. Абрамово
Цифры			

- 2** Сколько километров проедут Гриша с дедушкой от деревни Таловка до села Абрамово, если они поедут по шоссе через деревню Новая?

Ответ: \_\_\_\_\_.

- 3** Найдите расстояние от деревни Грушёвка до села Абрамово по прямой.  
Ответ дайте в километрах.

Ответ: \_\_\_\_\_.

- 4** Сколько минут затратят на дорогу из деревни Грушёвка в село Абрамово Гриша с дедушкой, если они поедут сначала по шоссе, а затем свернут в Таловке на прямую тропинку, которая проходит мимо пруда?

Ответ: \_\_\_\_\_.

- 5** В таблице указана стоимость (в рублях) некоторых продуктов в четырёх магазинах, расположенных в деревне Грушёвка, селе Абрамово, деревне Таловка и деревне Новая.

Наименование продукта	д. Грушёвка	с. Абрамово	д. Таловка	д. Новая
Молоко (1 л)	32	33	31	34
Хлеб (1 батон)	24	21	26	20
Сыр «Российский» (1 кг)	320	310	330	300
Говядина (1 кг)	390	360	370	420
Картофель (1 кг)	10	18	15	12

Гриша с дедушкой хотят купить 4 л молока, 5 батонов хлеба и 2 кг говядины. В каком магазине такой набор продуктов будет стоить дешевле всего? В ответ запишите стоимость данного набора в этом магазине.

Ответ: \_\_\_\_\_.

- 6** Найдите значение выражения  $9,2 - 2,4$ .

Ответ: \_\_\_\_\_.

- 7** Какое из чисел  $\frac{58}{17}$ ,  $\frac{72}{17}$ ,  $\frac{87}{17}$  и  $\frac{91}{17}$  принадлежит отрезку  $[4; 5]$ ?

1)  $\frac{58}{17}$                       2)  $\frac{72}{17}$                       3)  $\frac{87}{17}$                       4)  $\frac{91}{17}$

Ответ:

- 8** Найдите значение выражения  $(\sqrt{17} - \sqrt{3})(\sqrt{17} + \sqrt{3})$ .

Ответ: \_\_\_\_\_.

9 Решите уравнение  $x^2 - 10x + 24 = 0$ .

Если уравнение имеет более одного корня, в ответ запишите меньший из корней.

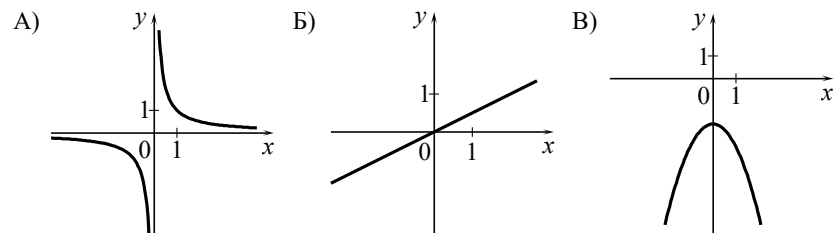
Ответ: \_\_\_\_\_.

10 Вероятность того, что новая шариковая ручка пишет плохо (или не пишет), равна 0,08. Покупатель в магазине выбирает одну шариковую ручку. Найдите вероятность того, что эта ручка пишет хорошо.

Ответ: \_\_\_\_\_.

11 Установите соответствие между графиками функций и формулами, которые их задают.

ГРАФИКИ



ФОРМУЛЫ

1)  $y = \frac{1}{x}$       2)  $y = -x^2 - 2$       3)  $y = \frac{1}{2}x$

В таблице под каждой буквой укажите соответствующий номер.

Ответ:

А	Б	В

12 В фирме «Родник» стоимость (в рублях) колодца из железобетонных колец рассчитывается по формуле  $C = 6000 + 4100n$ , где  $n$  — число колец, установленных в колодце. Пользуясь этой формулой, рассчитайте стоимость колодца из 8 колец. Ответ дайте в рублях.

Ответ: \_\_\_\_\_.

13 Укажите решение системы неравенств

$$\begin{cases} x + 2,8 \leq 0, \\ x + 0,3 \leq -1,4. \end{cases}$$

1)  $(-\infty; -2,8]$

3)  $(-\infty; -2,8] \cup [-1,7; +\infty)$

2)  $[-1,7; +\infty)$

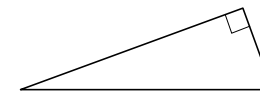
4)  $[-2,8; -1,7]$

Ответ:

14 В амфитеатре 12 рядов. В первом ряду 24 места, а в каждом следующем на 3 места больше, чем в предыдущем. Сколько мест в девятом ряду амфитеатра?

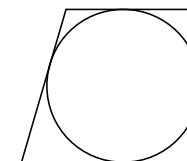
Ответ: \_\_\_\_\_.

15 Один из острых углов прямоугольного треугольника равен  $23^\circ$ . Найдите его другой острый угол. Ответ дайте в градусах.



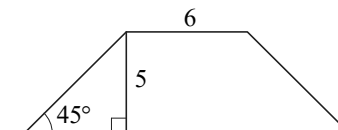
Ответ: \_\_\_\_\_.

16 Радиус окружности, вписанной в прямоугольную трапецию, равен 32. Найдите высоту этой трапеции.



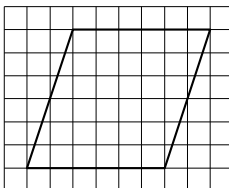
Ответ: \_\_\_\_\_.

17 В равнобедренной трапеции известны высота, меньшее основание и угол при основании (см. рисунок). Найдите большее основание.



Ответ: \_\_\_\_\_.

- 18 На клетчатой бумаге с размером клетки  $1 \times 1$  изображён параллелограмм. Найдите его площадь.



Ответ: \_\_\_\_\_.

- 19 Какие из следующих утверждений являются истинными высказываниями?

- 1) Один из углов треугольника всегда не превышает  $60^\circ$  градусов.
- 2) Площадь ромба равна произведению его стороны на высоту, проведённую к этой стороне.
- 3) Боковые стороны любой трапеции равны.

В ответ запишите номера истинных высказываний без пробелов, запятых и других дополнительных символов.

Ответ: \_\_\_\_\_.



**Не забудьте перенести все ответы в БЛАНК ОТВЕТОВ № 1 в соответствии с инструкцией по выполнению работы. Проверьте, чтобы каждый ответ был записан в строке с номером соответствующего задания.**

## Часть 2

**При выполнении заданий 20–25 используйте БЛАНК ОТВЕТОВ № 2. Сначала укажите номер задания, а затем запишите его решение и ответ. Пишите чётко и разборчиво.**

- 20 Решите уравнение  $(x-1)(x^2+6x+9)=5(x+3)$ .

- 21 Поезд, двигаясь равномерно со скоростью  $129$  км/ч, проезжает мимо пешехода, идущего по платформе параллельно путям со скоростью  $6$  км/ч навстречу поезду, за  $8$  секунд. Найдите длину поезда в метрах.

- 22 Постройте график функции

$$y = \frac{5x-8}{5x^2-8x}.$$

Определите, при каких значениях  $k$  прямая  $y=kx$  имеет с графиком ровно одну общую точку.

- 23 Биссектриса угла  $A$  параллелограмма  $ABCD$  пересекает сторону  $BC$  в точке  $K$ . Найдите периметр параллелограмма, если  $BK=11$ ,  $CK=20$ .

- 24 Основания  $BC$  и  $AD$  трапеции  $ABCD$  равны соответственно  $8$  и  $32$ ,  $BD=16$ . Докажите, что треугольники  $CBD$  и  $BDA$  подобны.

- 25 В треугольнике  $ABC$  биссектриса угла  $A$  делит высоту, проведённую из вершины  $B$ , в отношении  $5:4$ , считая от точки  $B$ . Найдите радиус окружности, описанной около треугольника  $ABC$ , если  $BC=6$ .



**Проверьте, чтобы каждый ответ был записан рядом с номером соответствующего задания.**