

--	--	--	--

--

Проверочная работа по МАТЕМАТИКЕ

4 класс

Вариант 2

Инструкция по выполнению работы

На выполнение проверочной работы по математике отводится один урок (не более 45 минут). Работа включает в себя 11 заданий.

В заданиях, после которых есть поле со словом «Ответ», запиши ответ в указанном месте. В заданиях 5 (пункт 2) и 10 нужно сделать чертёж или рисунок. В заданиях, после которых есть поле со словами «Решение» и «Ответ», запиши решение и ответ в указанном месте. Если ты хочешь изменить ответ, то зачеркни его и запиши рядом новый.

При выполнении работы не разрешается пользоваться учебниками, рабочими тетрадями, справочниками, калькулятором.

При необходимости можно пользоваться черновиком. Записи в черновике проверяться и оцениваться не будут.

Советуем выполнять задания в том порядке, в котором они даны. Для экономии времени пропускай задание, которое не удаётся выполнить сразу, и переходи к следующему. Постарайся выполнить как можно больше заданий.

Желаем успеха!

Таблица для внесения баллов участника

Номер задания	1	2	3	4	5(1)	5(2)	6(1)	6(2)	7	8	9(1)	9(2)	10	11	
Баллы	<input type="text"/>	<input type="text"/>	<input type="text"/>	<input type="text"/>	<input type="text"/>	<input type="text"/>	<input type="text"/>	<input type="text"/>	<input type="text"/>	<input type="text"/>	<input type="text"/>	<input type="text"/>	<input type="text"/>	<input type="text"/>	
Сумма баллов за работу	<input type="text"/>														
Отметка за работу	<input type="text"/>														






1 Вычисли: $70 - 27$.

□	Ответ:	
---	--------	--

2 Вычисли: $34 - 4 \cdot 7 + 16$.

□	Ответ:	
---	--------	--

3 В магазине продаются кондитерские изделия в пачках. На рисунке показаны цены.

Овсяное печенье.....64 руб. 	Миндальное печенье...74 руб. 	Печенье «Курабье»...131 руб. 
Печенье «Юбилейное»...24 руб. 	Печенье «Мария».....34 руб. 	Зефир.....93 руб. 
Крекеры.....28 руб. 	Слоёные десерты....128 руб. 	Галеты.....46 руб. 

Сколько всего рублей надо заплатить за две пачки печенья «Мария» и одну пачку слоёных десертов? Запиши решение и ответ.

□	Решение:	
□	Ответ:	

Система оценивания проверочной работы

Номер задания	1	2	3	4	5(1)	5(2)	6(1)	6(2)	7	8	9(1)	9(2)	10	11	Итого
Балл	1	1	2	1	1	1	1	1	1	2	1	1	2	2	18

Номер задания	Правильный ответ
1	43
2	22
4	2 ч 40 мин (Допускается любая иная форма указания времени)
7	6647

3


Решение и указания к оцениванию	Баллы
<p>Решение. Две пачки печенья «Мария» стоят $34 \cdot 2 = 68$ (рублей). Стоимость всей покупки $68 + 128 = 196$ (рублей).</p> <p>Допускается другая последовательность действий, пояснений, обоснованно приводящих к верному ответу.</p> <p>Ответ: 196 руб.</p>	
Выполнены необходимые вычисления и/или рассуждения, приводящие к ответу, получен верный ответ	2
Выполнены все необходимые вычисления и/или рассуждения, приводящие к ответу, но допущена одна вычислительная ошибка, из-за которой получен неверный ответ	1
Решение не соответствует ни одному из критериев, перечисленных выше	0
<i>Максимальный балл</i>	2

5

Ответ:

1) 14 см

2)



Должно быть зачтено любое другое решение, удовлетворяющее условию.

6

Ответ:

1) в 6-м;

2) 19.

8


Указания к оцениванию	Баллы
<p>Решение: Из малых пачек израсходовали $250 \cdot 18 = 4500$ листов. Из больших пачек израсходовали $7000 - 4500 = 2500$ листов. Больших пачек бумаги израсходовали $2500 : 500 = 5$ штук.</p> <p>Допускается другая последовательность действий, обоснованно приводящих к верному ответу.</p> <p>Ответ: 5</p>	
<p>Приведены все необходимые преобразования и/или рассуждения, приводящие к ответу, получен верный ответ</p>	2
<p>Приведены все необходимые преобразования и/или рассуждения, приводящие к ответу, но допущена одна арифметическая ошибка, не нарушающая общей логики решения, в результате чего получен неверный ответ</p>	1
<p>Не приведены необходимые преобразования и/или рассуждения. ИЛИ Приведены неверные рассуждения. ИЛИ В рассуждениях и преобразованиях допущено более одной арифметической ошибки</p>	0
<p><i>Максимальный балл</i></p>	2

9

Ответ:

- 1) экзамен по химии;
- 2) экзамен по физике.

10

Указания к оцениванию		Баллы
Приведён верный рисунок. 		2
Приведён рисунок, на котором буква повёрнута, но не отражена, например, 		1
Приведено решение, не соответствующее критериям на 1 и 2 балла, или решение отсутствует		0
<i>Максимальный балл</i>		2

11

Указания к оцениванию	Баллы
<p>Решение.</p> <p>Если в коробке зелёных карандашей 3 или больше, то синих карандашей 21 или больше. Тогда всего в коробке больше 22 карандашей. Этот случай невозможен.</p> <p>Если в коробке 1 зелёный карандаш, то синих карандашей 7, а красных 14. Получилось, что красных карандашей больше, чем синих, поэтому этот случай тоже невозможен.</p> <p>Если в коробке 2 зелёных карандаша, то синих 14, а красных 6. Этот случай единственный возможный.</p> <p>Допускается другая последовательность действий и рассуждений, обоснованно приводящая к верному ответу.</p> <p>Ответ: 6</p>	
Проведены необходимые рассуждения и вычисления, получен верный ответ	2
Проведены необходимые рассуждения, но допущена одна ошибка, не нарушающая логики решения, в результате получен неверный ответ ИЛИ подбором найден верный ответ, но не показано, что другие варианты невозможны	1
Не проведены необходимые рассуждения или вычисления ИЛИ допущено более одной ошибки	0
<i>Максимальный балл</i>	2

Система оценивания выполнения всей работы

Максимальный первичный балл за выполнение работы – 18.

Рекомендации по переводу первичных баллов в отметки по пятибалльной шкале

Отметка по пятибалльной шкале	«2»	«3»	«4»	«5»
Первичные баллы	0–4	5–8	9–13	14–18