

Тренировочная работа №1 по ИНФОРМАТИКЕ

11 класс

22 октября 2020 года

Вариант ИН2010103

Выполнена: ФИО _____ класс _____

Инструкция по выполнению работы

Тренировочная работа состоит из 27 заданий с кратким ответом, выполняемых с помощью компьютера.

На выполнение тренировочной работы по информатике и ИКТ отводится 3 часа 55 минут (235 минут).

Тренировочная работа выполняется с помощью специализированного программного обеспечения, предназначенного для проведения экзамена в компьютерной форме. При выполнении заданий Вам будут доступны на протяжении всего экзамена текстовый редактор, редактор электронных таблиц, системы программирования. Расположение указанного программного обеспечения на компьютере и каталог для создания электронных файлов при выполнении заданий Вам укажет организатор в аудитории.

На протяжении сдачи тренировочной работы доступ к сети Интернет запрещён.

При выполнении заданий можно пользоваться черновиком. **Записи в черновике не учитываются при оценивании работы.**

Баллы, полученные Вами за выполненные задания, суммируются.

Постарайтесь выполнить как можно больше заданий и набрать наибольшее количество баллов.

Желаем успеха!

В заданиях используются следующие соглашения.

1. Обозначения для логических связок (операций):

- а) *отрицание* (инверсия, логическое НЕ) обозначается \neg (например, $\neg A$);
- б) *конъюнкция* (логическое умножение, логическое И) обозначается \wedge (например, $A \wedge B$) либо $\&$ (например, $A \& B$);
- с) *дизъюнкция* (логическое сложение, логическое ИЛИ) обозначается \vee (например, $A \vee B$) либо $|$ (например, $A | B$);
- д) *следование* (импликация) обозначается \rightarrow (например, $A \rightarrow B$);
- е) *тождество* обозначается \equiv (например, $A \equiv B$); выражение $A \equiv B$ истинно тогда и только тогда, когда значения A и B совпадают (либо они оба истинны, либо они оба ложны);
- ф) символ 1 используется для обозначения истины (истинного высказывания); символ 0 – для обозначения лжи (ложного высказывания).

2. Два логических выражения, содержащие переменные, называются *равносильными* (эквивалентными), если значения этих выражений совпадают при любых значениях переменных. Так, выражения $A \rightarrow B$ и $(\neg A) \vee B$ равносильны, а $A \vee B$ и $A \wedge B$ неравносильны (значения выражений разные, например, при $A = 1, B = 0$).

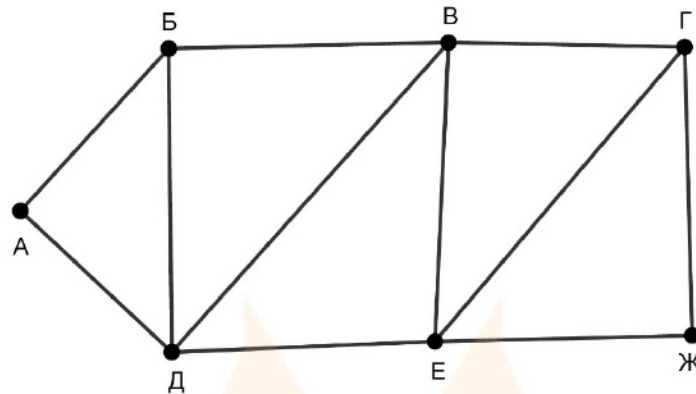
3. Приоритеты логических операций: инверсия (отрицание), конъюнкция (логическое умножение), дизъюнкция (логическое сложение), импликация (следование), тождество. Таким образом, $\neg A \wedge B \vee C \wedge D$ означает то же, что и $((\neg A) \wedge B) \vee (C \wedge D)$.

Возможна запись $A \wedge B \wedge C$ вместо $(A \wedge B) \wedge C$. То же относится и к дизъюнкции: возможна запись $A \vee B \vee C$ вместо $(A \vee B) \vee C$.

4. Обозначения Мбайт и Кбайт используются в традиционном для информатики смысле – как обозначения единиц измерения, соотношение которых с единицей «байт» выражается степенью двойки.

1

На рисунке схема дорог изображена в виде графа, в таблице содержатся сведения о длине этих дорог в километрах.



Так как таблицу и схему рисовали независимо друг от друга, нумерация населённых пунктов в таблице никак не связана с буквенными обозначениями на графе. Известно, что длина дороги ВЕ больше, чем длина дороги ВД. Определите длину дороги ГЖ. В ответе запишите целое число – длину дороги в километрах.

	П1	П2	П3	П4	П5	П6	П7
П1		19	18	21			
П2	19		23			15	16
П3	18	23		22			11
П4	21		22				
П5						10	12
П6		15			10		14
П7		16	11		12	14	

Ответ: _____.

MYOTVETI.RU

2 Логическая функция F задаётся выражением:

$$(w \vee \neg x) \wedge (w \equiv \neg y) \wedge (w \rightarrow z).$$

Дан частично заполненный фрагмент, содержащий **неповторяющиеся** строки таблицы истинности функции F .

Определите, какому столбцу таблицы истинности соответствует каждая из переменных w, x, y, z .

Переменная 1	Переменная 2	Переменная 3	Переменная 4	Функция
???	???	???	???	F
1		1	1	1
		1		1
1		1		1

В ответе напишите буквы w, x, y, z в том порядке, в котором идут соответствующие им столбцы (сначала буква, соответствующая первому столбцу; затем буква, соответствующая второму столбцу, и т. д.). Буквы в ответе пишите подряд, никаких разделителей между буквами ставить не нужно.

Пример. Пусть задано выражение $x \rightarrow y$, зависящее от двух переменных x и y , и фрагмент таблицы истинности:

Переменная 1	Переменная 2	Функция
???	???	F
0	1	0

Тогда первому столбцу соответствует переменная y , а второму столбцу – переменная x . В ответе нужно написать: yx .

Ответ: _____.

3

Даны фрагменты двух таблиц из базы данных. Каждая строка таблицы 2 содержит информацию о ребёнке и об одном из его родителей. Информация представлена значением поля ID в соответствующей строке таблицы 1. На основании имеющихся данных определите ID человека, у которого в момент рождения была самая молодая бабушка.

Таблица 1				Таблица 2	
ID	Фамилия_И.О.	Пол	Дата рождения	ID_Родителя	ID_Ребёнка
162	Горбатко С.И.	Ж	09.05.1968	351	162
169	Горбатко Е.М.	Ж	11.11.2016	717	169
253	Попович П.Н.	М	12.05.1998	394	253
351	Климук А.П.	Ж	13.04.1943	351	394
394	Попович Н.И.	Ж	08.09.1971	844	529
529	Савиных Г.А.	Ж	13.11.2017	949	609
609	Климук Н.П.	Ж	24.08.2015	162	717
717	Горбатко М.И.	М	17.06.1988	351	748
748	Климук О.И.	М	14.07.1965	949	807
807	Климук И.П.	М	01.03.2012	748	844
844	Савиных А.О.	Ж	22.12.1991	966	844
918	Горбатко Н.М.	М	12.04.2018	717	918
949	Климук П.О.	М	19.04.1988	748	949
966	Климук И.С.	Ж	15.02.1964	966	949
...

Ответ: _____.

4

Для передачи сообщений, содержащих только буквы К, Л, М, Н, О, П, Р, решили использовать неравномерный двоичный код, в котором никакое кодовое слово не является началом другого кодового слова. Это условие обеспечивает возможность однозначной расшифровки закодированных сообщений. Известны кодовые слова, использованные для некоторых букв: К – 0001, Л – 01, П – 001, Р – 1110. Какое кодовое слово надо назначить для буквы Н, чтобы код удовлетворял указанному условию и при этом длина слова ПОРОЛОН после кодирования была наименьшей? Если таких кодов несколько, укажите код с наименьшим числовым значением.

Ответ: _____.

5

Алгоритм получает на вход натуральное число N и строит по нему новое число R следующим образом:

1. Строится двоичная запись числа N .
2. Складываются все цифры полученной двоичной записи. В конец записи (справа) дописывается остаток от деления суммы на 2.
3. Предыдущий пункт повторяется для записи с добавленной цифрой.
4. Результат переводится в десятичную систему.

Пример. Дано число $N = 13$. Алгоритм работает следующим образом:

1. Двоичная запись числа N : 1101.
2. Сумма цифр двоичной записи 3, остаток от деления на 2 равен 1, новая запись 11011.
3. Сумма цифр полученной записи 4, остаток от деления на 2 равен 0, новая запись 110110.
4. Результат работы алгоритма $R = 54$.

При каком наименьшем числе N в результате работы алгоритма получится $R > 170$? В ответе запишите это число в десятичной системе счисления.

Ответ: _____.

MYOTVETI.RU

6

Определите, при каком наименьшем введённом значении переменной s программа выведет число 128. Для Вашего удобства программа представлена на четырёх языках программирования.

Паскаль	Python
<pre>var s, n: integer; begin readln(s); n := 4; while s < 37 do begin s := s + 3; n := n * 2; end; writeln(n); end.</pre>	<pre>s = int(input()) n = 4 while s < 37: s = s + 3 n = n * 2 print(n)</pre>
Алгоритмический язык	C++
<pre>алг нач цел s, n ввод s n := 4 нц пока s < 37 s := s + 3 n := n * 2 кц вывод n, нс кон</pre>	<pre>#include <iostream> using namespace std; int main() { int s, n; cin >> s; n = 4; while (s < 37) { s = s + 3; n = n * 2; } cout << n << endl; return 0; }</pre>

Ответ: _____.

7

Для хранения произвольного растрового изображения размером 128×320 пикселей отведено 50 Кбайт памяти без учёта размера заголовка файла. Для кодирования цвета каждого пикселя используется одинаковое количество битов, коды пикселей записываются в файл один за другим без промежутков. Какое максимальное количество цветов можно использовать в изображении?

Ответ: _____.

- 8 Андрей составляет 7-буквенные коды из букв А, Н, Д, Р, Е, Й. Буквы А и Й должны встречаться в коде ровно по одному разу, при этом буква Й не может стоять на первом месте. Остальные допустимые буквы могут встречаться произвольное количество раз или не встречаться совсем. Сколько различных кодов может составить Андрей?

Ответ: _____.

Задание выполняется с использованием прилагаемых файлов.

- 9 Электронная таблица содержит результаты ежечасного измерения температуры воздуха на протяжении трёх месяцев. Определите, сколько раз за время наблюдений суточные колебания температуры (разность между максимальной и минимальной температурой в течение суток) превышали 17 градусов.

Ответ: _____.

Задание выполняется с использованием прилагаемых файлов.

- 10 Определите, сколько раз в тексте произведения А. С. Пушкина «Капитанская дочка» встречается слово «дочка» или «Дочка». Другие формы этого слова («дочку», «дочки» и т. д.) учитывать не надо.

Ответ: _____.

- 11 При регистрации на сервере каждый пользователь получает уникальный персональный код, состоящий из 17 символов, каждый из которых может быть одной из 26 заглавных латинских букв или одной из 10 цифр. При этом в базе данных сервера формируется запись, содержащая этот код и дополнительную информацию о пользователе. Для представления кода используют посимвольное кодирование, все символы кодируют одинаковым минимально возможным количеством битов, а для кода в целом выделяется минимально возможное целое количество байтов. Для хранения данных о 30 пользователях потребовалось 2400 байт. Сколько байтов выделено для хранения дополнительной информации об одном пользователе? В ответе запишите только целое число – количество байтов.

Ответ: _____.

12 Исполнитель Редактор получает на вход строку цифр и преобразует её. Редактор может выполнять две команды, в обеих командах v и w обозначают цепочки цифр.

А) **заменить** (v, w).

Эта команда заменяет в строке первое слева вхождение цепочки v на цепочку w . Например, выполнение команды

заменить (111, 27)

преобразует строку 05111150 в строку 0527150.

Если в строке нет вхождений цепочки v , то выполнение команды **заменить** (v, w) не меняет эту строку.

Б) **нашлось** (v).

Эта команда проверяет, встречается ли цепочка v в строке исполнителя Редактор. Если она встречается, то команда возвращает логическое значение «истина», в противном случае возвращает значение «ложь». Строка исполнителя при этом не изменяется.

Цикл

ПОКА *условие*

последовательность команд

КОНЕЦ ПОКА

выполняется, пока условие истинно.

Какая строка получится в результате применения приведённой ниже программы к строке, состоящей из 99 единиц?

НАЧАЛО

ПОКА **нашлось** (111)

заменить (111, 22)

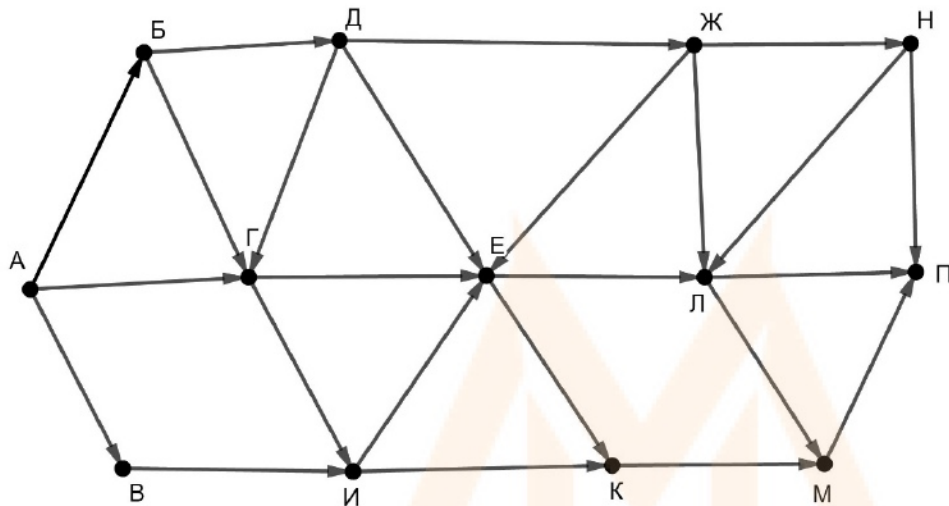
заменить (222, 11)

КОНЕЦ ПОКА

КОНЕЦ

Ответ: _____.

- 13** На рисунке представлена схема дорог, связывающих пункты А, Б, В, Г, Д, Е, Ж, И, К, Л, М, Н, П. По каждой дороге можно передвигаться только в направлении, указанном стрелкой. Сколько существует различных путей из пункта А в пункт П, проходящих через пункт Е?



Ответ: _____.

- 14** Значение выражения $81^{17} + 3^{24} - 45$ записали в системе счисления с основанием 9. Сколько цифр 8 содержится в этой записи?

Ответ: _____.

- 15** Обозначим через $\text{ДЕЛ}(n, m)$ утверждение «натуральное число n делится без остатка на натуральное число m ».

Для какого наибольшего натурального числа A формула

$$(A < 50) \wedge (\neg \text{ДЕЛ}(x, A) \rightarrow (\text{ДЕЛ}(x, 10) \rightarrow \neg \text{ДЕЛ}(x, 12)))$$

тождественно истинна, т. е. принимает значение 1 при любом натуральном x ?

Ответ: _____.

- 16 Алгоритм вычисления значения функции $F(n)$, где n – натуральное число, задан следующими соотношениями:

$$F(1) = 1;$$

$$F(n) = n + F(n-2), \text{ если } n > 1 \text{ и при этом } n \text{ нечётно};$$

$$F(n) = n \times F(n-1), \text{ если } n \text{ чётно.}$$

Чему равно значение функции $F(60)$?

Ответ: _____.

- 17 Определите количество принадлежащих отрезку $[2 \cdot 10^{10}; 4 \cdot 10^{10}]$ натуральных чисел, которые делятся на 7 и на 100 000 и при этом не делятся на 13, 29, 43 и 101, а также наименьшее из таких чисел. В ответе запишите два целых числа: сначала количество, затем наименьшее число.

Ответ:

--	--

Задание выполняется с использованием прилагаемых файлов.

- 18 Дана последовательность вещественных чисел. Из неё необходимо выбрать несколько подряд идущих чисел так, чтобы каждое следующее число было меньше предыдущего. Какую максимальную сумму могут иметь выбранные числа?

В ответе запишите только целую часть максимально возможной суммы.

Исходная последовательность записана в виде одного столбца электронной таблицы.

Пример входных данных:

5,2
3,1
1,2
2,3
7,1
3,3

Для указанных входных максимально возможная сумма равна 10,4, в ответе надо записать число 10.

Ответ:

--

19 Два игрока, Петя и Ваня, играют в следующую игру. Перед игроками лежат две кучи камней. Игроки ходят по очереди, первый ход делает Петя. За один ход игрок может **добавить** в одну из куч **один камень** или **увеличить** количество камней **в куче в три раза**. Например, пусть в одной куче 7 камней, а в другой 9 камней; такую позицию мы будем обозначать $(7, 9)$. За один ход из позиции $(7, 9)$ можно получить любую из четырёх позиций: $(8, 9)$, $(21, 9)$, $(7, 10)$, $(7, 27)$. Чтобы делать ходы, у каждого игрока есть неограниченное количество камней. Игра завершается в тот момент, когда суммарное количество камней в кучах становится не менее 49. Победителем считается игрок, сделавший последний ход, т. е. первым получивший позицию, в которой в кучах будет 49 или больше камней.

В начальный момент в первой куче было 5 камней, во второй куче – S камней, $1 \leq S \leq 43$.

Будем говорить, что игрок имеет *выигрышную стратегию*, если он может выиграть при любых ходах противника.

Известно, что Ваня выиграл своим первым ходом после неудачного первого хода Пети. Назовите минимальное значение S , при котором это возможно.

Ответ: _____.

20 Для игры, описанной в задании 19, найдите два таких значения S , при которых у Пети есть выигрышная стратегия, причём Петя не может выиграть первым ходом, но может выиграть своим вторым ходом независимо от того, как будет ходить Ваня.

Найденные значения запишите в ответе в порядке возрастания.

Ответ:

--	--

21 Для игры, описанной в задании 19, укажите такое значение S , при котором у Вани есть выигрышная стратегия, позволяющая ему выиграть первым или вторым ходом при любой игре Пети, и при этом у Вани нет стратегии, которая позволит ему гарантированно выиграть первым ходом.

Ответ: _____.

22

Ниже на четырёх языках программирования записана программа, которая вводит натуральное число x , выполняет преобразования, а затем выводит одно число. Укажите **наименьшее** возможное значение x , при вводе которого программа выведет число 48.

Python	Паскаль
<pre>x = int(input()) a = 1 while x > 0: a *= x % 7 x = x // 7 print(a)</pre>	<pre>var x, a: integer; begin readln(x); a := 1; while x > 0 do begin a := a * (x mod 7); x := x div 7 end; writeln(a) end.</pre>
C++	Алгоритмический язык
<pre>#include <iostream> using namespace std; int main() { int x, a; cin >> x; a = 1; while (x > 0) { a *= x % 7; x = x / 7; } cout << a << endl; return 0; }</pre>	<pre>алг нач цел x, a ввод x a := 1 нц пока x > 0 a := a * mod(x,7) x := div(x,7) кц вывод a кон</pre>

Ответ: _____.

23 Исполнитель преобразует число на экране.

У исполнителя есть две команды, которым присвоены номера:

1. Прибавить 1

2. Умножить на 3

Первая команда увеличивает число на экране на 1, вторая умножает его на 3.

Программа для исполнителя – это последовательность команд.

Сколько существует программ, которые преобразуют исходное число 1 в число 70, и при этом траектория вычислений содержит число 22?

Траектория вычислений – это последовательность результатов выполнения всех команд программы. Например, для программы 212 при исходном числе 4 траектория будет состоять из чисел 12, 13, 39.

Ответ: _____.

Задание выполняется с использованием прилагаемых файлов.

24 Текстовый файл содержит строки различной длины. Общий объём файла не превышает 1 Мбайт. Строки содержат только заглавные буквы латинского алфавита (A...Z). Определите количество строк, в которых буква E встречается чаще, чем буква A.

Ответ: _____.

25 Назовём *нетривиальным делителем* натурального числа его делитель, не равный единице и самому числу. Например, у числа 6 есть два нетривиальных делителя: 2 и 3. Найдите все натуральные числа, принадлежащие отрезку $[123456789; 223456789]$ и имеющие ровно три нетривиальных делителя. Для каждого найденного числа запишите в ответе его наибольший нетривиальный делитель. Ответы расположите в порядке возрастания.

Ответ:

...

Задание выполняется с использованием прилагаемых файлов.**26**

Продавец предоставляет покупателю, делающему большую закупку, скидку по следующим правилам:

- на каждый второй товар стоимостью больше 50 рублей предоставляется скидка 25 %;
- общая стоимость покупки со скидкой округляется вверх до целого числа рублей;
- порядок товаров в списке определяет продавец и делает это так, чтобы общая сумма скидки была наименьшей.

По известной стоимости каждого товара в покупке необходимо определить общую стоимость покупки с учётом скидки и стоимость самого дорогого товара, на который будет предоставлена скидка.

Входные данные

Первая строка входного файла содержит число N – общее количество купленных товаров. Каждая из следующих N строк содержит одно целое число – стоимость товара в рублях.

В ответе запишите два целых числа: сначала общую стоимость покупки с учётом скидки, затем стоимость самого дорогого товара, на который будет предоставлена скидка.

Пример входного файла

6
125
50
490
215
144
320

В данном случае товар стоимостью 50 не участвует в определении скидки, остальные товары продавцу выгодно расположить в таком порядке цен: 490, 125, 215, 144, 320. Тогда скидка предоставляется на товары стоимостью 125 и 144. Стоимость этих двух товаров со скидкой составит 201,75 руб., после округления – 202 руб. Общая стоимость покупки составит:

$$50 + 490 + 215 + 320 + 202 = 1277 \text{ руб.}$$

Самый дорогой товар, на который будет получена скидка, стоит 144 руб. В ответе нужно записать числа 1277 и 144.

Ответ:

--	--

Задание выполняется с использованием прилагаемых файлов.

- 27** Набор данных состоит из пар натуральных чисел. Необходимо выбрать из каждой пары ровно одно число так, чтобы сумма всех выбранных чисел делилась на 3 и при этом была максимально возможной.

Входные данные

Первая строка входного файла содержит число N – общее количество пар в наборе. Каждая из следующих N строк содержит два натуральных числа, не превышающих 10 000.

Пример входного файла

6
1 3
5 10
6 9
5 4
3 3
1 1

Для указанных данных искомая сумма равна 30.

Вам даны два входных файла (A и B), каждый из которых имеет описанную выше структуру. В ответе укажите два числа: сначала значение искомой суммы для файла A, затем для файла B.

Ответ:

--	--

Тренировочная работа №1 по ИНФОРМАТИКЕ

11 класс

22 октября 2020 года

Вариант ИН2010104

Выполнена: ФИО _____ класс _____

Инструкция по выполнению работы

Тренировочная работа состоит из 27 заданий с кратким ответом, выполняемых с помощью компьютера.

На выполнение тренировочной работы по информатике и ИКТ отводится 3 часа 55 минут (235 минут).

Тренировочная работа выполняется с помощью специализированного программного обеспечения, предназначенного для проведения экзамена в компьютерной форме. При выполнении заданий Вам будут доступны на протяжении всего экзамена текстовый редактор, редактор электронных таблиц, системы программирования. Расположение указанного программного обеспечения на компьютере и каталог для создания электронных файлов при выполнении заданий Вам укажет организатор в аудитории.

На протяжении сдачи тренировочной работы доступ к сети Интернет запрещён.

При выполнении заданий можно пользоваться черновиком. **Записи в черновике не учитываются при оценивании работы.**

Баллы, полученные Вами за выполненные задания, суммируются.

Постарайтесь выполнить как можно больше заданий и набрать наибольшее количество баллов.

Желаем успеха!

В заданиях используются следующие соглашения.

1. Обозначения для логических связок (операций):

- а) *отрицание* (инверсия, логическое НЕ) обозначается \neg (например, $\neg A$);
- б) *конъюнкция* (логическое умножение, логическое И) обозначается \wedge (например, $A \wedge B$) либо $\&$ (например, $A \& B$);
- с) *дизъюнкция* (логическое сложение, логическое ИЛИ) обозначается \vee (например, $A \vee B$) либо $|$ (например, $A | B$);
- д) *следование* (импликация) обозначается \rightarrow (например, $A \rightarrow B$);
- е) *тождество* обозначается \equiv (например, $A \equiv B$); выражение $A \equiv B$ истинно тогда и только тогда, когда значения A и B совпадают (либо они оба истинны, либо они оба ложны);
- ф) символ 1 используется для обозначения истины (истинного высказывания); символ 0 – для обозначения лжи (ложного высказывания).

2. Два логических выражения, содержащие переменные, называются *равносильными* (эквивалентными), если значения этих выражений совпадают при любых значениях переменных. Так, выражения $A \rightarrow B$ и $(\neg A) \vee B$ равносильны, а $A \vee B$ и $A \wedge B$ неравносильны (значения выражений разные, например, при $A = 1, B = 0$).

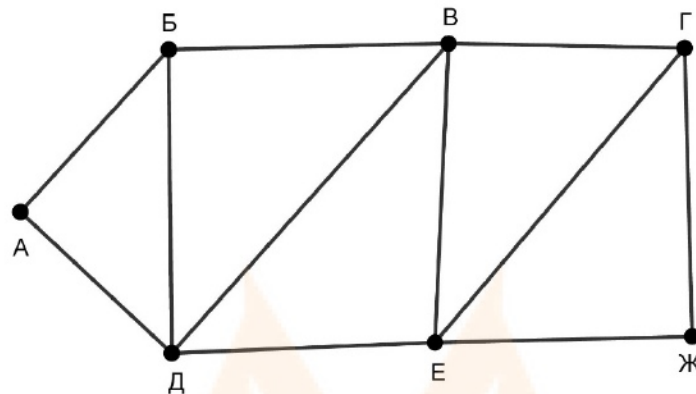
3. Приоритеты логических операций: инверсия (отрицание), конъюнкция (логическое умножение), дизъюнкция (логическое сложение), импликация (следование), тождество. Таким образом, $\neg A \wedge B \vee C \wedge D$ означает то же, что и $((\neg A) \wedge B) \vee (C \wedge D)$.

Возможна запись $A \wedge B \wedge C$ вместо $(A \wedge B) \wedge C$. То же относится и к дизъюнкции: возможна запись $A \vee B \vee C$ вместо $(A \vee B) \vee C$.

4. Обозначения Мбайт и Кбайт используются в традиционном для информатики смысле – как обозначения единиц измерения, соотношение которых с единицей «байт» выражается степенью двойки.

1

На рисунке схема дорог изображена в виде графа, в таблице содержатся сведения о длине этих дорог в километрах.



Так как таблицу и схему рисовали независимо друг от друга, нумерация населённых пунктов в таблице никак не связана с буквенными обозначениями на графе. Известно, что длина дороги ВЕ меньше, чем длина дороги ВД. Определите длину дороги АД. В ответе запишите целое число – длину дороги в километрах.

	П1	П2	П3	П4	П5	П6	П7
П1				23		20	
П2			14		15		9
П3		14		17	24	18	
П4	23		17		12	19	
П5		15	24	12			13
П6	20		18	19			
П7		9			13		

Ответ: _____.

2 Логическая функция F задаётся выражением:

$$(x \rightarrow y) \wedge (x \vee \neg z) \wedge (x \equiv \neg w).$$

Дан частично заполненный фрагмент, содержащий **неповторяющиеся** строки таблицы истинности функции F .

Определите, какому столбцу таблицы истинности соответствует каждая из переменных w, x, y, z .

Переменная 1	Переменная 2	Переменная 3	Переменная 4	Функция
???	???	???	???	F
1	1		1	1
	1			1
	1		1	1

В ответе напишите буквы w, x, y, z в том порядке, в котором идут соответствующие им столбцы (сначала буква, соответствующая первому столбцу; затем буква, соответствующая второму столбцу, и т. д.). Буквы в ответе пишите подряд, никаких разделителей между буквами ставить не нужно.

Пример. Пусть задано выражение $x \rightarrow y$, зависящее от двух переменных x и y , и фрагмент таблицы истинности:

Переменная 1	Переменная 2	Функция
???	???	F
0	1	0

Тогда первому столбцу соответствует переменная y , а второму столбцу – переменная x . В ответе нужно написать: yx .

Ответ: _____.

3

Даны фрагменты двух таблиц из базы данных. Каждая строка таблицы 2 содержит информацию о ребёнке и об одном из его родителей. Информация представлена значением поля ID в соответствующей строке таблицы 1. На основании имеющихся данных определите ID человека, у которого в момент рождения была самая молодая бабушка.

Таблица 1			
ID	Фамилия_И.О.	Пол	Дата рождения
162	Горбатко С.И.	Ж	09.05.1968
169	Горбатко Е.М.	Ж	11.11.2016
253	Попович П.Н.	М	12.05.1998
351	Климук А.П.	Ж	13.04.1943
394	Попович Н.И.	Ж	08.09.1971
529	Савиных Г.А.	Ж	13.11.2017
609	Климук Н.П.	Ж	24.08.2015
717	Горбатко М.И.	М	17.06.1988
748	Климук О.И.	М	14.07.1965
807	Климук И.П.	М	01.03.2012
844	Савиных А.О.	Ж	22.02.1988
918	Горбатко Н.М.	М	12.04.2018
949	Климук П.О.	М	19.10.1991
966	Климук И.С.	Ж	15.02.1964
...

Таблица 2	
ID_Родителя	ID_Ребёнка
351	162
717	169
394	253
351	394
844	529
949	609
162	717
351	748
949	807
748	844
966	844
717	918
748	949
966	949
...	...

Ответ: _____.

4

Для передачи сообщений, содержащих только буквы К, Л, М, Н, О, П, Р, решили использовать неравномерный двоичный код, в котором никакое кодовое слово не является началом другого кодового слова. Это условие обеспечивает возможность однозначной расшифровки закодированных сообщений. Известны кодовые слова, использованные для некоторых букв: К – 11, Л – 000, П – 0010, Р – 1011. Какое кодовое слово надо назначить для буквы М, чтобы код удовлетворял указанному условию и при этом длина слова МОЛОКО после кодирования была наименьшей? Если таких кодов несколько, укажите код с наименьшим числовым значением.

Ответ: _____.

5

Алгоритм получает на вход натуральное число N и строит по нему новое число R следующим образом:

1. Строится двоичная запись числа N .
2. Складываются все цифры полученной двоичной записи. В конец записи (справа) дописывается остаток от деления суммы на 2.
3. Предыдущий пункт повторяется для записи с добавленной цифрой.
4. Результат переводится в десятичную систему.

Пример. Дано число $N = 13$. Алгоритм работает следующим образом:

1. Двоичная запись числа N : 1101.
2. Сумма цифр двоичной записи 3, остаток от деления на 2 равен 1, новая запись 11011.
3. Сумма цифр полученной записи 4, остаток от деления на 2 равен 0, новая запись 110110.
4. Результат работы алгоритма $R = 54$.

При каком наименьшем числе N в результате работы алгоритма получится $R > 154$? В ответе запишите это число в десятичной системе счисления.

Ответ: _____.

MYOTVETI.RU

6

Определите, при каком наименьшем введённом значении переменной s программа выведет число 128. Для Вашего удобства программа представлена на четырёх языках программирования.

Паскаль	Python
<pre>var s, n: integer; begin readln(s); n := 2; while s < 37 do begin s := s + 3; n := n * 2; end; writeln(n); end.</pre>	<pre>s = int(input()) n = 2 while s < 37: s = s + 3 n = n * 2 print(n)</pre>
Алгоритмический язык	C++
<pre>алг нач цел s, n ввод s n := 2 нц пока s < 37 s := s + 3 n := n * 2 кц вывод n, нс кон</pre>	<pre>#include <iostream> using namespace std; int main() { int s, n; cin >> s; n = 2; while (s < 37) { s = s + 3; n = n * 2; } cout << n << endl; return 0; }</pre>

Ответ: _____.

7

Для хранения произвольного растрового изображения размером 128×320 пикселей отведено 30 Кбайт памяти без учёта размера заголовка файла. Для кодирования цвета каждого пикселя используется одинаковое количество битов, коды пикселей записываются в файл один за другим без промежутков. Какое максимальное количество цветов можно использовать в изображении?

Ответ: _____.

- 8 Игорь составляет 8-буквенные коды из букв И, Г, О, Р, Ь. Буквы О и Ь должны встречаться в коде ровно по одному разу, при этом буква Ь не может стоять на первом месте. Остальные допустимые буквы могут встречаться произвольное количество раз или не встречаться совсем. Сколько различных кодов может составить Игорь?

Ответ: _____.

Задание выполняется с использованием прилагаемых файлов.

- 9 Электронная таблица содержит результаты ежечасного измерения температуры воздуха на протяжении трёх месяцев. Определите, сколько раз за время наблюдений суточные колебания температуры (разность между максимальной и минимальной температурой в течение суток) были меньше 14 градусов.

Ответ: _____.

Задание выполняется с использованием прилагаемых файлов.

- 10 Определите, сколько раз **в тексте** произведения А.С. Пушкина «Капитанская дочка» встречается слово «капитанская» или «Капитанская». Другие формы этого слова («капитанскую», «капитанские» и т. д.) учитывать не надо.

Ответ: _____.

- 11 При регистрации на сервере каждый пользователь получает уникальный персональный код, состоящий из 19 символов, каждый из которых может быть одной из 26 заглавных латинских букв или одной из 10 цифр. При этом в базе данных сервера формируется запись, содержащая этот код и дополнительную информацию о пользователе. Для представления кода используют посимвольное кодирование, все символы кодируют одинаковым минимально возможным количеством битов, а для кода в целом выделяется минимально возможное целое количество байтов. Для хранения данных о 40 пользователях потребовалось 2800 байтов. Сколько байт выделено для хранения дополнительной информации об одном пользователе? В ответе запишите только целое число – количество байтов.

Ответ: _____.

12 Исполнитель Редактор получает на вход строку цифр и преобразует её. Редактор может выполнять две команды, в обеих командах v и w обозначают цепочки цифр.

А) **заменить** (v, w).

Эта команда заменяет в строке первое слева вхождение цепочки v на цепочку w . Например, выполнение команды

заменить (111, 27)

преобразует строку 05111150 в строку 0527150.

Если в строке нет вхождений цепочки v , то выполнение команды **заменить** (v, w) не меняет эту строку.

Б) **нашлось** (v).

Эта команда проверяет, встречается ли цепочка v в строке исполнителя Редактор. Если она встречается, то команда возвращает логическое значение «истина», в противном случае возвращает значение «ложь». Строка исполнителя при этом не изменяется.

Цикл

ПОКА *условие*

последовательность команд

КОНЕЦ ПОКА

выполняется, пока условие истинно.

Какая строка получится в результате применения приведённой ниже программы к строке, состоящей из 101 единицы?

НАЧАЛО

ПОКА **нашлось** (111)

заменить (111, 22)

заменить (222, 11)

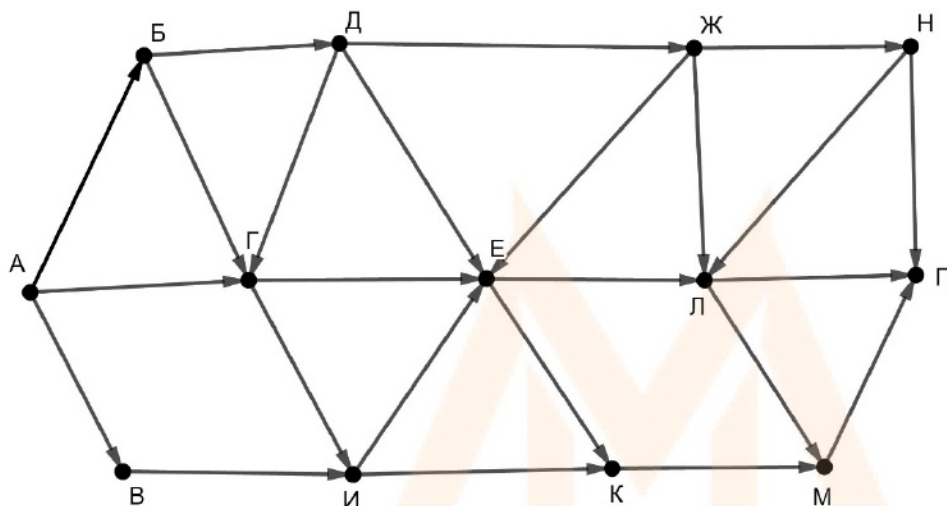
КОНЕЦ ПОКА

КОНЕЦ

Ответ: _____.

13

На рисунке представлена схема дорог, связывающих пункты А, Б, В, Г, Д, Е, Ж, И, К, Л, М, Н, П. По каждой дороге можно передвигаться только в направлении, указанном стрелкой. Сколько существует различных путей из пункта А в пункт П, проходящих через пункт Г?



Ответ: _____.

14

Значение выражения $81^{15} + 3^{22} - 27$ записали в системе счисления с основанием 9. Сколько цифр 8 содержится в этой записи?

Ответ: _____.

15

Обозначим через $\text{ДЕЛ}(n, m)$ утверждение «натуральное число n делится без остатка на натуральное число m ».

Для какого наибольшего натурального числа A формула

$$(A < 50) \wedge (\neg \text{ДЕЛ}(x, A) \rightarrow (\text{ДЕЛ}(x, 10) \rightarrow \neg \text{ДЕЛ}(x, 18)))$$

тождественно истинна, т. е. принимает значение 1 при любом натуральном x ?

Ответ: _____.

- 16 Алгоритм вычисления значения функции $F(n)$, где n – натуральное число, задан следующими соотношениями:

$$F(1) = 1;$$

$$F(n) = n + F(n-2), \text{ если } n > 1 \text{ и при этом } n \text{ нечётно};$$

$$F(n) = n \times F(n-1), \text{ если } n \text{ чётно}.$$

Чему равно значение функции $F(40)$?

Ответ: _____.

- 17 Определите количество принадлежащих отрезку $[3 \cdot 10^{10}; 5 \cdot 10^{10}]$ натуральных чисел, которые делятся на 11 и на 100 000 и при этом не делятся на 17, 23, 41 и 103, а также наименьшее из таких чисел. В ответе запишите два целых числа: сначала количество, затем наименьшее число.

Ответ:

--	--

Задание выполняется с использованием прилагаемых файлов.

- 18 Дана последовательность вещественных чисел. Из неё необходимо выбрать несколько подряд идущих чисел так, чтобы каждое следующее число было больше предыдущего. Какую максимальную сумму могут иметь выбранные числа?

В ответе запишите только целую часть максимально возможной суммы.

Исходная последовательность записана в виде одного столбца электронной таблицы.

Пример входных данных:

5,2
3,1
6,2
2,3
3,1
3,3

Для указанных входных данных максимально возможная сумма равна 9,3, в ответе надо записать число 9.

Ответ:

--

19 Два игрока, Петя и Ваня, играют в следующую игру. Перед игроками лежат две кучи камней. Игроки ходят по очереди, первый ход делает Петя. За один ход игрок может **добавить** в одну из куч **один камень** или **увеличить** количество камней **в куче в три раза**. Например, пусть в одной куче 7 камней, а в другой 9 камней; такую позицию мы будем обозначать $(7, 9)$. За один ход из позиции $(7, 9)$ можно получить любую из четырёх позиций: $(8, 9)$, $(21, 9)$, $(7, 10)$, $(7, 27)$. Чтобы делать ходы, у каждого игрока есть неограниченное количество камней. Игра завершается в тот момент, когда суммарное количество камней в кучах становится не менее 45. Победителем считается игрок, сделавший последний ход, т. е. первым получивший позицию, в которой в кучах будет 45 или больше камней.

В начальный момент в первой куче было 4 камня, во второй куче – S камней, $1 \leq S \leq 40$.

Будем говорить, что игрок имеет *выигрышную стратегию*, если он может выиграть при любых ходах противника.

Известно, что Ваня выиграл своим первым ходом после неудачного первого хода Пети. Назовите минимальное значение S , при котором это возможно.

Ответ: _____.

20 Для игры, описанной в задании 19, найдите два таких значения S , при которых у Пети есть выигрышная стратегия, причём Петя не может выиграть первым ходом, но может выиграть своим вторым ходом независимо от того, как будет ходить Ваня.

Найденные значения запишите в ответе в порядке возрастания.

Ответ:

--	--

21 Для игры, описанной в задании 19, укажите такое значение S , при котором у Вани есть выигрышная стратегия, позволяющая ему выиграть первым или вторым ходом при любой игре Пети, и при этом у Вани нет стратегии, которая позволит ему гарантированно выиграть первым ходом.

Ответ: _____.

22

Ниже на четырёх языках программирования записана программа, которая вводит натуральное число x , выполняет преобразования, а затем выводит одно число. Укажите **наименьшее** возможное значение x , при вводе которого программа выведет число 40.

Python	Паскаль
<pre>x = int(input()) a = 1 while x > 0: a *= x % 7 x = x // 7 print(a)</pre>	<pre>var x, a: integer; begin readln(x); a := 1; while x > 0 do begin a := a * (x mod 7); x := x div 7 end; writeln(a) end.</pre>
C++	Алгоритмический язык
<pre>#include <iostream> using namespace std; int main() { int x, a; cin >> x; a = 1; while (x > 0) { a *= x % 7; x = x / 7; } cout << a << endl; return 0; }</pre>	<pre>алг нач цел x, a ввод x a := 1 нц пока x > 0 a := a * mod(x, 7) x := div(x, 7) кц вывод a кон</pre>

Ответ: _____.

23 Исполнитель преобразует число на экране.

У исполнителя есть две команды, которым присвоены номера:

1. Прибавить 1

2. Умножить на 3

Первая команда увеличивает число на экране на 1, вторая умножает его на 3.

Программа для исполнителя – это последовательность команд.

Сколько существует программ, которые преобразуют исходное число 1 в число 65, и при этом траектория вычислений содержит число 20?

Траектория вычислений – это последовательность результатов выполнения всех команд программы. Например, для программы 212 при исходном числе 4 траектория будет состоять из чисел 12, 13, 39.

Ответ: _____.

Задание выполняется с использованием прилагаемых файлов.

24 Текстовый файл содержит строки различной длины. Общий объём файла не превышает 1 Мбайт. Строки содержат только заглавные буквы латинского алфавита (A...Z). Определите количество строк, в которых буква A встречается чаще, чем буква E.

Ответ: _____.

25 Назовём *нетривиальным делителем* натурального числа его делитель, не равный единице и самому числу. Например, у числа 6 есть два нетривиальных делителя: 2 и 3. Найдите все натуральные числа, принадлежащие отрезку $[289123456; 389123456]$ и имеющие ровно три нетривиальных делителя. Для каждого найденного числа запишите в ответе его наибольший нетривиальный делитель. Ответы расположите в порядке возрастания.

Ответ:

...

Задание выполняется с использованием прилагаемых файлов.

26

Продавец предоставляет покупателю, делающему большую закупку, скидку по следующим правилам:

- на каждый второй товар стоимостью больше 100 рублей предоставляется скидка 30 %;
- общая стоимость покупки со скидкой округляется вверх до целого числа рублей;
- порядок товаров в списке определяет продавец и делает это так, чтобы общая сумма скидки была наименьшей.

По известной стоимости каждого товара в покупке необходимо определить общую стоимость покупки с учётом скидки и стоимость самого дорогого товара, на который будет предоставлена скидка.

Входные данные

Первая строка входного файла содержит число N – общее количество купленных товаров. Каждая из следующих N строк содержит одно целое число – стоимость товара в рублях.

В ответе запишите два целых числа: сначала общую стоимость покупки с учётом скидки, затем стоимость самого дорогого товара, на который будет предоставлена скидка.

Пример входного файла

6
125
100
490
215
144
320

В данном случае товар стоимостью 100 не участвует в определении скидки, остальные товары продавцу выгодно расположить в таком порядке цен: 490, 125, 215, 144, 320. Тогда скидка предоставляется на товары стоимостью 125 и 144. Стоимость этих двух товаров со скидкой составит 188,3 руб., после округления – 189 руб. Общая стоимость покупки составит:

$$100 + 490 + 215 + 320 + 189 = 1314 \text{ руб.}$$

Самый дорогой товар, на который будет получена скидка, стоит 144 руб.

В ответе нужно записать числа 1314 и 144.

Ответ:

--	--

Задание выполняется с использованием прилагаемых файлов.

- 27** Набор данных состоит из пар натуральных чисел. Необходимо выбрать из каждой пары ровно одно число так, чтобы сумма всех выбранных чисел делилась на 3 и при этом была минимально возможной.

Входные данные

Первая строка входного файла содержит число N – общее количество пар в наборе. Каждая из следующих N строк содержит два натуральных числа, не превышающих 10 000.

Пример входного файла

6
1 3
5 12
6 9
5 4
3 3
1 1

Для указанных данных искомая сумма равна 21.

Вам даны два входных файла (A и B), каждый из которых имеет описанную выше структуру. В ответе укажите два числа: сначала значение искомой суммы для файла A, затем для файла B.

Ответ:

--	--