

Тренировочная работа №2 по МАТЕМАТИКЕ

9 класс

25 ноября 2020 года

Вариант МА2090301

Выполнена: ФИО _____ класс _____

Инструкция по выполнению работы

Работа состоит из двух частей, включающих в себя 25 заданий. Часть 1 содержит 19 заданий, часть 2 содержит 6 заданий с развёрнутым ответом.

На выполнение работы по математике отводится 3 часа 55 минут (235 минут).

Ответы к заданиям 7 и 13 запишите в виде одной цифры, которая соответствует номеру правильного ответа.

Для остальных заданий части 1 ответом является число или последовательность цифр. Если получилась обыкновенная дробь, ответ запишите в виде десятичной.

Решения заданий части 2 и ответы к ним запишите на отдельном листе бумаги. Задания можно выполнять в любом порядке. Текст задания переписывать не надо, необходимо только указать его номер.

Сначала выполняйте задания части 1. Начать советуем с тех заданий, которые вызывают у Вас меньше затруднений, затем переходите к другим заданиям. Для экономии времени пропускайте задание, которое не удаётся выполнить сразу, и переходите к следующему. Если у Вас останется время, Вы сможете вернуться к пропущенным заданиям.

При выполнении части 1 все необходимые вычисления, преобразования выполняйте в черновике. **Записи в черновике, а также в тексте контрольных измерительных материалов не учитываются при оценивании работы.**

Если задание содержит рисунок, то на нём непосредственно в тексте работы можно выполнять необходимые Вам построения. Рекомендуем внимательно читать условие и проводить проверку полученного ответа.

При выполнении работы Вы можете воспользоваться справочными материалами, выданными вместе с вариантом КИМ, и линейкой.

Баллы, полученные Вами за выполненные задания, суммируются. Постарайтесь выполнить как можно больше заданий и набрать наибольшее количество баллов.

После завершения работы проверьте, чтобы ответ на каждое задание был записан под правильным номером.

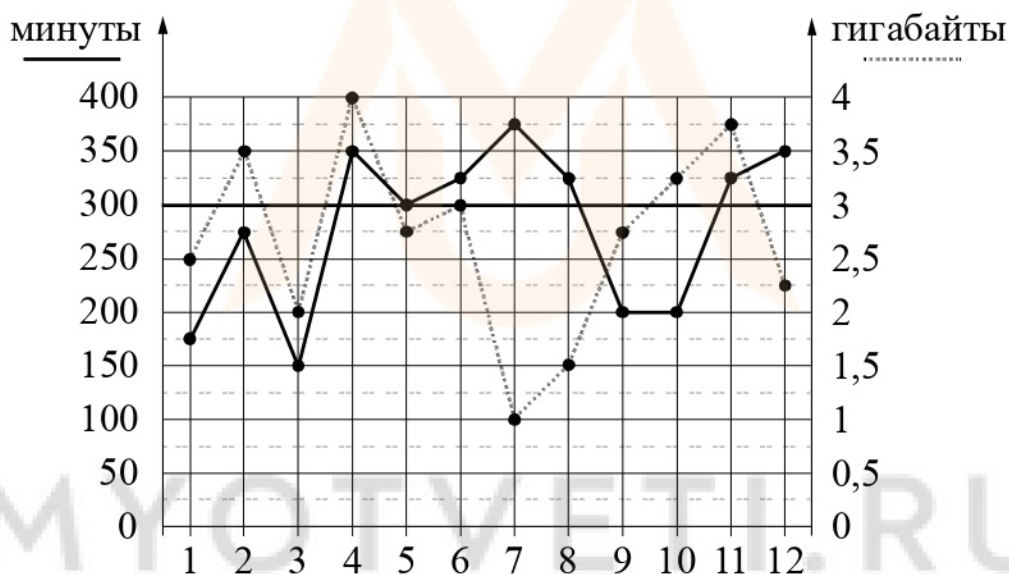
Желаем успеха!

Часть 1

Ответами к заданиям 1–19 являются число или последовательность цифр.

Прочитайте внимательно текст и выполните задания 1–5.

На рисунке точками показано количество минут исходящих вызовов и трафик мобильного интернета в гигабайтах, израсходованных абонентом в процессе пользования смартфоном, за каждый месяц 2019 года. Для удобства точки, соответствующие минутам и гигабайтам, соединены сплошными и пунктирными линиями соответственно.



В течение года абонент пользовался тарифом «Стандартный», абонентская плата по которому составляла 350 рублей в месяц. При условии нахождения абонента на территории РФ в абонентскую плату тарифа «Стандартный» входит:

- пакет минут, включающий 300 минут исходящих вызовов на номера, зарегистрированные на территории РФ;
- пакет интернета, включающий 3 гигабайта мобильного интернета;
- пакет СМС, включающий 120 СМС в месяц;
- безлимитные бесплатные входящие вызовы.

Стоимость минут, интернета и СМС сверх пакета тарифа указана в таблице.

Исходящие вызовы	3 руб./мин.
Мобильный интернет (пакет)	90 руб. за 0,5 Гб
СМС	2 руб./шт.

Абонент не пользовался услугами связи в роуминге. За весь год абонент отправил 110 СМС.

1 Определите, какие месяцы соответствуют указанному в таблице трафику мобильного интернета.

Заполните таблицу, в бланк ответов перенесите числа, соответствующие номерам месяцев, без пробелов, запятых и других дополнительных символов (например, для месяцев май, январь, ноябрь, август в ответе нужно записать число 51118).

Мобильный интернет	2,5 Гб	3 Гб	3,25 Гб	1 Гб
Номер месяца				

2 Пользуясь рисунком, поставьте в соответствие каждому из указанных периодов времени характеристику израсходованных минут и гигабайтов.

ПЕРИОДЫ

- А) январь – февраль
- Б) февраль – март
- В) август – сентябрь
- Г) ноябрь – декабрь

ХАРАКТЕРИСТИКИ

- 1) Расход минут увеличился, а расход гигабайтов уменьшился.
- 2) Расход гигабайтов увеличился, а расход минут уменьшился.
- 3) Расход минут увеличился, и расход гигабайтов увеличился.
- 4) Расход минут уменьшился, и расход гигабайтов уменьшился.

В таблице под каждой буквой укажите соответствующий номер. В ответе запишите последовательность цифр без пробелов, запятых и других дополнительных символов.

Ответ:

А	Б	В	Г

3 Сколько рублей потратил абонент на услуги связи в июне?

Ответ: _____.

4 Какое наименьшее количество минут исходящих вызовов за месяц было в 2019 году?

Ответ: _____.

- 5 Абонент хочет приобрести новый смартфон. В трёх салонах сотовой связи этот смартфон продаётся в кредит (сначала делается первоначальный взнос, а потом ежемесячно в течение всего срока кредита вносятся платежи) на разных условиях. Условия приведены в таблице.

Салон	Стоимость смартфона (руб.)	Первоначальный взнос (% от стоимости)	Срок кредита (мес.)	Ежемесячный платёж (руб.)
А	18 000	20	6	2650
Б	17 500	30	12	1200
В	17 600	25	12	1300

Определите, в каком из салонов покупка смартфона с учётом полностью выплаченного кредита обойдётся дешевле. В ответе запишите сумму, затраченную на покупку смартфона в этом салоне, в рублях.

Ответ: _____.

- 6 Найдите значение выражения $0,4 \cdot (-10)^3 - 7 \cdot (-10)^2 + 64$.

Ответ: _____.

- 7 Какое из данных чисел принадлежит промежутку $[7; 8]$?

1) $\sqrt{7}$ 2) $\sqrt{8}$ 3) $\sqrt{42}$ 4) $\sqrt{61}$

Ответ:

- 8 Найдите значение выражения $\frac{1}{4^{-10}} \cdot \frac{1}{4^9}$.

Ответ: _____.

- 9 Найдите корень уравнения $x + \frac{x}{11} = \frac{24}{11}$.

Ответ: _____.

10 В лыжных гонках участвуют 13 спортсменов из России, 2 спортсмена из Норвегии и 5 спортсменов из Швеции. Порядок, в котором спортсмены стартуют, определяется жребием. Найдите вероятность того, что первым будет стартовать спортсмен **не** из России.

Ответ: _____.

11 Установите соответствие между функциями и их графиками.

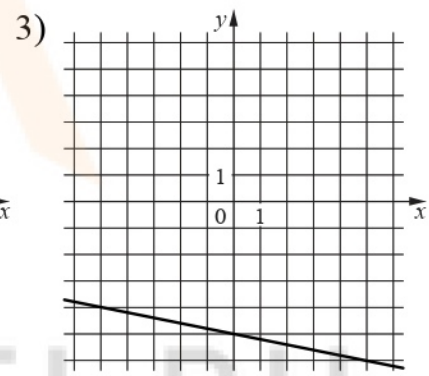
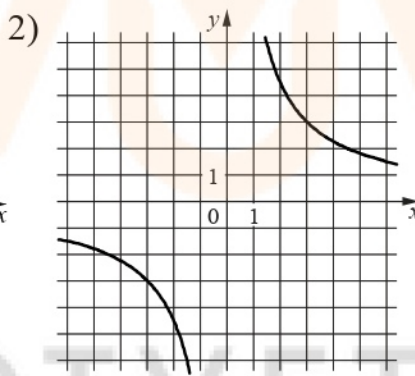
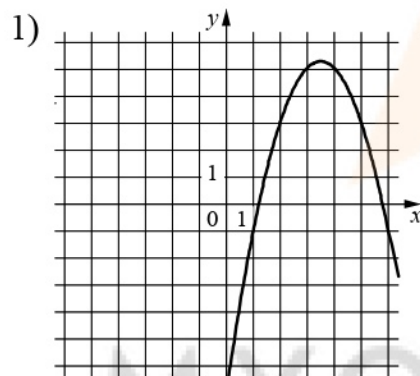
ФУНКЦИИ

А) $y = -\frac{1}{5}x - 5$

Б) $y = -x^2 + 7x - 7$

В) $y = \frac{9}{x}$

ГРАФИКИ



В таблице под каждой буквой укажите соответствующий номер.

Ответ:

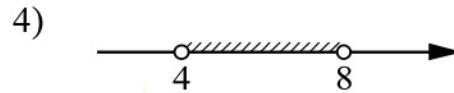
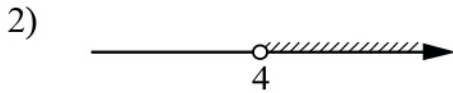
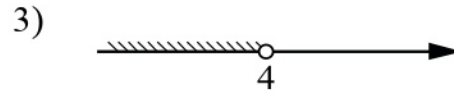
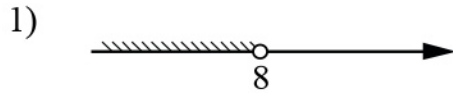
А	Б	В

12 Площадь четырёхугольника можно вычислить по формуле $S = \frac{d_1 d_2 \sin \alpha}{2}$, где d_1 и d_2 — длины диагоналей четырёхугольника, α — угол между диагоналями. Пользуясь этой формулой, найдите длину диагонали d_2 , если $d_1 = 6$, $\sin \alpha = \frac{1}{12}$, а $S = 3,75$.

Ответ: _____.

13 Укажите решение системы неравенств

$$\begin{cases} -12 + 3x < 0, \\ 9 - 4x > -23. \end{cases}$$

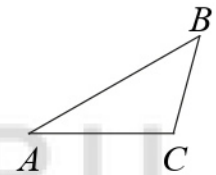


Ответ:

14 Дана арифметическая прогрессия (a_n) , разность которой равна 0,6 и $a_1 = -9,9$. Найдите a_5 .

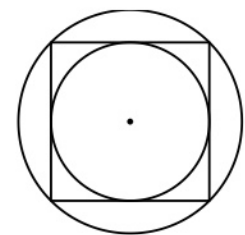
Ответ: _____.

15 В треугольнике ABC угол A равен 30° , угол B равен 45° , $BC = 10\sqrt{2}$. Найдите AC .



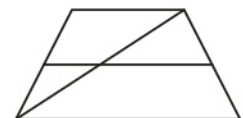
Ответ: _____.

16 Радиус окружности, описанной около квадрата, равен $44\sqrt{2}$. Найдите радиус окружности, вписанной в этот квадрат.



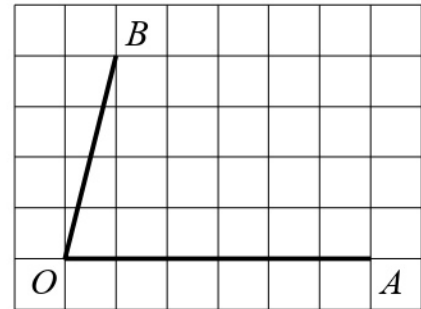
Ответ: _____.

17 Основания трапеции равны 17 и 19. Найдите больший из отрезков, на которые делит среднюю линию этой трапеции одна из её диагоналей.



Ответ: _____.

- 18 Найдите тангенс угла AOB , изображённого на рисунке.



Ответ: _____.

- 19 Какое из следующих утверждений верно?

- 1) Смежные углы всегда равны.
- 2) Каждая из биссектрис равнобедренного треугольника является его высотой.
- 3) Существует прямоугольник, диагонали которого взаимно перпендикулярны.

В ответе запишите номер выбранного утверждения.

Ответ:

MYOTVETI.RU

Часть 2

При выполнении заданий 20–25 используйте отдельный лист бумаги. Сначала укажите номер задания, а затем запишите его решение и ответ. Пишите чётко и разборчиво.

20 Решите неравенство $[x - 11]^2 < \sqrt{5}[x - 11]$.

21 Моторная лодка прошла против течения реки 72 км и вернулась в пункт отправления, затратив на обратный путь на 2 часа меньше, чем на путь против течения. Найдите скорость лодки в неподвижной воде, если скорость течения реки равна 3 км/ч.

22 Постройте график функции

$$y = \frac{(0,5x^2 + 2x) \cdot |x|}{x + 4}.$$

Определите, при каких значениях m прямая $y = m$ не имеет с графиком ни одной общей точки.

23 Точка H является основанием высоты, проведённой из вершины прямого угла B треугольника ABC к гипотенузе AC . Найдите AB , если $AH = 5$, $AC = 45$.

24 Через точку O пересечения диагоналей параллелограмма $ABCD$ проведена прямая, пересекающая стороны AB и CD в точках E и F соответственно. Докажите, что отрезки AE и CF равны.

25 В трапеции $ABCD$ боковая сторона AB перпендикулярна основанию BC . Окружность проходит через точки C и D и касается прямой AB в точке E . Найдите расстояние от точки E до прямой CD , если $AD = 6$, $BC = 5$.

Тренировочная работа №2 по МАТЕМАТИКЕ

9 класс

25 ноября 2020 года

Вариант МА2090302

Выполнена: ФИО _____ класс _____

Инструкция по выполнению работы

Работа состоит из двух частей, включающих в себя 25 заданий. Часть 1 содержит 19 заданий, часть 2 содержит 6 заданий с развёрнутым ответом.

На выполнение работы по математике отводится 3 часа 55 минут (235 минут).

Ответы к заданиям 7 и 13 запишите в виде одной цифры, которая соответствует номеру правильного ответа.

Для остальных заданий части 1 ответом является число или последовательность цифр. Если получилась обыкновенная дробь, ответ запишите в виде десятичной.

Решения заданий части 2 и ответы к ним запишите на отдельном листе бумаги. Задания можно выполнять в любом порядке. Текст задания переписывать не надо, необходимо только указать его номер.

Сначала выполняйте задания части 1. Начать советуем с тех заданий, которые вызывают у Вас меньше затруднений, затем переходите к другим заданиям. Для экономии времени пропускайте задание, которое не удаётся выполнить сразу, и переходите к следующему. Если у Вас останется время, Вы сможете вернуться к пропущенным заданиям.

При выполнении части 1 все необходимые вычисления, преобразования выполняйте в черновике. **Записи в черновике, а также в тексте контрольных измерительных материалов не учитываются при оценивании работы.**

Если задание содержит рисунок, то на нём непосредственно в тексте работы можно выполнять необходимые Вам построения. Рекомендуем внимательно читать условие и проводить проверку полученного ответа.

При выполнении работы Вы можете воспользоваться справочными материалами, выданными вместе с вариантом КИМ, и линейкой.

Баллы, полученные Вами за выполненные задания, суммируются. Постарайтесь выполнить как можно больше заданий и набрать наибольшее количество баллов.

После завершения работы проверьте, чтобы ответ на каждое задание был записан под правильным номером.

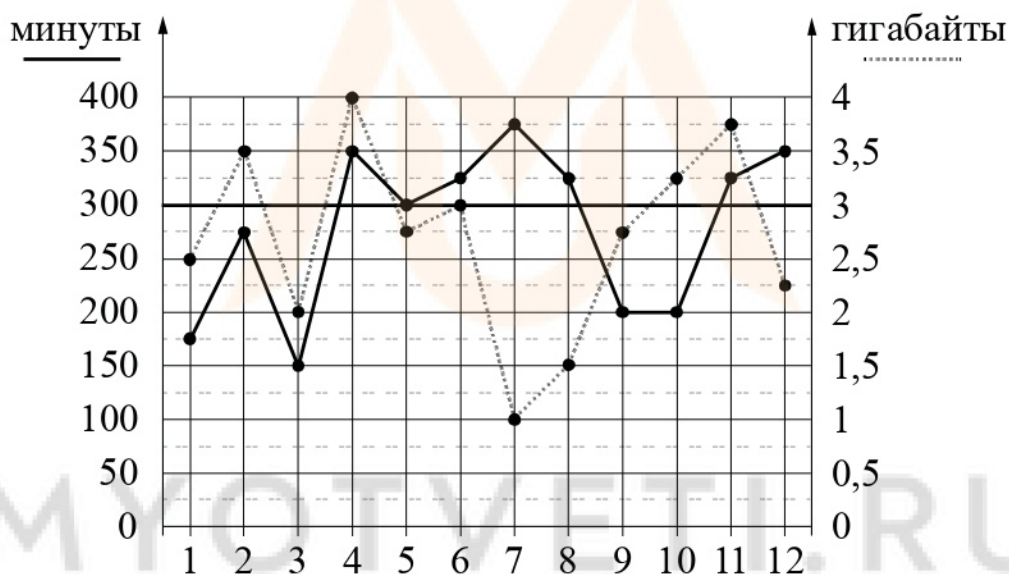
Желаем успеха!

Часть 1

Ответами к заданиям 1–19 являются число или последовательность цифр.

Прочитайте внимательно текст и выполните задания 1–5.

На рисунке точками показано количество минут исходящих вызовов и трафик мобильного интернета в гигабайтах, израсходованных абонентом в процессе пользования смартфоном, за каждый месяц 2019 года. Для удобства точки, соответствующие минутам и гигабайтам, соединены сплошными и пунктирными линиями соответственно.



В течение года абонент пользовался тарифом «Стандартный», абонентская плата по которому составляла 350 рублей в месяц. При условии нахождения абонента на территории РФ в абонентскую плату тарифа «Стандартный» входит:

- пакет минут, включающий 300 минут исходящих вызовов на номера, зарегистрированные на территории РФ;
- пакет интернета, включающий 3 гигабайта мобильного интернета;
- пакет СМС, включающий 120 СМС в месяц;
- безлимитные бесплатные входящие вызовы.

Стоимость минут, интернета и СМС сверх пакета тарифа указана в таблице.

Исходящие вызовы	3 руб./мин.
Мобильный интернет (пакет)	90 руб. за 0,5 Гб
СМС	2 руб./шт.

Абонент не пользовался услугами связи в роуминге. За весь год абонент отправил 110 СМС.

1 Определите, какие месяцы соответствуют указанному в таблице трафику мобильного интернета.

Заполните таблицу, в бланк ответов перенесите числа, соответствующие номерам месяцев, без пробелов, запятых и других дополнительных символов (например, для месяцев май, январь, ноябрь, август в ответе нужно записать число 51118).

Мобильный интернет	3 Гб	3,75 Гб	4 Гб	1,5 Гб
Номер месяца				

2 Пользуясь рисунком, поставьте в соответствие каждому из указанных периодов времени характеристику израсходованных минут и гигабайтов.

ПЕРИОДЫ

- А) март – апрель
- Б) апрель – май
- В) июнь – июль
- Г) июль – август

ХАРАКТЕРИСТИКИ

- 1) Расход минут увеличился, а расход гигабайтов уменьшился.
- 2) Расход гигабайтов увеличился, а расход минут уменьшился.
- 3) Расход минут увеличился, и расход гигабайтов увеличился.
- 4) Расход минут уменьшился, и расход гигабайтов уменьшился.

В таблице под каждой буквой укажите соответствующий номер. В ответе запишите последовательность цифр без пробелов, запятых и других дополнительных символов.

Ответ:

А	Б	В	Г

3 Сколько рублей потратил абонент на услуги связи в июле?

Ответ: _____.

4 Какой наибольший трафик мобильного интернета в гигабайтах за месяц был в 2019 году?

Ответ: _____.

- 5 Абонент хочет приобрести новый смартфон. В трёх салонах сотовой связи этот смартфон продаётся в кредит (сначала делается первоначальный взнос, а потом ежемесячно в течение всего срока кредита вносятся платежи) на разных условиях. Условия приведены в таблице.

Салон	Стоимость смартфона (руб.)	Первоначальный взнос (% от стоимости)	Срок кредита (мес.)	Ежемесячный платёж (руб.)
А	17 000	25	12	1250
Б	16 600	30	12	1200
В	17 500	20	6	2600

Определите, в каком из салонов покупка смартфона с учётом полностью выплаченного кредита обойдётся дешевле. В ответе запишите сумму, затраченную на покупку смартфона в этом салоне, в рублях.

Ответ: _____.

- 6 Найдите значение выражения $-0,7 \cdot (-10)^4 - 8 \cdot (-10)^2 - 26$.

Ответ: _____.

- 7 Какое из данных чисел принадлежит промежутку $[7; 8]$?

1) $\sqrt{7}$ 2) $\sqrt{8}$ 3) $\sqrt{48}$ 4) $\sqrt{56}$

Ответ:

- 8 Найдите значение выражения $\frac{1}{3^{-8}} \cdot \frac{1}{3^7}$.

Ответ: _____.

- 9 Найдите корень уравнения $x + \frac{x}{4} = -5$.

Ответ: _____.

- 10** В лыжных гонках участвуют 11 спортсменов из России, 6 спортсменов из Норвегии и 3 спортсмена из Швеции. Порядок, в котором спортсмены стартуют, определяется жребием. Найдите вероятность того, что первым будет стартовать спортсмен из России.

Ответ: _____.

- 11** Установите соответствие между функциями и их графиками.

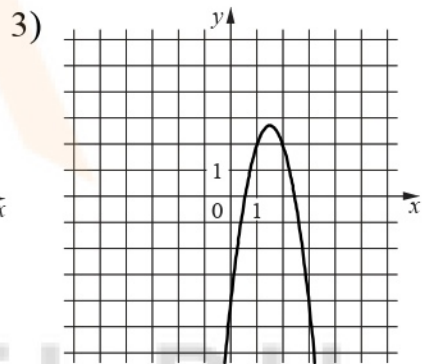
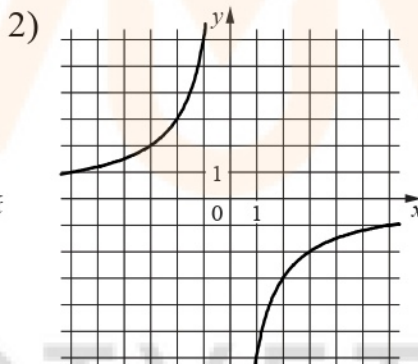
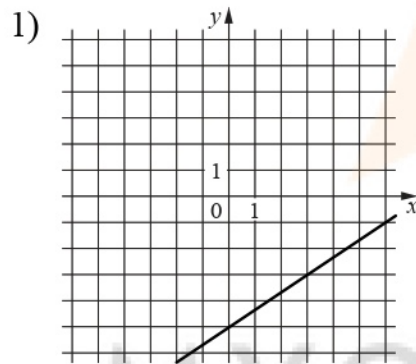
ФУНКЦИИ

A) $y = -3x^2 + 9x - 4$

Б) $y = -\frac{6}{x}$

В) $y = \frac{2}{3}x - 5$

ГРАФИКИ



В таблице под каждой буквой укажите соответствующий номер.

Ответ:

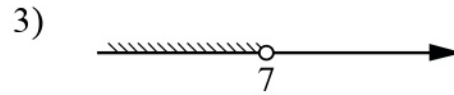
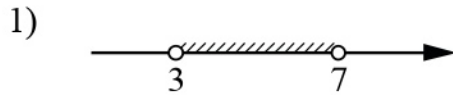
А	Б	В

- 12** Площадь четырёхугольника можно вычислить по формуле $S = \frac{d_1 d_2 \sin \alpha}{2}$, где d_1 и d_2 — длины диагоналей четырёхугольника, α — угол между диагоналями. Пользуясь этой формулой, найдите длину диагонали d_1 , если $d_2 = 16$, $\sin \alpha = \frac{5}{8}$, а $S = 45$.

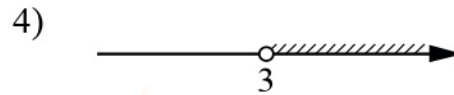
Ответ: _____.

13 Укажите решение системы неравенств

$$\begin{cases} -35 + 5x < 0, \\ 6 - 3x < -3. \end{cases}$$



2) нет решений

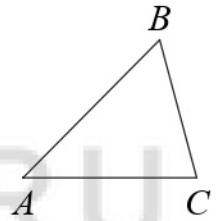


Ответ:

14 В амфитеатре 26 рядов. В первом ряду 15 мест, а в каждом следующем — на 2 места больше, чем в предыдущем. Сколько всего мест в амфитеатре?

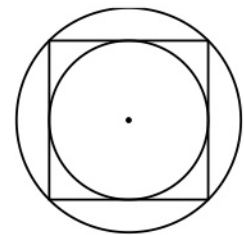
Ответ: _____.

15 В треугольнике ABC угол A равен 45° , угол B равен 60° , $BC = 3\sqrt{6}$. Найдите AC .



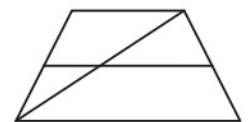
Ответ: _____.

16 Радиус окружности, описанной около квадрата, равен $6\sqrt{2}$. Найдите радиус окружности, вписанной в этот квадрат.



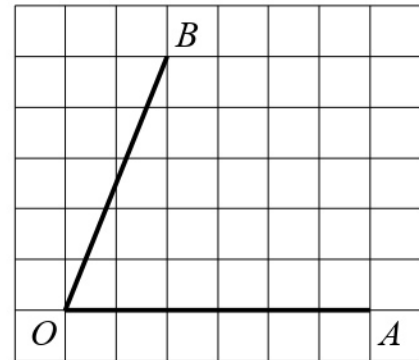
Ответ: _____.

17 Основания трапеции равны 10 и 11. Найдите больший из отрезков, на которые делит среднюю линию этой трапеции одна из её диагоналей.



Ответ: _____.

- 18 Найдите тангенс угла AOB , изображённого на рисунке.



Ответ: _____.

- 19 Какое из следующих утверждений верно?

- 1) Если в параллелограмме диагонали равны и перпендикулярны, то этот параллелограмм является квадратом.
- 2) Смежные углы всегда равны.
- 3) Каждая из биссектрис равнобедренного треугольника является его высотой.

В ответе запишите номер выбранного утверждения.

Ответ:

MYOTVETI.RU

Часть 2

При выполнении заданий 20–25 используйте отдельный лист бумаги. Сначала укажите номер задания, а затем запишите его решение и ответ. Пишите чётко и разборчиво.

20 Решите неравенство $(x - 7)^2 < \sqrt{11}(x - 7)$.

21 Моторная лодка прошла против течения реки 132 км и вернулась в пункт отправления, затратив на обратный путь на 5 часов меньше, чем на путь против течения. Найдите скорость лодки в неподвижной воде, если скорость течения реки равна 5 км/ч.

22 Постройте график функции

$$y = \frac{(0,25x^2 + x) \cdot |x|}{x + 4}.$$

Определите, при каких значениях m прямая $y = m$ не имеет с графиком ни одной общей точки.

23 Точка H является основанием высоты, проведённой из вершины прямого угла B треугольника ABC к гипотенузе AC . Найдите AB , если $AH = 9$, $AC = 36$.

24 Через точку O пересечения диагоналей параллелограмма $ABCD$ проведена прямая, пересекающая стороны AB и CD в точках P и Q соответственно. Докажите, что отрезки BP и DQ равны.

25 В трапеции $ABCD$ боковая сторона AB перпендикулярна основанию BC . Окружность проходит через точки C и D и касается прямой AB в точке E . Найдите расстояние от точки E до прямой CD , если $AD = 8$, $BC = 4$.

Тренировочная работа №2 по МАТЕМАТИКЕ

9 класс

25 ноября 2020 года

Вариант МА2090303

Выполнена: ФИО _____ класс _____

Инструкция по выполнению работы

Работа состоит из двух частей, включающих в себя 25 заданий. Часть 1 содержит 19 заданий, часть 2 содержит 6 заданий с развёрнутым ответом.

На выполнение работы по математике отводится 3 часа 55 минут (235 минут).

Ответы к заданиям 7 и 13 запишите в виде одной цифры, которая соответствует номеру правильного ответа.

Для остальных заданий части 1 ответом является число или последовательность цифр. Если получилась обыкновенная дробь, ответ запишите в виде десятичной.

Решения заданий части 2 и ответы к ним запишите на отдельном листе бумаги. Задания можно выполнять в любом порядке. Текст задания переписывать не надо, необходимо только указать его номер.

Сначала выполняйте задания части 1. Начать советуем с тех заданий, которые вызывают у Вас меньше затруднений, затем переходите к другим заданиям. Для экономии времени пропускайте задание, которое не удаётся выполнить сразу, и переходите к следующему. Если у Вас останется время, Вы сможете вернуться к пропущенным заданиям.

При выполнении части 1 все необходимые вычисления, преобразования выполняйте в черновике. **Записи в черновике, а также в тексте контрольных измерительных материалов не учитываются при оценивании работы.**

Если задание содержит рисунок, то на нём непосредственно в тексте работы можно выполнять необходимые Вам построения. Рекомендуем внимательно читать условие и проводить проверку полученного ответа.

При выполнении работы Вы можете воспользоваться справочными материалами, выданными вместе с вариантом КИМ, и линейкой.

Баллы, полученные Вами за выполненные задания, суммируются. Постарайтесь выполнить как можно больше заданий и набрать наибольшее количество баллов.

После завершения работы проверьте, чтобы ответ на каждое задание был записан под правильным номером.

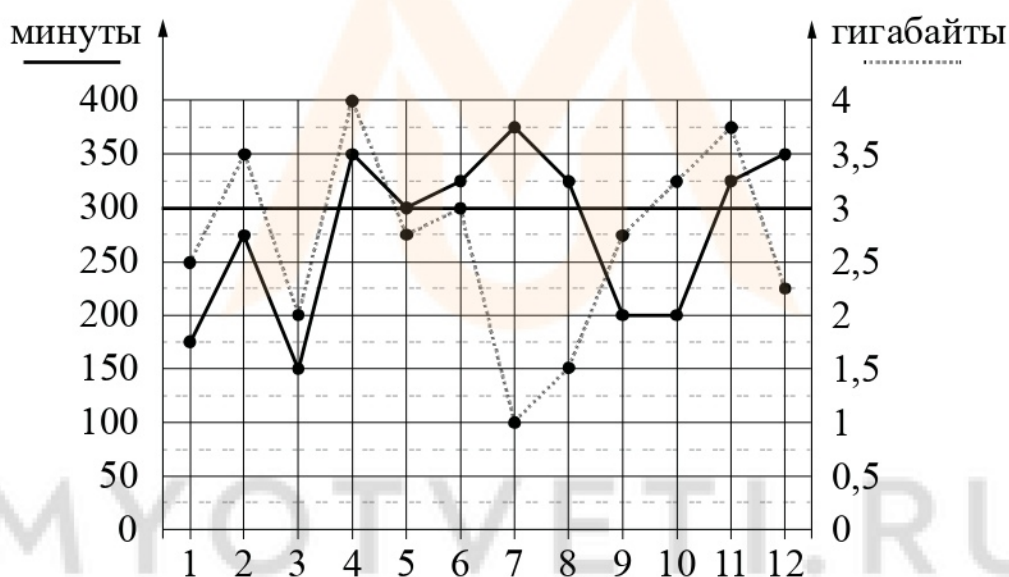
Желаем успеха!

Часть 1

Ответами к заданиям 1–19 являются число или последовательность цифр.

Прочитайте внимательно текст и выполните задания 1–5.

На рисунке точками показано количество минут исходящих вызовов и трафик мобильного интернета в гигабайтах, израсходованных абонентом в процессе пользования смартфоном, за каждый месяц 2019 года. Для удобства точки, соответствующие минутам и гигабайтам, соединены сплошными и пунктирными линиями соответственно.



В течение года абонент пользовался тарифом «Стандартный», абонентская плата по которому составляла 350 рублей в месяц. При условии нахождения абонента на территории РФ в абонентскую плату тарифа «Стандартный» входит:

- пакет минут, включающий 300 минут исходящих вызовов на номера, зарегистрированные на территории РФ;
- пакет интернета, включающий 3 гигабайта мобильного интернета;
- пакет СМС, включающий 120 СМС в месяц;
- безлимитные бесплатные входящие вызовы.

Стоимость минут, интернета и СМС сверх пакета тарифа указана в таблице.

Исходящие вызовы	3 руб./мин.
Мобильный интернет (пакет)	90 руб. за 0,5 Гб
СМС	2 руб./шт.

Абонент не пользовался услугами связи в роуминге. За весь год абонент отправил 110 СМС.

1 Определите, какие месяцы соответствуют указанному в таблице трафику мобильного интернета.

Заполните таблицу, в бланк ответов перенесите числа, соответствующие номерам месяцев, без пробелов, запятых и других дополнительных символов (например, для месяцев май, январь, ноябрь, август в ответе нужно записать число 51118).

Мобильный интернет	1,5 Гб	2 Гб	3,75 Гб	1 Гб
Номер месяца				

2 Пользуясь рисунком, поставьте в соответствие каждому из указанных периодов времени характеристику израсходованных минут и гигабайтов.

ПЕРИОДЫ

- А) февраль – март
- Б) март – апрель
- В) июль – август
- Г) ноябрь – декабрь

ХАРАКТЕРИСТИКИ

- 1) Расход минут увеличился, а расход гигабайтов уменьшился.
- 2) Расход гигабайтов увеличился, а расход минут уменьшился.
- 3) Расход минут увеличился, и расход гигабайтов увеличился.
- 4) Расход минут уменьшился, и расход гигабайтов уменьшился.

В таблице под каждой буквой укажите соответствующий номер. В ответе запишите последовательность цифр без пробелов, запятых и других дополнительных символов.

Ответ:

А	Б	В	Г

3 Сколько рублей потратил абонент на услуги связи в августе?

Ответ: _____.

4 Какой наименьший трафик мобильного интернета в гигабайтах за месяц был в 2019 году?

Ответ: _____.

- 5 Абонент хочет приобрести новый смартфон. В трёх салонах сотовой связи этот смартфон продаётся в кредит (сначала делается первоначальный взнос, а потом ежемесячно в течение всего срока кредита вносятся платежи) на разных условиях. Условия приведены в таблице.

Салон	Стоимость смартфона (руб.)	Первоначальный взнос (% от стоимости)	Срок кредита (мес.)	Ежемесячный платёж (руб.)
А	16 200	25	12	1250
Б	16 500	20	6	2600
В	17 000	30	12	1100

Определите, в каком из салонов покупка смартфона с учётом полностью выплаченного кредита обойдётся дешевле. В ответе запишите сумму, затраченную на покупку смартфона в этом салоне, в рублях.

Ответ: _____.

- 6 Найдите значение выражения $-0,8 \cdot (-10)^4 + 1 \cdot (-10)^2 - 51$.

Ответ: _____.

- 7 Какое из данных чисел принадлежит промежутку $[5; 6]$?

1) $\sqrt{5}$ 2) $\sqrt{6}$ 3) $\sqrt{23}$ 4) $\sqrt{31}$

Ответ:

- 8 Найдите значение выражения $\frac{1}{7^{-4}} \cdot \frac{1}{7^3}$.

Ответ: _____.

- 9 Найдите корень уравнения $x - \frac{x}{12} = \frac{11}{3}$.

Ответ: _____.

- 10** В лыжных гонках участвуют 13 спортсменов из России, 2 спортсмена из Норвегии и 5 спортсменов из Швеции. Порядок, в котором спортсмены стартуют, определяется жребием. Найдите вероятность того, что первым будет стартовать спортсмен из России.

Ответ: _____.

- 11** Установите соответствие между функциями и их графиками.

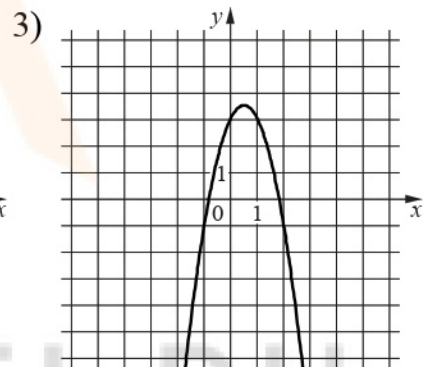
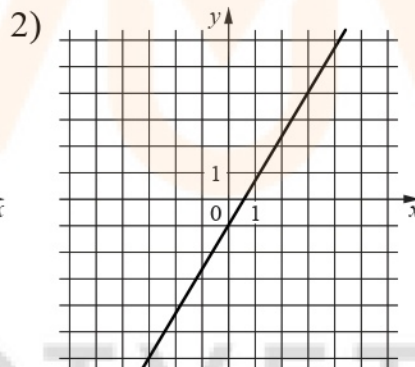
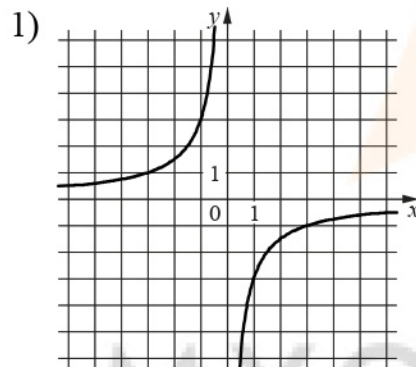
ФУНКЦИИ

А) $y = -2x^2 + 2x + 3$

Б) $y = -\frac{3}{x}$

В) $y = \frac{5}{3}x - 1$

ГРАФИКИ



В таблице под каждой буквой укажите соответствующий номер.

Ответ:

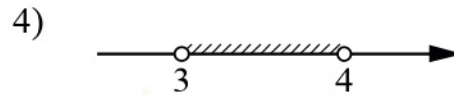
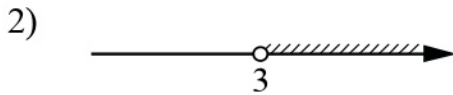
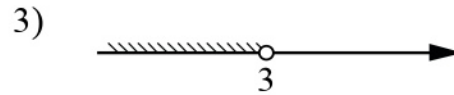
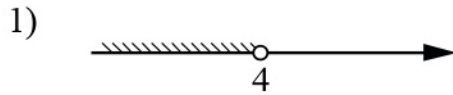
А	Б	В

- 12** Площадь четырёхугольника можно вычислить по формуле $S = \frac{d_1 d_2 \sin \alpha}{2}$, где d_1 и d_2 — длины диагоналей четырёхугольника, α — угол между диагоналями. Пользуясь этой формулой, найдите длину диагонали d_2 , если $d_1 = 11$, $\sin \alpha = \frac{7}{12}$, а $S = 57,75$.

Ответ: _____.

13 Укажите решение системы неравенств

$$\begin{cases} -9 + 3x < 0, \\ 2 - 3x > -10. \end{cases}$$

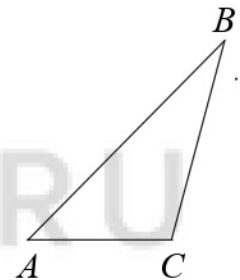


Ответ:

14 В амфитеатре 30 рядов. В последнем ряду 70 мест, а в каждом следующем — на 2 места меньше, чем в предыдущем. Сколько всего мест в амфитеатре?

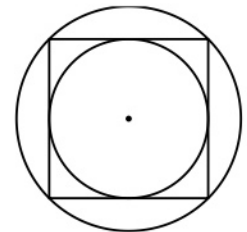
Ответ: _____.

15 В треугольнике ABC угол A равен 45° , угол B равен 30° , $BC = 6\sqrt{2}$. Найдите AC .



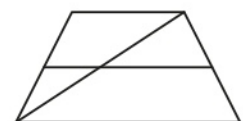
Ответ: _____.

16 Радиус окружности, описанной около квадрата, равен $38\sqrt{2}$. Найдите радиус окружности, вписанной в этот квадрат.



Ответ: _____.

17 Основания трапеции равны 14 и 19. Найдите больший из отрезков, на которые делит среднюю линию этой трапеции одна из её диагоналей.



Ответ: _____.

- 18 Найдите тангенс угла AOB , изображённого на рисунке.



Ответ: _____.

- 19 Какие из следующих утверждений верны?

- 1) Если в параллелограмме две соседние стороны равны, то этот параллелограмм является ромбом.
- 2) Существует прямоугольник, диагонали которого взаимно перпендикулярны.
- 3) Сумма углов любого треугольника равна 360 градусам.

В ответе запишите номера выбранных утверждений без пробелов, запятых и других дополнительных символов.

Ответ: _____.

MYOTVETI.RU

Часть 2

При выполнении заданий 20–25 используйте отдельный лист бумаги. Сначала укажите номер задания, а затем запишите его решение и ответ. Пишите чётко и разборчиво.

20 Решите неравенство $(x-3)^2 < \sqrt{5}(x-3)$.

21 Моторная лодка прошла против течения реки 288 км и вернулась в пункт отправления, затратив на обратный путь на 3 часа меньше, чем на путь против течения. Найдите скорость лодки в неподвижной воде, если скорость течения реки равна 4 км/ч.

22 Постройте график функции

$$y = \frac{(0,25x^2 + 0,5x) \cdot |x|}{x + 2}.$$

Определите, при каких значениях t прямая $y = t$ не имеет с графиком ни одной общей точки.

23 Точка H является основанием высоты, проведённой из вершины прямого угла B треугольника ABC к гипотенузе AC . Найдите AB , если $AH = 6$, $AC = 24$.

24 Через точку O пересечения диагоналей параллелограмма $ABCD$ проведена прямая, пересекающая стороны BC и AD в точках K и M соответственно. Докажите, что отрезки BK и DM равны.

25 В трапеции $ABCD$ боковая сторона AB перпендикулярна основанию BC . Окружность проходит через точки C и D и касается прямой AB в точке E . Найдите расстояние от точки E до прямой CD , если $AD = 8$, $BC = 7$.

Тренировочная работа №2 по МАТЕМАТИКЕ

9 класс

25 ноября 2020 года

Вариант МА2090304

Выполнена: ФИО _____ класс _____

Инструкция по выполнению работы

Работа состоит из двух частей, включающих в себя 25 заданий. Часть 1 содержит 19 заданий, часть 2 содержит 6 заданий с развёрнутым ответом.

На выполнение работы по математике отводится 3 часа 55 минут (235 минут).

Ответы к заданиям 7 и 13 запишите в виде одной цифры, которая соответствует номеру правильного ответа.

Для остальных заданий части 1 ответом является число или последовательность цифр. Если получилась обыкновенная дробь, ответ запишите в виде десятичной.

Решения заданий части 2 и ответы к ним запишите на отдельном листе бумаги. Задания можно выполнять в любом порядке. Текст задания переписывать не надо, необходимо только указать его номер.

Сначала выполняйте задания части 1. Начать советуем с тех заданий, которые вызывают у Вас меньше затруднений, затем переходите к другим заданиям. Для экономии времени пропускайте задание, которое не удаётся выполнить сразу, и переходите к следующему. Если у Вас останется время, Вы сможете вернуться к пропущенным заданиям.

При выполнении части 1 все необходимые вычисления, преобразования выполняйте в черновике. **Записи в черновике, а также в тексте контрольных измерительных материалов не учитываются при оценивании работы.**

Если задание содержит рисунок, то на нём непосредственно в тексте работы можно выполнять необходимые Вам построения. Рекомендуем внимательно читать условие и проводить проверку полученного ответа.

При выполнении работы Вы можете воспользоваться справочными материалами, выданными вместе с вариантом КИМ, и линейкой.

Баллы, полученные Вами за выполненные задания, суммируются. Постарайтесь выполнить как можно больше заданий и набрать наибольшее количество баллов.

После завершения работы проверьте, чтобы ответ на каждое задание был записан под правильным номером.

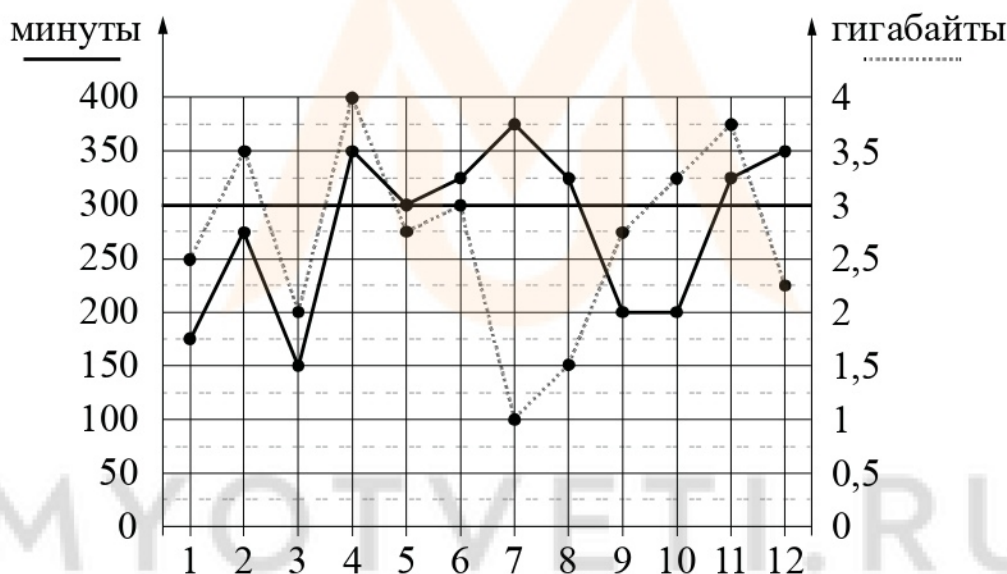
Желаем успеха!

Часть 1

Ответами к заданиям 1–19 являются число или последовательность цифр.

Прочитайте внимательно текст и выполните задания 1–5.

На рисунке точками показано количество минут исходящих вызовов и трафик мобильного интернета в гигабайтах, израсходованных абонентом в процессе пользования смартфоном, за каждый месяц 2019 года. Для удобства точки, соответствующие минутам и гигабайтам, соединены сплошными и пунктирными линиями соответственно.



В течение года абонент пользовался тарифом «Стандартный», абонентская плата по которому составляла 350 рублей в месяц. При условии нахождения абонента на территории РФ в абонентскую плату тарифа «Стандартный» входит:

- пакет минут, включающий 300 минут исходящих вызовов на номера, зарегистрированные на территории РФ;
- пакет интернета, включающий 3 гигабайта мобильного интернета;
- пакет СМС, включающий 120 СМС в месяц;
- безлимитные бесплатные входящие вызовы.

Стоимость минут, интернета и СМС сверх пакета тарифа указана в таблице.

Исходящие вызовы	3 руб./мин.
Мобильный интернет (пакет)	90 руб. за 0,5 Гб
СМС	2 руб./шт.

Абонент не пользовался услугами связи в роуминге. За весь год абонент отправил 110 СМС.

1 Определите, какие месяцы соответствуют указанному в таблице трафику мобильного интернета.

Заполните таблицу, в бланк ответов перенесите числа, соответствующие номерам месяцев, без пробелов, запятых и других дополнительных символов (например, для месяцев май, январь, ноябрь, август в ответе нужно записать число 51118).

Мобильный интернет	2 Гб	2,25 Гб	4 Гб	3,5 Гб
Номер месяца				

2 Пользуясь рисунком, поставьте в соответствие каждому из указанных периодов времени характеристику израсходованных минут и гигабайтов.

ПЕРИОДЫ

- А) март – апрель
- Б) апрель – май
- В) июль – август
- Г) ноябрь – декабрь

ХАРАКТЕРИСТИКИ

- 1) Расход минут увеличился, а расход гигабайтов уменьшился.
- 2) Расход гигабайтов увеличился, а расход минут уменьшился.
- 3) Расход минут увеличился, и расход гигабайтов увеличился.
- 4) Расход минут уменьшился, и расход гигабайтов уменьшился.

В таблице под каждой буквой укажите соответствующий номер. В ответе запишите последовательность цифр без пробелов, запятых и других дополнительных символов.

Ответ:

А	Б	В	Г

3 Сколько рублей потратил абонент на услуги связи в апреле?

Ответ: _____.

4 Какое наибольшее количество минут исходящих вызовов за месяц было в 2019 году?

Ответ: _____.

- 5 Абонент хочет приобрести новый смартфон. В трёх салонах сотовой связи этот смартфон продаётся в кредит (сначала делается первоначальный взнос, а потом ежемесячно в течение всего срока кредита вносятся платежи) на разных условиях. Условия приведены в таблице.

Салон	Стоимость смартфона (руб.)	Первоначальный взнос (% от стоимости)	Срок кредита (мес.)	Ежемесячный платёж (руб.)
А	19 000	30	12	1300
Б	19 800	25	6	2800
В	18 500	20	12	1450

Определите, в каком из салонов покупка смартфона с учётом полностью выплаченного кредита обойдётся дешевле. В ответе запишите сумму, затраченную на покупку смартфона в этом салоне, в рублях.

Ответ: _____.

- 6 Найдите значение выражения $-0,4 \cdot (-10)^4 + 3 \cdot (-10)^2 - 98$.

Ответ: _____.

- 7 Какое из данных чисел принадлежит промежутку $[5; 6]$?

1) $\sqrt{5}$ 2) $\sqrt{6}$ 3) $\sqrt{24}$ 4) $\sqrt{32}$

Ответ:

- 8 Найдите значение выражения $\frac{1}{5^{-3}} \cdot \frac{1}{5^4}$.

Ответ: _____.

- 9 Найдите корень уравнения $x - \frac{x}{12} = \frac{55}{12}$.

Ответ: _____.

- 10** В лыжных гонках участвуют 7 спортсменов из России, 1 спортсмен из Норвегии и 2 спортсмена из Швеции. Порядок, в котором спортсмены стартуют, определяется жребием. Найдите вероятность того, что первым будет стартовать спортсмен из Норвегии.

Ответ: _____.

- 11** Установите соответствие между функциями и их графиками.

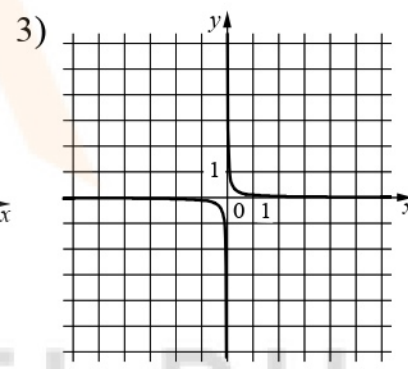
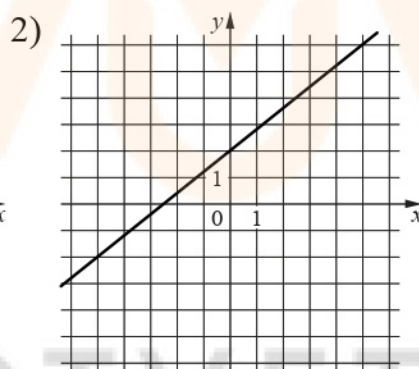
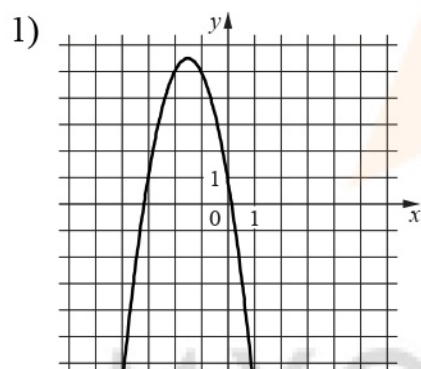
ФУНКЦИИ

A) $y = -2x^2 - 6x + 1$

Б) $y = \frac{1}{10x}$

В) $y = \frac{4}{5}x + 2$

ГРАФИКИ



В таблице под каждой буквой укажите соответствующий номер.

Ответ:

A	Б	В

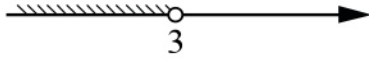
- 12** Площадь четырёхугольника можно вычислить по формуле $S = \frac{d_1 d_2 \sin \alpha}{2}$, где d_1 и d_2 — длины диагоналей четырёхугольника, α — угол между диагоналями. Пользуясь этой формулой, найдите длину диагонали d_2 , если $d_1 = 6$, $\sin \alpha = \frac{3}{7}$, а $S = 18$.

Ответ: _____.

13 Укажите решение системы неравенств

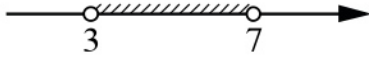
$$\begin{cases} -35 + 5x > 0, \\ 6 - 3x > -3. \end{cases}$$

1)

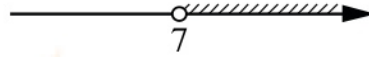


3) нет решений

2)



4)

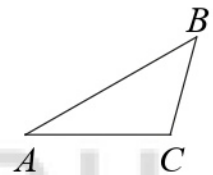


Ответ:

14 В амфитеатре 30 рядов. В первом ряду 10 мест, а в каждом следующем — на 2 места больше, чем в предыдущем. Сколько всего мест в амфитеатре?

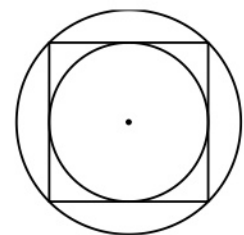
Ответ: _____.

15 В треугольнике ABC угол A равен 30° , угол B равен 45° , $BC = 8\sqrt{2}$. Найдите AC .



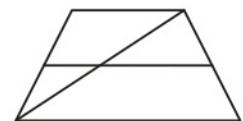
Ответ: _____.

16 Радиус окружности, описанной около квадрата, равен $28\sqrt{2}$. Найдите радиус окружности, вписанной в этот квадрат.



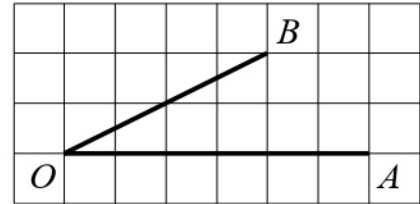
Ответ: _____.

17 Основания трапеции равны 8 и 17. Найдите больший из отрезков, на которые делит среднюю линию этой трапеции одна из её диагоналей.



Ответ: _____.

- 18 Найдите тангенс угла AOB , изображённого на рисунке.



Ответ: _____.

- 19 Какое из следующих утверждений верно?

- 1) В прямоугольном треугольнике гипотенуза равна сумме катетов.
- 2) Всегда один из двух смежных углов острый, а другой тупой.
- 3) Через любую точку, лежащую вне окружности, можно провести две касательные к этой окружности.

В ответе запишите номер выбранного утверждения.

Ответ:

MYOTVETI.RU

Часть 2

При выполнении заданий 20–25 используйте отдельный лист бумаги. Сначала укажите номер задания, а затем запишите его решение и ответ. Пишите чётко и разборчиво.

20 Решите неравенство $(x - 4)^2 < \sqrt{6}(x - 4)$.

21 Моторная лодка прошла против течения реки 210 км и вернулась в пункт отправления, затратив на обратный путь на 4 часа меньше, чем на путь против течения. Найдите скорость лодки в неподвижной воде, если скорость течения реки равна 3 км/ч.

22 Постройте график функции

$$y = \frac{(0,5x^2 + x) \cdot |x|}{x + 2}.$$

Определите, при каких значениях m прямая $y = m$ не имеет с графиком ни одной общей точки.

23 Точка H является основанием высоты, проведённой из вершины прямого угла B треугольника ABC к гипотенузе AC . Найдите AB , если $AH = 3$, $AC = 12$.

24 Через точку O пересечения диагоналей параллелограмма $ABCD$ проведена прямая, пересекающая стороны BC и AD в точках L и N соответственно. Докажите, что отрезки CL и AN равны.

25 В трапеции $ABCD$ боковая сторона AB перпендикулярна основанию BC . Окружность проходит через точки C и D и касается прямой AB в точке E . Найдите расстояние от точки E до прямой CD , если $AD = 12$, $BC = 10$.

Тренировочная работа №2 по МАТЕМАТИКЕ

9 класс

25 ноября 2020 года

Вариант МА2090305

Выполнена: ФИО _____ класс _____

Инструкция по выполнению работы

Работа состоит из двух частей, включающих в себя 25 заданий. Часть 1 содержит 19 заданий, часть 2 содержит 6 заданий с развёрнутым ответом.

На выполнение работы по математике отводится 3 часа 55 минут (235 минут).

Ответы к заданиям 7 и 13 запишите в виде одной цифры, которая соответствует номеру правильного ответа.

Для остальных заданий части 1 ответом является число или последовательность цифр. Если получилась обыкновенная дробь, ответ запишите в виде десятичной.

Решения заданий части 2 и ответы к ним запишите на отдельном листе бумаги. Задания можно выполнять в любом порядке. Текст задания переписывать не надо, необходимо только указать его номер.

Сначала выполняйте задания части 1. Начать советуем с тех заданий, которые вызывают у Вас меньше затруднений, затем переходите к другим заданиям. Для экономии времени пропускайте задание, которое не удаётся выполнить сразу, и переходите к следующему. Если у Вас останется время, Вы сможете вернуться к пропущенным заданиям.

При выполнении части 1 все необходимые вычисления, преобразования выполняйте в черновике. **Записи в черновике, а также в тексте контрольных измерительных материалов не учитываются при оценивании работы.**

Если задание содержит рисунок, то на нём непосредственно в тексте работы можно выполнять необходимые Вам построения. Рекомендуем внимательно читать условие и проводить проверку полученного ответа.

При выполнении работы Вы можете воспользоваться справочными материалами, выданными вместе с вариантом КИМ, и линейкой.

Баллы, полученные Вами за выполненные задания, суммируются. Постарайтесь выполнить как можно больше заданий и набрать наибольшее количество баллов.

После завершения работы проверьте, чтобы ответ на каждое задание был записан под правильным номером.

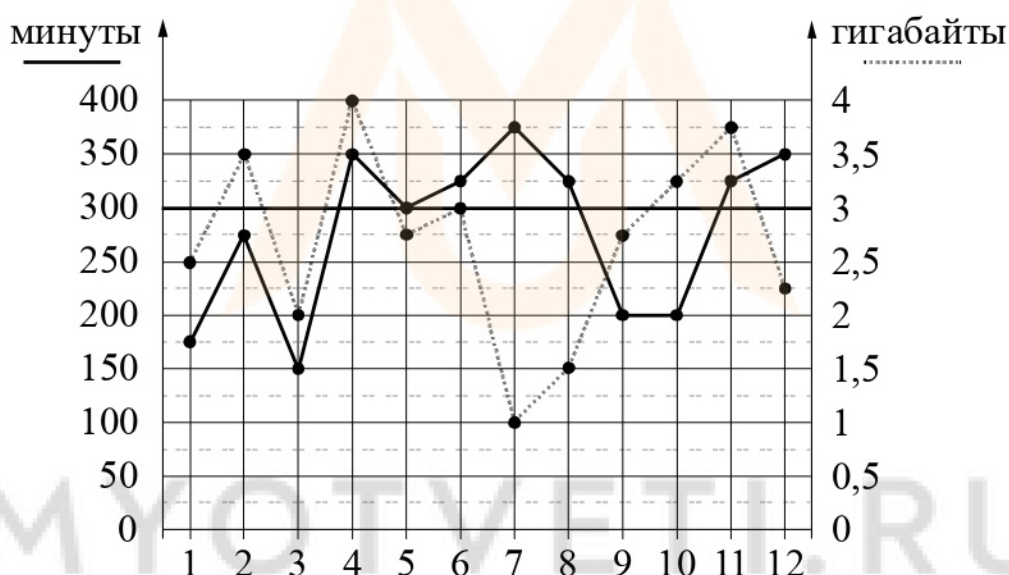
Желаем успеха!

Часть 1

Ответами к заданиям 1–19 являются число или последовательность цифр.

Прочитайте внимательно текст и выполните задания 1–5.

На рисунке точками показано количество минут исходящих вызовов и трафик мобильного интернета в гигабайтах, израсходованных абонентом в процессе пользования смартфоном, за каждый месяц 2019 года. Для удобства точки, соответствующие минутам и гигабайтам, соединены сплошными и пунктирными линиями соответственно.



В течение года абонент пользовался тарифом «Стандартный», абонентская плата по которому составляла 350 рублей в месяц. При условии нахождения абонента на территории РФ в абонентскую плату тарифа «Стандартный» входит:

- пакет минут, включающий 300 минут исходящих вызовов на номера, зарегистрированные на территории РФ;
- пакет интернета, включающий 3 гигабайта мобильного интернета;
- пакет СМС, включающий 120 СМС в месяц;
- безлимитные бесплатные входящие вызовы.

Стоимость минут, интернета и СМС сверх пакета тарифа указана в таблице.

Исходящие вызовы	3 руб./мин.
Мобильный интернет (пакет)	90 руб. за 0,5 Гб
СМС	2 руб./шт.

Абонент не пользовался услугами связи в роуминге. За весь год абонент отправил 110 СМС.

1 Определите, какие месяцы соответствуют указанному в таблице трафику мобильного интернета.

Заполните таблицу, в бланк ответов перенесите числа, соответствующие номерам месяцев, без пробелов, запятых и других дополнительных символов (например, для месяцев май, январь, ноябрь, август в ответе нужно записать число 51118).

Мобильный интернет	2,5 Гб	3 Гб	3,25 Гб	1 Гб
Номер месяца				

2 Пользуясь рисунком, поставьте в соответствие каждому из указанных периодов времени характеристику израсходованных минут и гигабайтов.

ПЕРИОДЫ

- А) январь – февраль
- Б) февраль – март
- В) август – сентябрь
- Г) ноябрь – декабрь

ХАРАКТЕРИСТИКИ

- 1) Расход минут увеличился, а расход гигабайтов уменьшился.
- 2) Расход гигабайтов увеличился, а расход минут уменьшился.
- 3) Расход минут увеличился, и расход гигабайтов увеличился.
- 4) Расход минут уменьшился, и расход гигабайтов уменьшился.

В таблице под каждой буквой укажите соответствующий номер. В ответе запишите последовательность цифр без пробелов, запятых и других дополнительных символов.

Ответ:

А	Б	В	Г

3 Сколько рублей потратил абонент на услуги связи в июне?

Ответ: _____.

4 Какое наименьшее количество минут исходящих вызовов за месяц было в 2019 году?

Ответ: _____.

- 5 Абонент хочет приобрести новый смартфон. В трёх салонах сотовой связи этот смартфон продаётся в кредит (сначала делается первоначальный взнос, а потом ежемесячно в течение всего срока кредита вносятся платежи) на разных условиях. Условия приведены в таблице.

Салон	Стоимость смартфона (руб.)	Первоначальный взнос (% от стоимости)	Срок кредита (мес.)	Ежемесячный платёж (руб.)
А	18 000	20	6	2650
Б	17 500	30	12	1200
В	17 600	25	12	1300

Определите, в каком из салонов покупка смартфона с учётом полностью выплаченного кредита обойдётся дешевле. В ответе запишите сумму, затраченную на покупку смартфона в этом салоне, в рублях.

Ответ: _____.

- 6 Найдите значение выражения $0,4 \cdot (-10)^3 - 7 \cdot (-10)^2 + 64$.

Ответ: _____.

- 7 Какое из данных чисел принадлежит промежутку $[7; 8]$?

1) $\sqrt{7}$ 2) $\sqrt{8}$ 3) $\sqrt{42}$ 4) $\sqrt{61}$

Ответ:

- 8 Найдите значение выражения $\frac{1}{4^{-10}} \cdot \frac{1}{4^9}$.

Ответ: _____.

- 9 Найдите корень уравнения $x + \frac{x}{11} = \frac{24}{11}$.

Ответ: _____.

- 10** В лыжных гонках участвуют 13 спортсменов из России, 2 спортсмена из Норвегии и 5 спортсменов из Швеции. Порядок, в котором спортсмены стартуют, определяется жребием. Найдите вероятность того, что первым будет стартовать спортсмен **не** из России.

Ответ: _____.

- 11** Установите соответствие между функциями и их графиками.

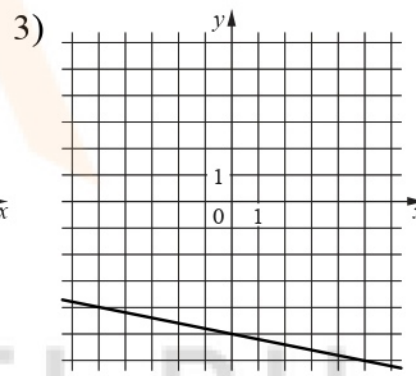
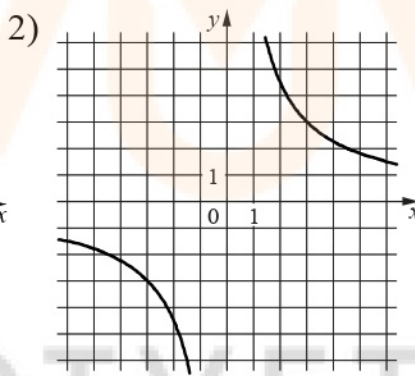
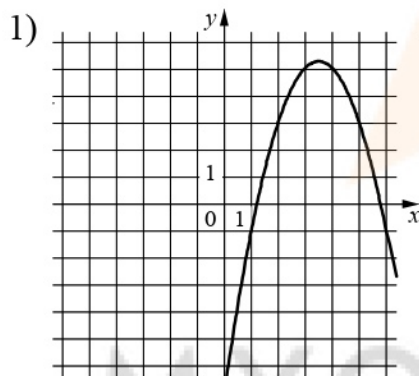
ФУНКЦИИ

А) $y = -\frac{1}{5}x - 5$

Б) $y = -x^2 + 7x - 7$

В) $y = \frac{9}{x}$

ГРАФИКИ



В таблице под каждой буквой укажите соответствующий номер.

Ответ:

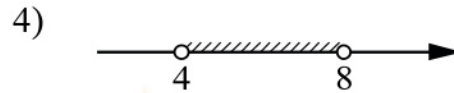
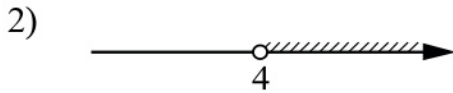
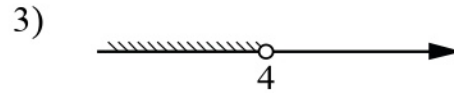
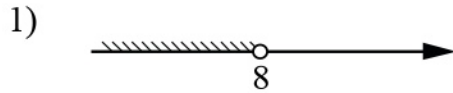
А	Б	В

- 12** Площадь четырёхугольника можно вычислить по формуле $S = \frac{d_1 d_2 \sin \alpha}{2}$, где d_1 и d_2 — длины диагоналей четырёхугольника, α — угол между диагоналями. Пользуясь этой формулой, найдите длину диагонали d_2 , если $d_1 = 6$, $\sin \alpha = \frac{1}{12}$, а $S = 3,75$.

Ответ: _____.

13 Укажите решение системы неравенств

$$\begin{cases} -12 + 3x < 0, \\ 9 - 4x > -23. \end{cases}$$

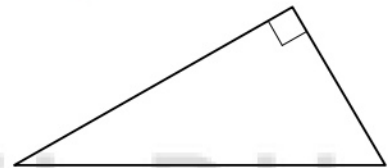


Ответ:

14 В амфитеатре 13 рядов. В первом ряду 17 мест, а в каждом следующем на 2 места больше, чем в предыдущем. Сколько всего мест в амфитеатре?

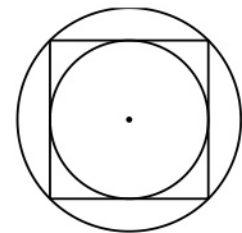
Ответ: _____.

15 В прямоугольном треугольнике катет и гипотенуза равны 16 и 34 соответственно. Найдите другой катет этого треугольника.



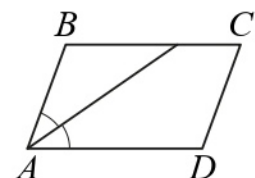
Ответ: _____.

16 Радиус окружности, описанной около квадрата, равен $44\sqrt{2}$. Найдите радиус окружности, вписанной в этот квадрат.



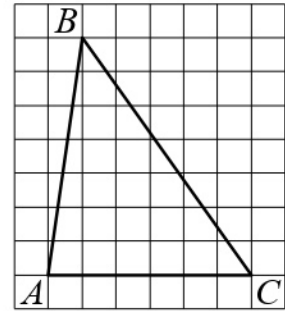
Ответ: _____.

17 Найдите острый угол параллелограмма $ABCD$, если биссектриса угла A образует со стороной BC угол, равный 34° . Ответ дайте в градусах.



Ответ: _____.

- 18 На клетчатой бумаге с размером клетки 1×1 изображён треугольник ABC . Найдите длину его средней линии, параллельной стороне AC .



Ответ: _____.

- 19 Какое из следующих утверждений верно?

- 1) Смежные углы всегда равны.
- 2) Каждая из биссектрис равнобедренного треугольника является его высотой.
- 3) Существует прямоугольник, диагонали которого взаимно перпендикулярны.

В ответе запишите номер выбранного утверждения.

Ответ:

MYOTVETI.RU

Тренировочная работа №2 по МАТЕМАТИКЕ

9 класс

25 ноября 2020 года

Вариант МА2090306

Выполнена: ФИО _____ класс _____

Инструкция по выполнению работы

Работа состоит из двух частей, включающих в себя 25 заданий. Часть 1 содержит 19 заданий, часть 2 содержит 6 заданий с развёрнутым ответом.

На выполнение работы по математике отводится 3 часа 55 минут (235 минут).

Ответы к заданиям 7 и 13 запишите в виде одной цифры, которая соответствует номеру правильного ответа.

Для остальных заданий части 1 ответом является число или последовательность цифр. Если получилась обыкновенная дробь, ответ запишите в виде десятичной.

Решения заданий части 2 и ответы к ним запишите на отдельном листе бумаги. Задания можно выполнять в любом порядке. Текст задания переписывать не надо, необходимо только указать его номер.

Сначала выполняйте задания части 1. Начать советуем с тех заданий, которые вызывают у Вас меньше затруднений, затем переходите к другим заданиям. Для экономии времени пропускайте задание, которое не удаётся выполнить сразу, и переходите к следующему. Если у Вас останется время, Вы сможете вернуться к пропущенным заданиям.

При выполнении части 1 все необходимые вычисления, преобразования выполняйте в черновике. **Записи в черновике, а также в тексте контрольных измерительных материалов не учитываются при оценивании работы.**

Если задание содержит рисунок, то на нём непосредственно в тексте работы можно выполнять необходимые Вам построения. Рекомендуем внимательно читать условие и проводить проверку полученного ответа.

При выполнении работы Вы можете воспользоваться справочными материалами, выданными вместе с вариантом КИМ, и линейкой.

Баллы, полученные Вами за выполненные задания, суммируются. Постарайтесь выполнить как можно больше заданий и набрать наибольшее количество баллов.

После завершения работы проверьте, чтобы ответ на каждое задание был записан под правильным номером.

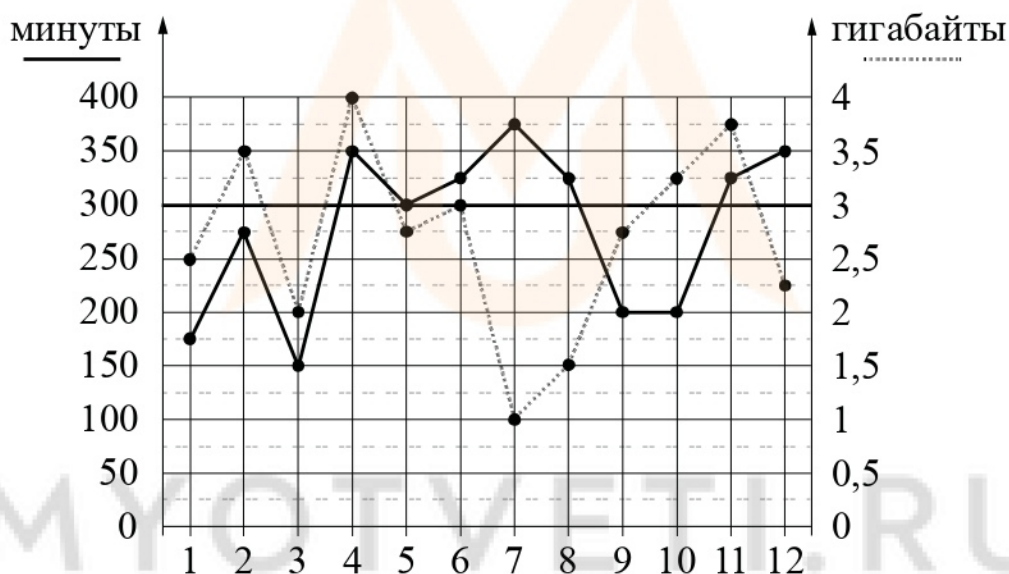
Желаем успеха!

Часть 1

Ответами к заданиям 1–19 являются число или последовательность цифр.

Прочитайте внимательно текст и выполните задания 1–5.

На рисунке точками показано количество минут исходящих вызовов и трафик мобильного интернета в гигабайтах, израсходованных абонентом в процессе пользования смартфоном, за каждый месяц 2019 года. Для удобства точки, соответствующие минутам и гигабайтам, соединены сплошными и пунктирными линиями соответственно.



В течение года абонент пользовался тарифом «Стандартный», абонентская плата по которому составляла 350 рублей в месяц. При условии нахождения абонента на территории РФ в абонентскую плату тарифа «Стандартный» входит:

- пакет минут, включающий 300 минут исходящих вызовов на номера, зарегистрированные на территории РФ;
- пакет интернета, включающий 3 гигабайта мобильного интернета;
- пакет СМС, включающий 120 СМС в месяц;
- безлимитные бесплатные входящие вызовы.

Стоимость минут, интернета и СМС сверх пакета тарифа указана в таблице.

Исходящие вызовы	3 руб./мин.
Мобильный интернет (пакет)	90 руб. за 0,5 Гб
СМС	2 руб./шт.

Абонент не пользовался услугами связи в роуминге. За весь год абонент отправил 110 СМС.

1 Определите, какие месяцы соответствуют указанному в таблице трафику мобильного интернета.

Заполните таблицу, в бланк ответов перенесите числа, соответствующие номерам месяцев, без пробелов, запятых и других дополнительных символов (например, для месяцев май, январь, ноябрь, август в ответе нужно записать число 51118).

Мобильный интернет	3 Гб	3,75 Гб	4 Гб	1,5 Гб
Номер месяца				

2 Пользуясь рисунком, поставьте в соответствие каждому из указанных периодов времени характеристику израсходованных минут и гигабайтов.

ПЕРИОДЫ

А) март – апрель

Б) апрель – май

В) июнь – июль

Г) июль – август

ХАРАКТЕРИСТИКИ

1) Расход минут увеличился, а расход гигабайтов уменьшился.

2) Расход гигабайтов увеличился, а расход минут уменьшился.

3) Расход минут увеличился, и расход гигабайтов увеличился.

4) Расход минут уменьшился, и расход гигабайтов уменьшился.

В таблице под каждой буквой укажите соответствующий номер. В ответе запишите последовательность цифр без пробелов, запятых и других дополнительных символов.

Ответ:

А	Б	В	Г

3 Сколько рублей потратил абонент на услуги связи в июле?

Ответ: _____.

4 Какой наибольший трафик мобильного интернета в гигабайтах за месяц был в 2019 году?

Ответ: _____.

- 5 Абонент хочет приобрести новый смартфон. В трёх салонах сотовой связи этот смартфон продаётся в кредит (сначала делается первоначальный взнос, а потом ежемесячно в течение всего срока кредита вносятся платежи) на разных условиях. Условия приведены в таблице.

Салон	Стоимость смартфона (руб.)	Первоначальный взнос (% от стоимости)	Срок кредита (мес.)	Ежемесячный платёж (руб.)
А	17 000	25	12	1250
Б	16 600	30	12	1200
В	17 500	20	6	2600

Определите, в каком из салонов покупка смартфона с учётом полностью выплаченного кредита обойдётся дешевле. В ответе запишите сумму, затраченную на покупку смартфона в этом салоне, в рублях.

Ответ: _____.

- 6 Найдите значение выражения $-0,7 \cdot (-10)^4 - 8 \cdot (-10)^2 - 26$.

Ответ: _____.

- 7 Какое из данных чисел принадлежит промежутку $[7; 8]$?

1) $\sqrt{7}$ 2) $\sqrt{8}$ 3) $\sqrt{48}$ 4) $\sqrt{56}$

Ответ:

- 8 Найдите значение выражения $\frac{1}{3^{-8}} \cdot \frac{1}{3^7}$.

Ответ: _____.

- 9 Найдите корень уравнения $x + \frac{x}{4} = -5$.

Ответ: _____.

- 10** В лыжных гонках участвуют 11 спортсменов из России, 6 спортсменов из Норвегии и 3 спортсмена из Швеции. Порядок, в котором спортсмены стартуют, определяется жребием. Найдите вероятность того, что первым будет стартовать спортсмен из России.

Ответ: _____.

- 11** Установите соответствие между функциями и их графиками.

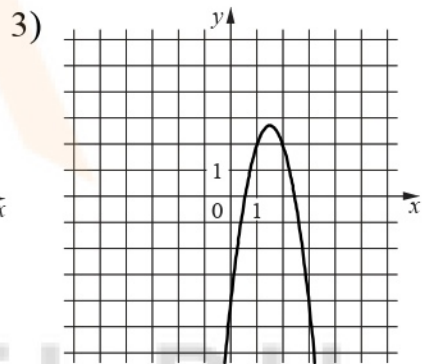
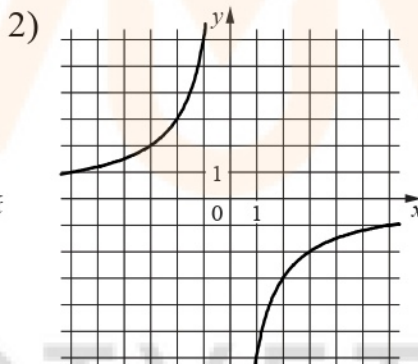
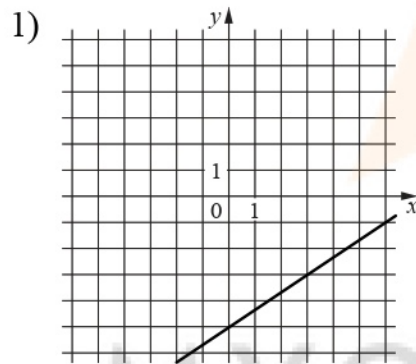
ФУНКЦИИ

A) $y = -3x^2 + 9x - 4$

Б) $y = -\frac{6}{x}$

В) $y = \frac{2}{3}x - 5$

ГРАФИКИ



В таблице под каждой буквой укажите соответствующий номер.

Ответ:

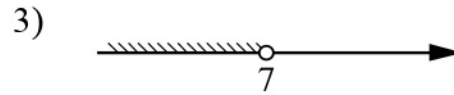
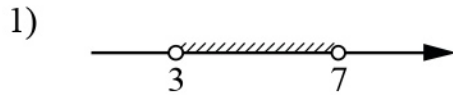
А	Б	В

- 12** Площадь четырёхугольника можно вычислить по формуле $S = \frac{d_1 d_2 \sin \alpha}{2}$, где d_1 и d_2 — длины диагоналей четырёхугольника, α — угол между диагоналями. Пользуясь этой формулой, найдите длину диагонали d_1 , если $d_2 = 16$, $\sin \alpha = \frac{5}{8}$, а $S = 45$.

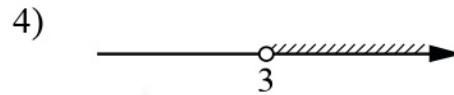
Ответ: _____.

13) Укажите решение системы неравенств

$$\begin{cases} -35 + 5x < 0, \\ 6 - 3x < -3. \end{cases}$$



2) нет решений



Ответ:

14) В амфитеатре 12 рядов. В первом ряду 16 мест, а в каждом следующем на 3 места больше, чем в предыдущем. Сколько всего мест в амфитеатре?

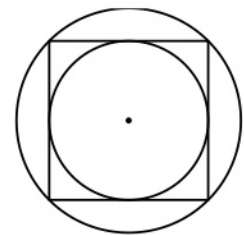
Ответ: _____.

15) В прямоугольном треугольнике катет и гипотенуза равны 9 и 15 соответственно. Найдите другой катет этого треугольника.



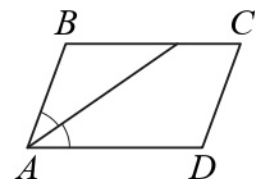
Ответ: _____.

16) Радиус окружности, описанной около квадрата, равен $6\sqrt{2}$. Найдите радиус окружности, вписанной в этот квадрат.



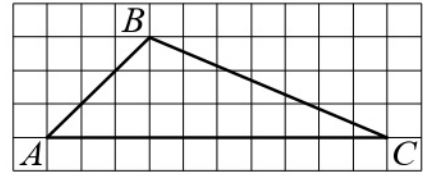
Ответ: _____.

17) Найдите острый угол параллелограмма $ABCD$, если биссектриса угла A образует со стороной BC угол, равный 16° . Ответ дайте в градусах.



Ответ: _____.

- 18** На клетчатой бумаге с размером клетки 1×1 изображён треугольник ABC . Найдите длину его средней линии, параллельной стороне AC .



Ответ: _____.

- 19** Какое из следующих утверждений верно?

- 1) Если в параллелограмме диагонали равны и перпендикулярны, то этот параллелограмм является квадратом.
- 2) Смежные углы всегда равны.
- 3) Каждая из биссектрис равнобедренного треугольника является его высотой.

В ответе запишите номер выбранного утверждения.

Ответ:

MYOTVETI.RU

Тренировочная работа №2 по МАТЕМАТИКЕ

9 класс

25 ноября 2020 года

Вариант МА2090307

Выполнена: ФИО _____ класс _____

Инструкция по выполнению работы

Работа состоит из двух частей, включающих в себя 25 заданий. Часть 1 содержит 19 заданий, часть 2 содержит 6 заданий с развёрнутым ответом.

На выполнение работы по математике отводится 3 часа 55 минут (235 минут).

Ответы к заданиям 7 и 13 запишите в виде одной цифры, которая соответствует номеру правильного ответа.

Для остальных заданий части 1 ответом является число или последовательность цифр. Если получилась обыкновенная дробь, ответ запишите в виде десятичной.

Решения заданий части 2 и ответы к ним запишите на отдельном листе бумаги. Задания можно выполнять в любом порядке. Текст задания переписывать не надо, необходимо только указать его номер.

Сначала выполняйте задания части 1. Начать советуем с тех заданий, которые вызывают у Вас меньше затруднений, затем переходите к другим заданиям. Для экономии времени пропускайте задание, которое не удаётся выполнить сразу, и переходите к следующему. Если у Вас останется время, Вы сможете вернуться к пропущенным заданиям.

При выполнении части 1 все необходимые вычисления, преобразования выполняйте в черновике. **Записи в черновике, а также в тексте контрольных измерительных материалов не учитываются при оценивании работы.**

Если задание содержит рисунок, то на нём непосредственно в тексте работы можно выполнять необходимые Вам построения. Рекомендуем внимательно читать условие и проводить проверку полученного ответа.

При выполнении работы Вы можете воспользоваться справочными материалами, выданными вместе с вариантом КИМ, и линейкой.

Баллы, полученные Вами за выполненные задания, суммируются. Постарайтесь выполнить как можно больше заданий и набрать наибольшее количество баллов.

После завершения работы проверьте, чтобы ответ на каждое задание был записан под правильным номером.

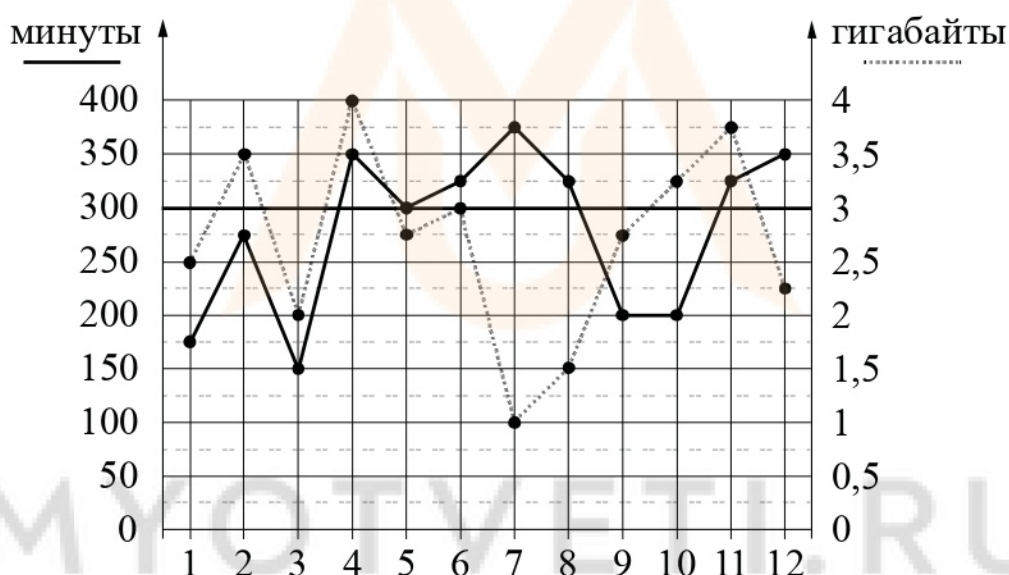
Желаем успеха!

Часть 1

Ответами к заданиям 1–19 являются число или последовательность цифр.

Прочитайте внимательно текст и выполните задания 1–5.

На рисунке точками показано количество минут исходящих вызовов и трафик мобильного интернета в гигабайтах, израсходованных абонентом в процессе пользования смартфоном, за каждый месяц 2019 года. Для удобства точки, соответствующие минутам и гигабайтам, соединены сплошными и пунктирными линиями соответственно.



В течение года абонент пользовался тарифом «Стандартный», абонентская плата по которому составляла 350 рублей в месяц. При условии нахождения абонента на территории РФ в абонентскую плату тарифа «Стандартный» входит:

- пакет минут, включающий 300 минут исходящих вызовов на номера, зарегистрированные на территории РФ;
- пакет интернета, включающий 3 гигабайта мобильного интернета;
- пакет СМС, включающий 120 СМС в месяц;
- безлимитные бесплатные входящие вызовы.

Стоимость минут, интернета и СМС сверх пакета тарифа указана в таблице.

Исходящие вызовы	3 руб./мин.
Мобильный интернет (пакет)	90 руб. за 0,5 Гб
СМС	2 руб./шт.

Абонент не пользовался услугами связи в роуминге. За весь год абонент отправил 110 СМС.

1 Определите, какие месяцы соответствуют указанному в таблице трафику мобильного интернета.

Заполните таблицу, в бланк ответов перенесите числа, соответствующие номерам месяцев, без пробелов, запятых и других дополнительных символов (например, для месяцев май, январь, ноябрь, август в ответе нужно записать число 51118).

Мобильный интернет	1,5 Гб	2 Гб	3,75 Гб	1 Гб
Номер месяца				

2 Пользуясь рисунком, поставьте в соответствие каждому из указанных периодов времени характеристику израсходованных минут и гигабайтов.

ПЕРИОДЫ

- А) февраль – март
- Б) март – апрель
- В) июль – август
- Г) ноябрь – декабрь

ХАРАКТЕРИСТИКИ

- 1) Расход минут увеличился, а расход гигабайтов уменьшился.
- 2) Расход гигабайтов увеличился, а расход минут уменьшился.
- 3) Расход минут увеличился, и расход гигабайтов увеличился.
- 4) Расход минут уменьшился, и расход гигабайтов уменьшился.

В таблице под каждой буквой укажите соответствующий номер. В ответе запишите последовательность цифр без пробелов, запятых и других дополнительных символов.

Ответ:

А	Б	В	Г

3 Сколько рублей потратил абонент на услуги связи в августе?

Ответ: _____.

4 Какой наименьший трафик мобильного интернета в гигабайтах за месяц был в 2019 году?

Ответ: _____.

- 5 Абонент хочет приобрести новый смартфон. В трёх салонах сотовой связи этот смартфон продаётся в кредит (сначала делается первоначальный взнос, а потом ежемесячно в течение всего срока кредита вносятся платежи) на разных условиях. Условия приведены в таблице.

Салон	Стоимость смартфона (руб.)	Первоначальный взнос (% от стоимости)	Срок кредита (мес.)	Ежемесячный платёж (руб.)
А	16 200	25	12	1250
Б	16 500	20	6	2600
В	17 000	30	12	1100

Определите, в каком из салонов покупка смартфона с учётом полностью выплаченного кредита обойдётся дешевле. В ответе запишите сумму, затраченную на покупку смартфона в этом салоне, в рублях.

Ответ: _____.

- 6 Найдите значение выражения $-0,8 \cdot (-10)^4 + 1 \cdot (-10)^2 - 51$.

Ответ: _____.

- 7 Какое из данных чисел принадлежит промежутку $[5; 6]$?

1) $\sqrt{5}$ 2) $\sqrt{6}$ 3) $\sqrt{23}$ 4) $\sqrt{31}$

Ответ:

- 8 Найдите значение выражения $\frac{1}{7^{-4}} \cdot \frac{1}{7^3}$.

Ответ: _____.

- 9 Найдите корень уравнения $x - \frac{x}{12} = \frac{11}{3}$.

Ответ: _____.

- 10** В лыжных гонках участвуют 13 спортсменов из России, 2 спортсмена из Норвегии и 5 спортсменов из Швеции. Порядок, в котором спортсмены стартуют, определяется жребием. Найдите вероятность того, что первым будет стартовать спортсмен из России.

Ответ: _____.

- 11** Установите соответствие между функциями и их графиками.

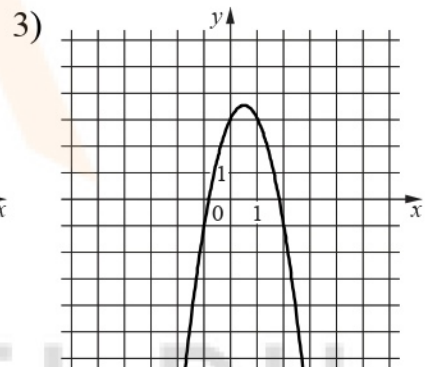
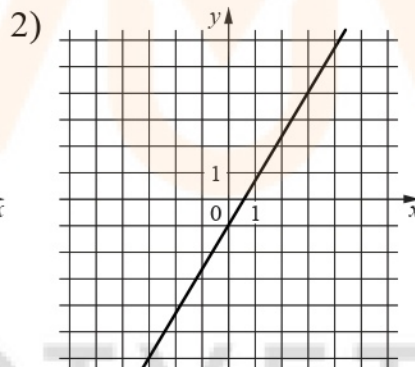
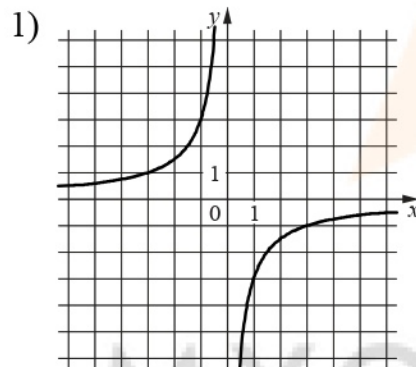
ФУНКЦИИ

A) $y = -2x^2 + 2x + 3$

Б) $y = -\frac{3}{x}$

В) $y = \frac{5}{3}x - 1$

ГРАФИКИ



В таблице под каждой буквой укажите соответствующий номер.

Ответ:

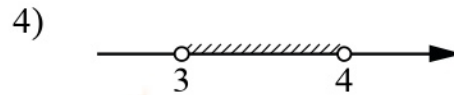
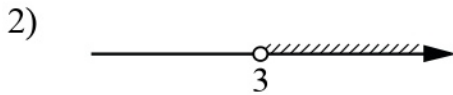
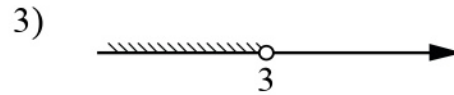
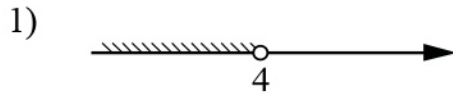
А	Б	В

- 12** Площадь четырёхугольника можно вычислить по формуле $S = \frac{d_1 d_2 \sin \alpha}{2}$, где d_1 и d_2 — длины диагоналей четырёхугольника, α — угол между диагоналями. Пользуясь этой формулой, найдите длину диагонали d_2 , если $d_1 = 11$, $\sin \alpha = \frac{7}{12}$, а $S = 57,75$.

Ответ: _____.

13 Укажите решение системы неравенств

$$\begin{cases} -9 + 3x < 0, \\ 2 - 3x > -10. \end{cases}$$



Ответ:

14 В амфитеатре 10 рядов. В первом ряду 19 мест, а в каждом следующем на 3 места больше, чем в предыдущем. Сколько всего мест в амфитеатре?

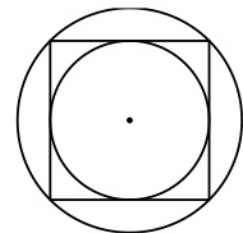
Ответ: _____.

15 В прямоугольном треугольнике катет и гипотенуза равны 9 и 41 соответственно. Найдите другой катет этого треугольника.



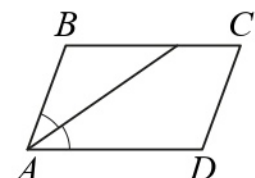
Ответ: _____.

16 Радиус окружности, описанной около квадрата, равен $38\sqrt{2}$. Найдите радиус окружности, вписанной в этот квадрат.



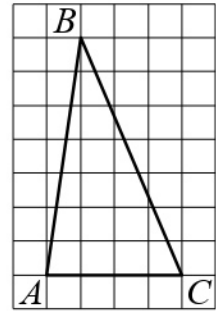
Ответ: _____.

17 Найдите острый угол параллелограмма $ABCD$, если биссектриса угла A образует со стороной BC угол, равный 9° . Ответ дайте в градусах.



Ответ: _____.

- 18 На клетчатой бумаге с размером клетки 1×1 изображён треугольник ABC . Найдите длину его средней линии, параллельной стороне AC .



Ответ: _____.

- 19 Какие из следующих утверждений верны?

- 1) Если в параллелограмме две соседние стороны равны, то этот параллелограмм является ромбом.
- 2) Существует прямоугольник, диагонали которого взаимно перпендикулярны.
- 3) Сумма углов любого треугольника равна 360 градусам.

В ответе запишите номера выбранных утверждений без пробелов, запятых и других дополнительных символов.

Ответ: _____.

MYOTVETI.RU

Тренировочная работа №2 по МАТЕМАТИКЕ

9 класс

25 ноября 2020 года

Вариант МА2090308

Выполнена: ФИО _____ класс _____

Инструкция по выполнению работы

Работа состоит из двух частей, включающих в себя 25 заданий. Часть 1 содержит 19 заданий, часть 2 содержит 6 заданий с развёрнутым ответом.

На выполнение работы по математике отводится 3 часа 55 минут (235 минут).

Ответы к заданиям 7 и 13 запишите в виде одной цифры, которая соответствует номеру правильного ответа.

Для остальных заданий части 1 ответом является число или последовательность цифр. Если получилась обыкновенная дробь, ответ запишите в виде десятичной.

Решения заданий части 2 и ответы к ним запишите на отдельном листе бумаги. Задания можно выполнять в любом порядке. Текст задания переписывать не надо, необходимо только указать его номер.

Сначала выполняйте задания части 1. Начать советуем с тех заданий, которые вызывают у Вас меньше затруднений, затем переходите к другим заданиям. Для экономии времени пропускайте задание, которое не удаётся выполнить сразу, и переходите к следующему. Если у Вас останется время, Вы сможете вернуться к пропущенным заданиям.

При выполнении части 1 все необходимые вычисления, преобразования выполняйте в черновике. **Записи в черновике, а также в тексте контрольных измерительных материалов не учитываются при оценивании работы.**

Если задание содержит рисунок, то на нём непосредственно в тексте работы можно выполнять необходимые Вам построения. Рекомендуем внимательно читать условие и проводить проверку полученного ответа.

При выполнении работы Вы можете воспользоваться справочными материалами, выданными вместе с вариантом КИМ, и линейкой.

Баллы, полученные Вами за выполненные задания, суммируются. Постарайтесь выполнить как можно больше заданий и набрать наибольшее количество баллов.

После завершения работы проверьте, чтобы ответ на каждое задание был записан под правильным номером.

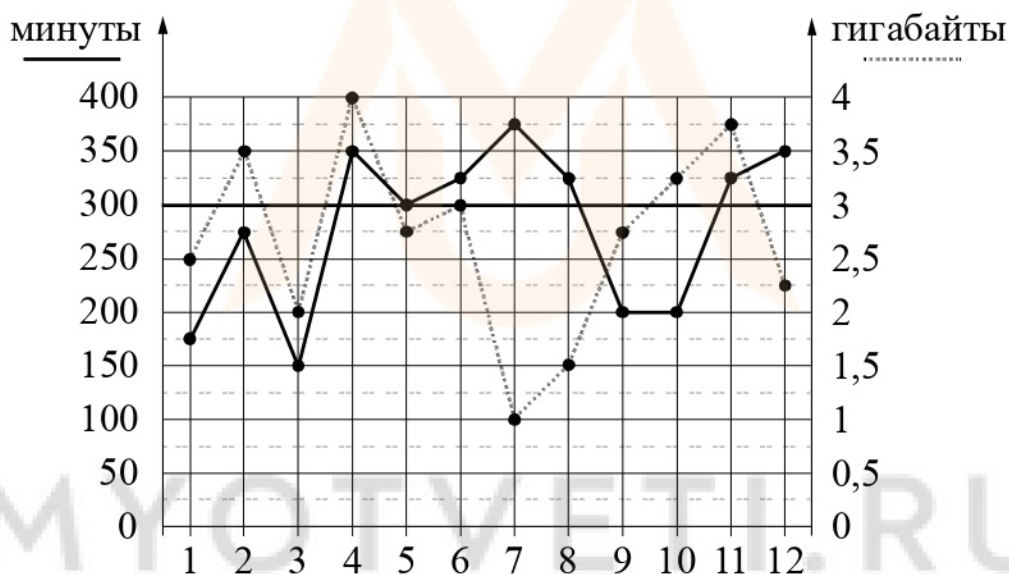
Желаем успеха!

Часть 1

Ответами к заданиям 1–19 являются число или последовательность цифр.

Прочитайте внимательно текст и выполните задания 1–5.

На рисунке точками показано количество минут исходящих вызовов и трафик мобильного интернета в гигабайтах, израсходованных абонентом в процессе пользования смартфоном, за каждый месяц 2019 года. Для удобства точки, соответствующие минутам и гигабайтам, соединены сплошными и пунктирными линиями соответственно.



В течение года абонент пользовался тарифом «Стандартный», абонентская плата по которому составляла 350 рублей в месяц. При условии нахождения абонента на территории РФ в абонентскую плату тарифа «Стандартный» входит:

- пакет минут, включающий 300 минут исходящих вызовов на номера, зарегистрированные на территории РФ;
- пакет интернета, включающий 3 гигабайта мобильного интернета;
- пакет СМС, включающий 120 СМС в месяц;
- безлимитные бесплатные входящие вызовы.

Стоимость минут, интернета и СМС сверх пакета тарифа указана в таблице.

Исходящие вызовы	3 руб./мин.
Мобильный интернет (пакет)	90 руб. за 0,5 Гб
СМС	2 руб./шт.

Абонент не пользовался услугами связи в роуминге. За весь год абонент отправил 110 СМС.

1 Определите, какие месяцы соответствуют указанному в таблице трафику мобильного интернета.

Заполните таблицу, в бланк ответов перенесите числа, соответствующие номерам месяцев, без пробелов, запятых и других дополнительных символов (например, для месяцев май, январь, ноябрь, август в ответе нужно записать число 51118).

Мобильный интернет	2 Гб	2,25 Гб	4 Гб	3,5 Гб
Номер месяца				

2 Пользуясь рисунком, поставьте в соответствие каждому из указанных периодов времени характеристику израсходованных минут и гигабайтов.

ПЕРИОДЫ

- А) март – апрель
- Б) апрель – май
- В) июль – август
- Г) ноябрь – декабрь

ХАРАКТЕРИСТИКИ

- 1) Расход минут увеличился, а расход гигабайтов уменьшился.
- 2) Расход гигабайтов увеличился, а расход минут уменьшился.
- 3) Расход минут увеличился, и расход гигабайтов увеличился.
- 4) Расход минут уменьшился, и расход гигабайтов уменьшился.

В таблице под каждой буквой укажите соответствующий номер. В ответе запишите последовательность цифр без пробелов, запятых и других дополнительных символов.

Ответ:

А	Б	В	Г

3 Сколько рублей потратил абонент на услуги связи в апреле?

Ответ: _____.

4 Какое наибольшее количество минут исходящих вызовов за месяц было в 2019 году?

Ответ: _____.

- 5 Абонент хочет приобрести новый смартфон. В трёх салонах сотовой связи этот смартфон продаётся в кредит (сначала делается первоначальный взнос, а потом ежемесячно в течение всего срока кредита вносятся платежи) на разных условиях. Условия приведены в таблице.

Салон	Стоимость смартфона (руб.)	Первоначальный взнос (% от стоимости)	Срок кредита (мес.)	Ежемесячный платёж (руб.)
А	19 000	30	12	1300
Б	19 800	25	6	2800
В	18 500	20	12	1450

Определите, в каком из салонов покупка смартфона с учётом полностью выплаченного кредита обойдётся дешевле. В ответе запишите сумму, затраченную на покупку смартфона в этом салоне, в рублях.

Ответ: _____.

- 6 Найдите значение выражения $-0,4 \cdot (-10)^4 + 3 \cdot (-10)^2 - 98$.

Ответ: _____.

- 7 Какое из данных чисел принадлежит промежутку $[5; 6]$?

1) $\sqrt{5}$ 2) $\sqrt{6}$ 3) $\sqrt{24}$ 4) $\sqrt{32}$

Ответ:

- 8 Найдите значение выражения $\frac{1}{5^{-3}} \cdot \frac{1}{5^4}$.

Ответ: _____.

- 9 Найдите корень уравнения $x - \frac{x}{12} = \frac{55}{12}$.

Ответ: _____.

- 10** В лыжных гонках участвуют 7 спортсменов из России, 1 спортсмен из Норвегии и 2 спортсмена из Швеции. Порядок, в котором спортсмены стартуют, определяется жребием. Найдите вероятность того, что первым будет стартовать спортсмен из Норвегии.

Ответ: _____.

- 11** Установите соответствие между функциями и их графиками.

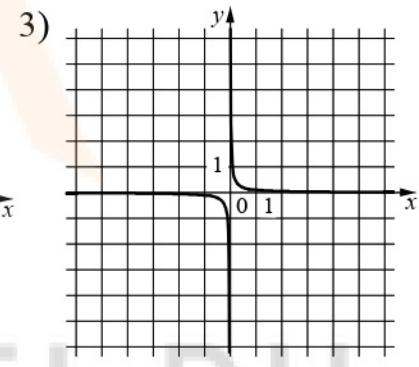
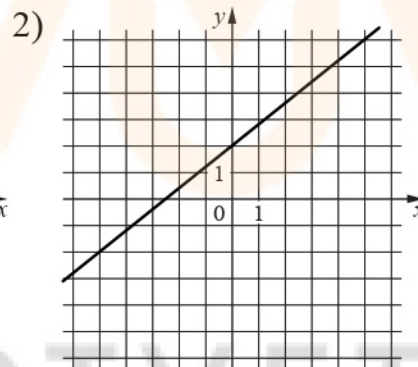
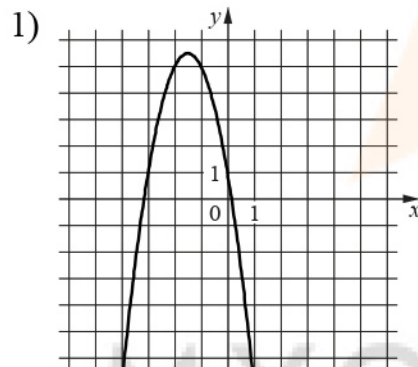
ФУНКЦИИ

A) $y = -2x^2 - 6x + 1$

Б) $y = \frac{1}{10x}$

В) $y = \frac{4}{5}x + 2$

ГРАФИКИ



В таблице под каждой буквой укажите соответствующий номер.

Ответ:

A	Б	В

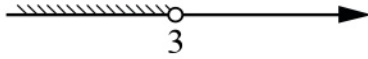
- 12** Площадь четырёхугольника можно вычислить по формуле $S = \frac{d_1 d_2 \sin \alpha}{2}$, где d_1 и d_2 — длины диагоналей четырёхугольника, α — угол между диагоналями. Пользуясь этой формулой, найдите длину диагонали d_2 , если $d_1 = 6$, $\sin \alpha = \frac{3}{7}$, а $S = 18$.

Ответ: _____.

13 Укажите решение системы неравенств

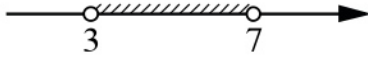
$$\begin{cases} -35 + 5x > 0, \\ 6 - 3x > -3. \end{cases}$$

1)

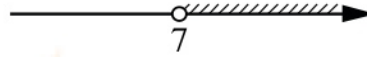


3) нет решений

2)



4)



Ответ:

14 В амфитеатре 14 рядов. В первом ряду 16 мест, а в каждом следующем на 2 места больше, чем в предыдущем. Сколько всего мест в амфитеатре?

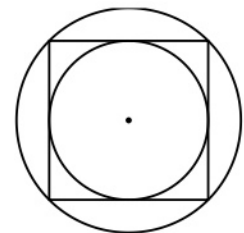
Ответ: _____.

15 В прямоугольном треугольнике катет и гипотенуза равны 40 и 41 соответственно. Найдите другой катет этого треугольника.



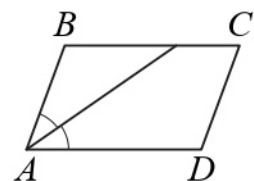
Ответ: _____.

16 Радиус окружности, описанной около квадрата, равен $28\sqrt{2}$. Найдите радиус окружности, вписанной в этот квадрат.



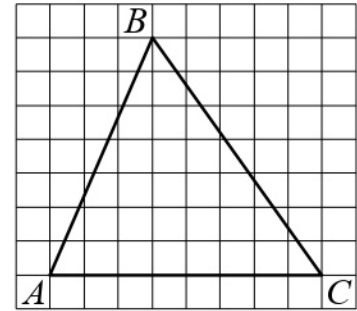
Ответ: _____.

17 Найдите острый угол параллелограмма $ABCD$, если биссектриса угла A образует со стороной BC угол, равный 12° . Ответ дайте в градусах.



Ответ: _____.

- 18 На клетчатой бумаге с размером клетки 1×1 изображён треугольник ABC . Найдите длину его средней линии, параллельной стороне AC .



Ответ: _____.

- 19 Какое из следующих утверждений верно?

- 1) В прямоугольном треугольнике гипотенуза равна сумме катетов.
- 2) Всегда один из двух смежных углов острый, а другой тупой.
- 3) Через любую точку, лежащую вне окружности, можно провести две касательные к этой окружности.

В ответе запишите номер выбранного утверждения.

Ответ:

MYOTVETI.RU