

Тренировочная работа №1 по ХИМИИ

9 класс

27 сентября 2021 года

Вариант ХИ2190101

Выполнена: ФИО _____ класс _____

Инструкция по выполнению работы

Работа по химии состоит из двух частей, включающих в себя 24 задания. Часть 1 содержит 19 заданий с кратким ответом, часть 2 содержит 5 заданий с развёрнутым ответом.

На выполнение работы отводится 180 минут.

Ответы к заданиям 1–19 записываются в виде одной цифры или последовательности цифр. Ответ запишите в поле ответа в тексте работы.

К заданиям 20–23 следует дать полный развёрнутый ответ, включающий в себя необходимые уравнения реакций и расчёты. Задания выполняются на чистом листе бумаги. Задание 24 предполагает выполнение эксперимента под наблюдением учителя.

Работа выполняется яркими чернилами. Допускается использование гелевой или капиллярной ручки.

При выполнении работы Вы можете пользоваться Периодической системой химических элементов Д.И. Менделеева, таблицей растворимости солей, кислот и оснований в воде, электрохимическим рядом напряжений металлов и непрограммируемым калькулятором.

При выполнении заданий можно пользоваться черновиком. **Записи в черновике, а также в тексте работы не учитываются при оценивании работы.**

Баллы, полученные Вами за выполненные задания, суммируются. Постарайтесь выполнить как можно больше заданий и набрать наибольшее количество баллов.

Желаем удачи!

Часть 1

Ответами к заданиям 1–17 являются цифра или последовательность цифр.

1 Выберите два высказывания, в которых говорится о йоде как о химическом элементе.

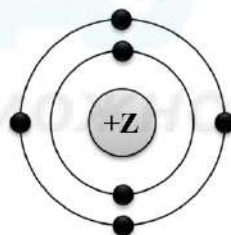
- 1) Тёмно-синие кристаллы йода больше всего похожи на графит.
- 2) Йод легко растворяется в спирте, эфире, хлороформе.
- 3) Йод содержится в щитовидной железе и надпочечниках.
- 4) Вдыхание паров йода разрушающе действует на дыхательные пути и поэтому очень опасно.
- 5) Из пищевых продуктов много йода содержат яйца, молоко, рыба.

Запишите в поле ответа номера выбранных высказываний.

Ответ:

--	--

2 На приведённом рисунке изображена модель атома химического элемента



Запишите в таблицу величину заряда ядра (X) атома химического элемента, модель которого изображена на рисунке, и номер группы (Y), в которой этот элемент расположен в Периодической системе. (Для записи ответа используйте арабские цифры.)

Ответ:

X	Y

3 Расположите химические элементы

- 1) кремний 2) хлор 3) фтор

в порядке уменьшения их электроотрицательности.

Запишите номера элементов в соответствующем порядке.

Ответ:

--	--	--

- 4 Установите соответствие между формулой соединения и степенью окисления хлора в этом соединении: к каждой позиции, обозначенной буквой, подберите соответствующую позицию, обозначенную цифрой.

ФОРМУЛА СОЕДИНЕНИЯ	СТЕПЕНЬ ОКИСЛЕНИЯ ХЛОРА
А) Cl_2O_7	1) +1
Б) NaClO	2) +7
В) AlCl_3	3) 0
	4) -1

Запишите в таблицу выбранные цифры под соответствующими буквами.

Ответ:

А	Б	В

- 5 Из предложенного перечня выберите два вещества с ионной связью.

- 1) BaCl_2
- 2) NH_3
- 3) Ca
- 4) NO_2
- 5) CaO

Запишите номера выбранных ответов.

Ответ:

--	--

- 6 Какие два утверждения верны для характеристики как фтора, так и иода?

- 1) Соответствующее простое вещество существует в виде двухатомных молекул.
- 2) Химический элемент **не образует** летучие водородные соединения.
- 3) Электроны в атоме расположены на двух электронных слоях.
- 4) Формула высшего оксида R_2O_5 .
- 5) Одинаковое количество электронов во внешнем электронном слое.

Запишите номера выбранных ответов.

Ответ:

--	--

7 Из предложенного перечня веществ выберите амфотерный гидроксид и кислотный оксид.

- 1) CO
- 2) Al(OH)₃
- 3) Ca(OH)₂
- 4) Al₂O₃
- 5) SO₃

Запишите в поле ответа сначала номер амфотерного гидроксида, а затем номер кислотного оксида.

Ответ:

--	--

8 Какие два из перечисленных веществ вступают в реакцию с оксидом бария? Запишите номера выбранных ответов.

- 1) SO₂
- 2) Cu
- 3) H₂O
- 4) Fe(OH)₂
- 5) Li₂O

Запишите номера выбранных ответов.

Ответ:

--	--

9 Установите соответствие между реагирующими веществами и продуктами(-ом) их взаимодействия: к каждой позиции, обозначенной буквой, подберите соответствующую позицию, обозначенную цифрой.

РЕАГИРУЮЩИЕ ВЕЩЕСТВА	ПРОДУКТЫ ВЗАИМОДЕЙСТВИЯ
A) SO ₂ + KOH →	1) → K ₂ SO ₃ + H ₂
Б) SO ₃ + H ₂ O	2) → K ₂ SO ₄ + H ₂ O
В) SO ₃ + KOH →	3) → H ₂ SO ₃
	4) → KHSO ₃
	5) → H ₂ SO ₄

Запишите в таблицу выбранные цифры под соответствующими буквами.

Ответ:

А	Б	В

- 10** Установите соответствие между формулой вещества и реагентами, с которыми это вещество может вступать в реакцию: к каждой позиции, обозначенной буквой, подберите соответствующую позицию, обозначенную цифрой.

ФОРМУЛА ВЕЩЕСТВА

- A) Cl_2
 Б) Fe_2O_3
 B) ZnSO_4

РЕАГЕНТЫ

- 1) $\text{HNO}_3, \text{SO}_3$
 2) $\text{Fe}, \text{Na}_2\text{SO}_4$
 3) $\text{Ca}, \text{H}_2\text{O}$
 4) Al, BaCl_2

Запишите в таблицу выбранные цифры под соответствующими буквами.

Ответ:

А	Б	В

- 11** Из предложенного перечня выберите две пары веществ, между которыми протекает реакция замещения.

- 1) литий и вода
 2) водород и хлор
 3) серная кислота и оксид алюминия
 4) водород и оксид меди(II)
 5) карбонат натрия и соляная кислота

Запишите номера выбранных ответов.

Ответ:

--	--

- 12** Установите соответствие между реагирующими веществами и признаком протекающей между ними реакции: к каждой позиции, обозначенной буквой, подберите соответствующую позицию, обозначенную цифрой.

РЕАГИРУЮЩИЕ
ВЕЩЕСТВА

- A) NH_4Cl и NaOH
 Б) CuCl_2 и AgNO_3
 B) FeCl_3 и Ca(OH)_2

ПРИЗНАК РЕАКЦИИ

- 1) выпадение белого осадка
 2) выпадение бурого осадка
 3) выпадение голубого осадка
 4) выделение газа

Запишите в таблицу выбранные цифры под соответствующими буквами.

Ответ:

А	Б	В

13 При полной диссоциации 1 моль каких двух из представленных веществ образуется 2 моль анионов?

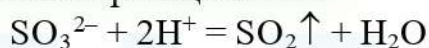
- 1) хлорид бериллия
- 2) сульфат калия
- 3) сульфид аммония
- 4) нитрат кальция
- 5) бромид алюминия

Запишите номера выбранных ответов.

Ответ:

--	--

14 Выберите два исходных вещества, взаимодействию которых соответствует сокращённое ионное уравнение реакции?



- 1) Na_2SO_4
- 2) CaSO_3
- 3) K_2SO_3
- 4) Na_2S
- 5) NH_3
- 6) HCl

Запишите номера выбранных ответов.

Ответ:

--	--

15 Установите соответствие между схемой процесса и названием процесса, происходящего в окислительно-восстановительной реакции: к каждой позиции, обозначенной буквой, подберите соответствующую позицию, обозначенную цифрой.

СХЕМА ПРОЦЕССА	НАЗВАНИЕ ПРОЦЕССА
А) $\text{N}^{+3} \rightarrow \text{N}^{+5}$	1) окисление
Б) $\text{Mn}^{+7} \rightarrow \text{Mn}^{+6}$	2) восстановление
В) $\text{Cl}^{+5} \rightarrow \text{Cl}^{-1}$	

Запишите в таблицу выбранные цифры под соответствующими буквами.

Ответ:

А	Б	В

16 Из перечисленных суждений о назначении лабораторной посуды и оборудования выберите верное(-ые).

- 1) Ступка с пестиком предназначена для измельчения твёрдых веществ.
- 2) Делительную воронку используют для разделения несмешивающихся жидкостей.
- 3) Для измерения объёма жидкости используют мерный цилиндр.
- 4) С помощью ареометра измеряют количество теплоты, которая выделяется или поглощается в реакциях.

Запишите в поле ответа номер(-а) верного(-ых) суждения(-й).

Ответ:

--	--	--

17 Установите соответствие между двумя веществами и реактивом, с помощью которого можно различить эти вещества: к каждой позиции, обозначенной буквой, подберите соответствующую позицию, обозначенную цифрой.

ВЕЩЕСТВА

РЕАКТИВ

А) Na_2SO_3 и K_2SO_4

1) NaOH

Б) NH_4Cl и NaCl

2) $\text{Ba}(\text{NO}_3)_2$

В) KNO_3 и KCl

3) AgNO_3

4) HCl

Запишите в таблицу выбранные цифры под соответствующими буквами.

Ответ:

А	Б	В

Ответом к заданиям 18, 19 является целое число или конечная десятичная дробь.

Задания 18 и 19 выполняются с использованием следующего текста.

Сульфат аммония – химическое соединение $(\text{NH}_4)_2\text{SO}_4$, используется в качестве азотного удобрения.

18 Вычислите в процентах массовую долю азота в сульфате аммония. Запишите число с точностью до целых.

Ответ: _____.

19 При подкормках овощных и цветочных культур в вегетационный период в почву вносится 6 г азота на один квадратный метр. Для подкормки участка потребовалось 800 г сульфата аммония, других азотных удобрений не применялось. Вычислите площадь участка в м^2 . Запишите число с точностью до целых.

Ответ: _____.

Часть 2

Для ответов на задания 20–22 используйте чистый лист. Запишите сначала номер задания (20, 21 или 22), а затем – развёрнутый ответ на него. Ответы записывайте чётко и разборчиво.

20 Используя метод электронного баланса, составьте уравнение реакции:



Определите окислитель и восстановитель.

21 Дана схема превращений:



Напишите молекулярные уравнения реакций, с помощью которых можно осуществить указанные превращения. Для первого превращения составьте сокращённое ионное уравнение.

22 Вычислите объём углекислого газа (н. у.), который выделится при действии на избыток карбоната кальция 730 г 20 %-ного раствора соляной кислоты.

В ответе запишите уравнение реакции, о которой идёт речь в условии задачи, и приведите все необходимые вычисления (указывайте единицы измерения искомых физических величин).

Практическая часть

Приступайте к выполнению заданий 23 и 24 после выполнения всех предыдущих заданий. Прочитайте текст и выполните задания 23 и 24. Для ответа на задание 23 используйте чистый лист. Запишите сначала номер задания (23), а затем – развёрнутый ответ к нему. Ответ записывайте чётко и разборчиво. Задание 24 выполняйте только под наблюдением учителя.

Дан раствор сульфата меди(II), а также набор следующих реактивов: карбонат кальция, соляная кислота, растворы нитрата калия, гидроксида натрия, хлорида бария.

- 23** Используя только реактивы из приведённого перечня, запишите молекулярные уравнения двух реакций, которые характеризуют химические свойства сульфата меди(II), и укажите признаки их протекания.

Ознакомьтесь с инструкцией по выполнению задания 24, прилагаемой к заданиям. Подготовьте лабораторное оборудование, необходимое для проведения эксперимента.

- 24** Проведите химические реакции между сульфатом меди(II) и выбранными веществами в соответствии с составленными уравнениями реакции, соблюдая правила техники безопасности, приведённые в инструкции к заданию. Опишите изменения, происходящие с веществами в ходе проведённых реакций.

Инструкция по выполнению задания 24

Внимание! В случае ухудшения самочувствия перед началом опытов или во время их выполнения обязательно сообщите об этом организатору в аудитории.

1. **Вы приступаете к выполнению эксперимента.** Для этого получите лоток с лабораторным оборудованием и реактивами у специалиста по обеспечению лабораторных работ в аудитории.
2. **Прочтите** ещё раз перечень веществ, приведённый в тексте к заданиям 23 и 24, и убедитесь (по формулам в этикетках) в том, что на выданном лотке находятся пять перечисленных в перечне реактивов.
3. **Перед началом выполнения эксперимента** осмотрите ёмкости с реактивами и определите способ работы с ними. При этом обратите внимание на рекомендации, которым Вы должны следовать.
 - 3.1 **В склянке находится пипетка.** Это означает, что отбор жидкости и переливание её в пробирку для проведения реакции необходимо проводить только с помощью пипетки. Для проведения опытов отбирают 7–10 капель реактива.
 - 3.2 **Пипетка в склянке с жидкостью отсутствует.** В этом случае переливание раствора осуществляют через край склянки, которую располагают так, чтобы при её наклоне этикетка оказалась сверху («этикетку — в ладонь!»). Склянку медленно наклоняют над пробиркой, пока нужный объём раствора не перельётся в неё. Объём перелитого раствора должен составлять 1–2 мл (1–2 см).
 - 3.3 **Для проведения опыта требуется порошкообразное (сыпучее) вещество.** Отбор порошкообразного вещества из ёмкости осуществляют только с помощью ложечки или шпателя.
 - 3.4 **При отборе исходного реактива взят его излишек.** Возврат излишка реактива в исходную ёмкость категорически запрещён. Его помещают в отдельную, резервную пробирку.
 - 3.5 Сосуд с исходным реактивом (жидкостью или порошком) **обязательно закрывается** крышкой (пробкой) от этой же ёмкости.
 - 3.6 При растворении в воде порошкообразного вещества или при перемешивании реактивов **следует** слегка ударять пальцем по дну пробирки.
 - 3.7 Для определения запаха вещества **взмахом** руки над горлышком сосуда с веществом **направлять** на себя пары этого вещества.

3.8 Для проведения нагревания пробирки с реактивами на пламени спиртовки необходимо:

- снять колпачок спиртовки и поднести зажжённую спичку к её фитилю;
- закрепить пробирку в пробиркодержателе на расстоянии 1–2 см от горлышка пробирки;
- внести пробирку в пламя спиртовки и некоторое время передвигать её в пламени вверх и вниз так, чтобы содержимое пробирки прогрелось равномерно;
- далее следует нагревать только ту часть пробирки, где находятся вещества, при этом пробирку удерживать в слегка наклонном положении;
- открытый конец пробирки следует отводить от себя и других людей;
- после нагревания пробирку с помощью пробиркодержателя поместить в штатив для пробирок;
- фитиль спиртовки закрыть колпачком.

3.9 Если реактивы попали на рабочий стол, их удаляют с поверхности стола с помощью салфетки.

3.10 Если реактив попал на кожу или одежду, необходимо незамедлительно обратиться за помощью к специалисту по обеспечению лабораторных работ в аудитории.

- 4. Вы готовы к выполнению эксперимента.** Поднимите руку и попросите организатора в аудитории пригласить экспертов для оценивания проводимого Вами эксперимента.
- 5. Начинайте выполнять опыт.** Записывайте в черновик свои наблюдения за изменениями, происходящими с веществами.
- 6. Вы завершили эксперимент.** Проверьте соответствие зафиксированных на черновике признаков протекания реакций признакам, указанным в Вашем ответе на задание 23. При необходимости, дополните ответ или скорректируйте его.

Тренировочная работа №1 по ХИМИИ

9 класс

27 сентября 2021 года

Вариант ХИ2190102

Выполнена: ФИО _____ класс _____

Инструкция по выполнению работы

Работа по химии состоит из двух частей, включающих в себя 24 задания. Часть 1 содержит 19 заданий с кратким ответом, часть 2 содержит 5 заданий с развёрнутым ответом.

На выполнение работы отводится 180 минут.

Ответы к заданиям 1–19 записываются в виде одной цифры или последовательности цифр. Ответ запишите в поле ответа в тексте работы.

К заданиям 20–23 следует дать полный развёрнутый ответ, включающий в себя необходимые уравнения реакций и расчёты. Задания выполняются на чистом листе бумаги. Задание 24 предполагает выполнение эксперимента под наблюдением учителя.

Работа выполняется яркими чернилами. Допускается использование гелевой или капиллярной ручки.

При выполнении работы Вы можете пользоваться Периодической системой химических элементов Д.И. Менделеева, таблицей растворимости солей, кислот и оснований в воде, электрохимическим рядом напряжений металлов и непрограммируемым калькулятором.

При выполнении заданий можно пользоваться черновиком. **Записи в черновике, а также в тексте работы не учитываются при оценивании работы.**

Баллы, полученные Вами за выполненные задания, суммируются. Постарайтесь выполнить как можно больше заданий и набрать наибольшее количество баллов.

Желаем удачи!

Часть 1

Ответами к заданиям 1–17 являются цифра или последовательность цифр.

1 Выберите два высказывания, в которых говорится о ртути как о химическом элементе.

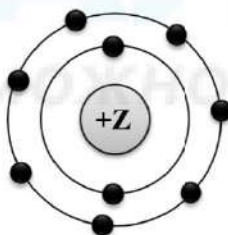
- 1) Ртуть входит в состав оксида ртути.
- 2) В воздухе были обнаружены пары ртути.
- 3) Из разбитого градусника вылилась ртуть.
- 4) Киноварь – рудный минерал, содержащий ртуть.
- 5) Как проводник ртуть используется в переключателях света.

Запишите в поле ответа номера выбранных высказываний.

Ответ:

--	--

2 На приведённом рисунке изображена модель атома химического элемента



Запишите в таблицу величину заряда ядра (X) атома химического элемента, модель которого изображена на рисунке, и номер группы (Y), в которой этот элемент расположен в Периодической системе. (Для записи ответа используйте арабские цифры.)

Ответ:	X	Y

3 Расположите химические элементы

- 1) фосфор 2) сера 3) алюминий

в порядке увеличения их электроотрицательности.

Запишите номера элементов в соответствующем порядке.

Ответ: _____.

- 4 Установите соответствие между формулой соединения и степенью окисления фосфора в этом соединении: к каждой позиции, обозначенной буквой, подберите соответствующую позицию, обозначенную цифрой.

ФОРМУЛА СОЕДИНЕНИЯ	СТЕПЕНЬ ОКИСЛЕНИЯ ФОСФОРА
А) $Mg_3(PO_4)_2$	1) 0
Б) P_2O_3	2) +3
В) PH_3	3) +5
	4) -3

Запишите в таблицу выбранные цифры под соответствующими буквами.

Ответ:

А	Б	В

- 5 Из предложенного перечня выберите два вещества с ковалентной полярной связью.

- 1) KI
- 2) Cl_2
- 3) PH_3
- 4) CaO
- 5) H_2O

Запишите номера выбранных ответов.

Ответ:

--	--

- 6 Какие два утверждения верны для характеристики как лития, так и азота?

- 1) Химический элемент относится к металлам.
- 2) Электроны в атоме расположены на двух электронных слоях.
- 3) Химический элемент образует летучие водородные соединения.
- 4) Значение электроотрицательности меньше, чем у кислорода.
- 5) Радиус атома больше, чем у углерода.

Запишите в поле ответа номера выбранных высказываний.

Ответ:

--	--

7 Из предложенного перечня веществ выберите щёлочь и кислотный оксид.

- 1) HCl
- 2) Ca(OH)₂
- 3) NO
- 4) SO₂
- 5) Cu(OH)₂

Запишите в поле ответа сначала номер щёлочи, а затем номер кислотного оксида.

Ответ:

--	--

8 Какие два из перечисленных веществ вступают в реакцию с оксидом фосфора(V)?

- 1) O₂
- 2) KOH
- 3) H₂O
- 4) HCl
- 5) K₂SO₄

Запишите номера выбранных ответов.

Ответ:

--	--

9 Установите соответствие между реагирующими веществами и продуктами(-ом) их взаимодействия: к каждой позиции, обозначенной буквой, подберите соответствующую позицию, обозначенную цифрой.

РЕАГИРУЮЩИЕ ВЕЩЕСТВА	ПРОДУКТЫ ВЗАИМОДЕЙСТВИЯ
А) P ₂ O ₅ + NaOH →	1) → H ₃ PO ₃
Б) P ₂ O ₅ + H ₂ O →	2) → Na ₃ PO ₄ + H ₂ O
В) H ₃ PO ₄ + NaOH →	3) → Na ₃ PO ₄ + H ₂
	4) → Na ₂ HPO ₃ + H ₂ O
	5) → H ₃ PO ₄

Запишите в таблицу выбранные цифры под соответствующими буквами.

Ответ:

А	Б	В

- 10** Установите соответствие между формулой вещества и реагентами, с которыми это вещество может вступать в реакцию: к каждой позиции, обозначенной буквой, подберите соответствующую позицию, обозначенную цифрой.

ФОРМУЛА ВЕЩЕСТВА

- A) Al
 Б) FeO
 B) H₃PO₄

РЕАГЕНТЫ

- 1) CO, HNO₃(конц.)
 2) HCl, NaOH
 3) Al₂O₃, K₂SO₄
 4) Ba(OH)₂, Mg

Запишите в таблицу выбранные цифры под соответствующими буквами.

Ответ:

А	Б	В

- 11** С какими из перечисленных ниже веществ оксид кальция вступает в реакцию соединения?

- 1) кислород
 2) водород
 3) вода
 4) углекислый газ
 5) соляная кислота

Запишите номера выбранных ответов.

Ответ:

--	--

- 12** Установите соответствие между реагирующими веществами и признаком протекающей между ними реакции: к каждому элементу первого столбца подберите соответствующий элемент из второго столбца.

РЕАГИРУЮЩИЕ
ВЕЩЕСТВА

- A) Zn и NaOH(изб.)
 Б) H₂SO₄ и Na₂SO₃
 B) BaI₂ и AgNO₃

ПРИЗНАК РЕАКЦИИ

- 1) выделение газа без запаха
 2) выделение газа с неприятным запахом
 3) выпадение белого осадка
 4) выпадение жёлтого осадка

Запишите в таблицу выбранные цифры под соответствующими буквами.

Ответ:

А	Б	В

13 При полной диссоциации 1 моль каких двух из представленных веществ образуется 2 моль катионов?

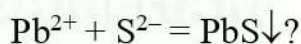
- 1) фосфат калия
- 2) сульфит натрия
- 3) хлорид кальция
- 4) карбонат аммония
- 5) сульфат цинка

Запишите номера выбранных ответов.

Ответ:

--	--

14 Взаимодействие каких веществ описывается сокращённым ионным уравнением



- 1) PbO
- 2) Pb(OH)₂
- 3) Pb(NO₃)₂
- 4) H₂S
- 5) SO₂
- 6) (NH₄)₂S

Запишите номера выбранных ответов.

Ответ:

--	--

15 Установите соответствие между схемой процесса, происходящего в окислительно-восстановительной реакции, и названием процесса: к каждой позиции, обозначенной буквой, подберите соответствующую позицию, обозначенную цифрой.

СХЕМА ПРОЦЕССА	НАЗВАНИЕ ПРОЦЕССА
А) $\text{N}^{+2} \rightarrow \text{N}^0$	1) окисление
Б) $\text{P}^{+3} \rightarrow \text{P}^{+5}$	2) восстановление
В) $\text{I}^0 \rightarrow \text{I}^{+5}$	

Запишите в таблицу выбранные цифры под соответствующими буквами.

Ответ:

А	Б	В

16 Из перечисленных суждений о способах разделения смесей выберите верное(-ые) суждение(-я).

- 1) Отделить от сахара примесь речного песка можно растворением и последующим фильтрованием смеси.
- 2) Хлорид калия можно выделить из водного раствора выпариванием.
- 3) Медные опилки из смеси можно выделить магнитом.
- 4) Две несмешивающиеся жидкости можно разделить с помощью делительной воронки.

Запишите в поле ответа номер(-а) верного(-ых) суждения(-й).

Ответ:

--	--	--

17 Установите соответствие между двумя веществами и реактивом, с помощью которого можно различить эти вещества: к каждой позиции, обозначенной буквой, подберите соответствующую позицию, обозначенную цифрой.

ВЕЩЕСТВА

РЕАКТИВ

А) CuCl_2 и CuSO_4

1) HCl

Б) NH_4NO_3 и KNO_3

2) $\text{Ba}(\text{NO}_3)_2$

В) Na_2SO_3 и Na_2SO_4

3) KOH

4) CaCO_3

Запишите в таблицу выбранные цифры под соответствующими буквами.

Ответ:

А	Б	В

Ответом к заданиям 18, 19 является целое число или конечная десятичная дробь.

Задания 18 и 19 выполняются с использованием следующего текста.

Бура (тетраборат натрия) – химическое соединение $\text{Na}_2\text{B}_4\text{O}_7$, используется как борное удобрение для повышения урожайности льна, сахарной свёклы, овощных культур и кормовых корнеплодов.

18 Вычислите в процентах массовую долю бора в тетраборате натрия. Запишите число с точностью до целых.

Ответ: _____.

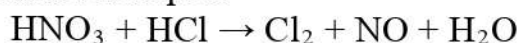
19 Под влиянием бора увеличивается сахаристость сахарной свёклы. При подкормках этой культуры в вегетационный период в почву вносится 0,6 г бора на один квадратный метр. Для подкормки участка потребовалось 82,64 г буры, других борных удобрений не применялось. Вычислите площадь участка в m^2 . Запишите число с точностью до целых.

Ответ: _____.

Часть 2

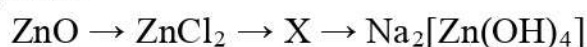
Для ответов на задания 20–22 используйте чистый лист. Запишите сначала номер задания (20, 21 или 22), а затем – развёрнутый ответ на него. Ответы записывайте чётко и разборчиво.

- 20** Используя метод электронного баланса, расставьте коэффициенты в уравнении реакции, схема которой



Определите окислитель и восстановитель.

- 21** Дана схема превращений:



Напишите молекулярные уравнения, с помощью которых можно осуществить указанные превращения. Для второго превращения составьте сокращённое ионное уравнение.

- 22** Рассчитайте массу гидроксида натрия, необходимую для полной нейтрализации 245 г раствора с массовой долей серной кислоты 20 %.

В ответе запишите уравнение реакции, о которой идёт речь в условии задачи, и приведите все необходимые вычисления (указывайте единицы измерения искомых физических величин).

Практическая часть

Приступайте к выполнению заданий 23 и 24 после выполнения всех предыдущих заданий. Прочитайте текст и выполните задания 23 и 24. Для ответа на задание 23 используйте чистый лист. Запишите сначала номер задания (23), а затем - развёрнутый ответ к нему. Ответ записывайте чётко и разборчиво. Задание 24 выполняйте только под наблюдением учителя.

Дан раствор сульфата железа(II), а также набор следующих реактивов: оксид меди(II), растворы соляной кислоты, гидроксида натрия, хлорида бария и хлорида алюминия.

- 23** Используя только реактивы из приведённого перечня, запишите молекулярные уравнения двух реакций, которые характеризуют химические свойства сульфата железа(II), и укажите признаки их протекания (запах газа, цвет осадка или раствора).

Ознакомьтесь с инструкцией по выполнению задания 24, прилагаемой к заданиям. Подготовьте лабораторное оборудование, необходимое для проведения эксперимента.

- 24** Проведите химические реакции между сульфатом железа(II) и выбранными веществами в соответствии с составленными уравнениями реакции, соблюдая правила техники безопасности, приведённые в инструкции к заданию. Проверьте, правильно ли указаны в ответе на задание 23 признаки протекания реакций. При необходимости дополните ответ или скорректируйте его.

Инструкция по выполнению задания 24

Внимание! В случае ухудшения самочувствия перед началом опытов или во время их выполнения обязательно сообщите об этом организатору в аудитории.

1. **Вы приступаете к выполнению эксперимента.** Для этого получите лоток с лабораторным оборудованием и реактивами у специалиста по обеспечению лабораторных работ в аудитории.
2. **Прочтите** ещё раз перечень веществ, приведённый в тексте к заданиям 23 и 24, и убедитесь (по формулам в этикетках) в том, что на выданном лотке находятся пять перечисленных в перечне реактивов.
3. **Перед началом выполнения эксперимента** осмотрите ёмкости с реактивами и определите способ работы с ними. При этом обратите внимание на рекомендации, которым Вы должны следовать.
 - 3.1 **В склянке находится пипетка.** Это означает, что отбор жидкости и переливание её в пробирку для проведения реакции необходимо проводить только с помощью пипетки. Для проведения опытов отбирают 7–10 капель реактива.
 - 3.2 **Пипетка в склянке с жидкостью отсутствует.** В этом случае переливание раствора осуществляют через край склянки, которую располагают так, чтобы при её наклоне этикетка оказалась сверху («этикетку — в ладонь!»). Склянку медленно наклоняют над пробиркой, пока нужный объём раствора не перельётся в неё. Объём перелитого раствора должен составлять 1–2 мл (1–2 см).
 - 3.3 **Для проведения опыта требуется порошкообразное (сыпучее) вещество.** Отбор порошкообразного вещества из ёмкости осуществляют только с помощью ложечки или шпателя.
 - 3.4 **При отборе исходного реактива** **взят его излишек.** Возврат излишка реактива в исходную ёмкость категорически запрещён. Его помещают в отдельную, резервную пробирку.
 - 3.5 Сосуд с исходным реактивом (жидкостью или порошком) **обязательно закрывается** крышкой (пробкой) от этой же ёмкости.
 - 3.6 При растворении в воде порошкообразного вещества или при перемешивании реактивов **следует** слегка ударять пальцем по дну пробирки.
 - 3.7 Для определения запаха вещества **взмахом** руки над горлышком сосуда с веществом **направлять** на себя пары этого вещества.

3.8 Для проведения нагревания пробирки с реактивами на пламени спиртовки необходимо:

- снять колпачок спиртовки и поднести зажжённую спичку к её фитилю;
- закрепить пробирку в пробиркодержателе на расстоянии 1–2 см от горлышка пробирки;
- внести пробирку в пламя спиртовки и некоторое время передвигать её в пламени вверх и вниз так, чтобы содержимое пробирки прогрелось равномерно;
- далее следует нагревать только ту часть пробирки, где находятся вещества, при этом пробирку удерживать в слегка наклонном положении;
- открытый конец пробирки следует отводить от себя и других людей;
- после нагревания пробирку с помощью пробиркодержателя поместить в штатив для пробирок;
- фитиль спиртовки закрыть колпачком.

3.9 Если реактивы попали на рабочий стол, их удаляют с поверхности стола с помощью салфетки.

3.10 Если реактив попал на кожу или одежду, необходимо незамедлительно обратиться за помощью к специалисту по обеспечению лабораторных работ в аудитории.

- 4. Вы готовы к выполнению эксперимента.** Поднимите руку и попросите организатора в аудитории пригласить экспертов для оценивания проводимого Вами эксперимента.
- 5. Начинайте выполнять опыт.** Записывайте в черновик свои наблюдения за изменениями, происходящими с веществами.
- 6. Вы завершили эксперимент.** Проверьте соответствие зафиксированных на черновике признаков протекания реакций признакам, указанным в Вашем ответе на задание 23. При необходимости, дополните ответ или скорректируйте его.