

Тренировочная работа №2 по МАТЕМАТИКЕ

9 класс

17 ноября 2021 года

Вариант МА2190201

Выполнена: ФИО _____ класс _____

Инструкция по выполнению работы

Работа состоит из двух частей, включающих в себя 25 заданий. Часть 1 содержит 19 заданий, часть 2 содержит 6 заданий с развёрнутым ответом.

На выполнение работы по математике отводится 3 часа 55 минут (235 минут).

Ответы к заданиям 7 и 13 запишите в виде одной цифры, которая соответствует номеру правильного ответа.

Для остальных заданий части 1 ответом является число или последовательность цифр. Если получилась обыкновенная дробь, ответ запишите в виде десятичной.

Решения заданий части 2 и ответы к ним запишите на отдельном листе бумаги. Задания можно выполнять в любом порядке. Текст задания переписывать не надо, необходимо только указать его номер.

Сначала выполняйте задания части 1. Начать советуем с тех заданий, которые вызывают у Вас меньше затруднений, затем переходите к другим заданиям. Для экономии времени пропускайте задание, которое не удаётся выполнить сразу, и переходите к следующему. Если у Вас останется время, Вы сможете вернуться к пропущенным заданиям.

При выполнении части 1 все необходимые вычисления, преобразования выполняйте в черновике. **Записи в черновике, а также в тексте контрольных измерительных материалов не учитываются при оценивании работы.**

Если задание содержит рисунок, то на нём непосредственно в тексте работы можно выполнять необходимые Вам построения. Рекомендуем внимательно читать условие и проводить проверку полученного ответа.

При выполнении работы Вы можете воспользоваться справочными материалами, выданными вместе с вариантом КИМ, и линейкой.

Баллы, полученные Вами за выполненные задания, суммируются. Постарайтесь выполнить как можно больше заданий и набрать наибольшее количество баллов.

После завершения работы проверьте, чтобы ответ на каждое задание был записан под правильным номером.

Желаем успеха!

Часть 1

Ответами к заданиям 1–19 являются число или последовательность цифр.

Прочитайте внимательно текст и выполните задания 1–5.



Рис. 1

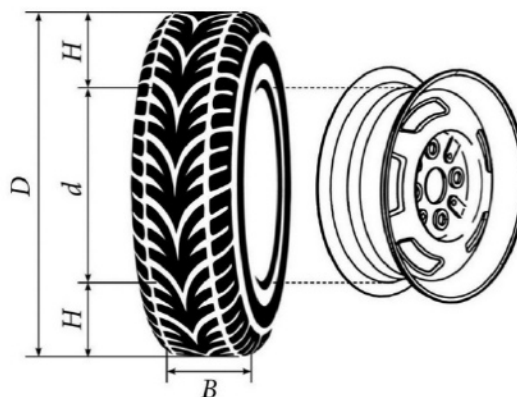


Рис. 2

Автомобильное колесо, как правило, представляет из себя металлический диск с установленной на него резиновой шиной. Диаметр диска совпадает с диаметром внутреннего отверстия в шине.

Для маркировки автомобильных шин применяется единая система обозначений. Например, 195/65 R15 (рис. 1). Первое число (число 195 в приведённом примере) обозначает ширину шины в миллиметрах (параметр B на рисунке 2). Второе число (число 65 в приведённом примере) — процентное отношение высоты боковины (параметр H на рисунке 2)

к ширине шины, то есть $100 \cdot \frac{H}{B}$.

Последующая буква обозначает тип конструкции шины. В данном примере буква R означает, что шина радиальная, то есть нити каркаса в боковине шины расположены вдоль радиусов колеса. На всех легковых автомобилях применяются шины радиальной конструкции.

За обозначением типа конструкции шины идёт число, указывающее диаметр диска колеса d в дюймах (в одном дюйме 25,4 мм). Таким образом, общий диаметр колеса D легко найти, зная диаметр диска и высоту боковины.

Возможны дополнительные маркировки, обозначающие допустимую нагрузку на шину, сезонность использования, тип дорожного покрытия и другие параметры.

Завод производит легковые автомобили определённой модели и устанавливает на них колёса с шинами маркировки 225/55 R16.

- 1 Завод допускает установку шин с другими маркировками. В таблице показаны разрешённые размеры шин.

Ширина шины (мм)	Диаметр диска (дюймы)		
	16	17	18
225	225/55	225/50	–
235	235/55; 235/50	235/50; 235/45	235/45
245	–	245/45	245/40

Шины какой наименьшей ширины можно устанавливать на автомобиль, если диаметр диска равен 18 дюймам? Ответ дайте в миллиметрах.

Ответ: _____.

- 2 Найдите диаметр колеса автомобиля, выходящего с завода. Ответ дайте в миллиметрах.

Ответ: _____.

- 3 На сколько миллиметров радиус колеса с шиной маркировки 215/55 R17 меньше, чем радиус колеса с шиной маркировки 225/60 R17?

Ответ: _____.

- 4 На сколько миллиметров увеличится диаметр колеса, если заменить колёса, установленные на заводе, колёсами с шинами маркировки 235/45 R18?

Ответ: _____.

5 Дмитрий планирует заменить зимнюю резину на летнюю на своём автомобиле. Для каждого из четырёх колёс последовательно выполняются четыре операции: снятие колеса, замена шины, балансировка колеса и установка колеса. Он выбирает между автосервисами А и Б. Затраты на дорогу и стоимость операций даны в таблице.

Автосервис	Суммарные затраты на дорогу	Стоимость для одного колеса			
		Снятие колеса	Замена шины	Балансировка колеса	Установка колеса
А	270 руб.	57 руб.	235 руб.	215 руб.	57 руб.
Б	450 руб.	52 руб.	205 руб.	195 руб.	52 руб.

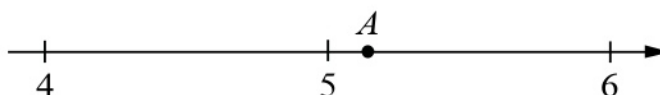
Сколько рублей заплатит Дмитрий за замену резины на своём автомобиле, если выберет самый дешёвый вариант?

Ответ: _____.

6 Найдите значение выражения $\frac{22}{4,4 \cdot 2,5}$.

Ответ: _____.

7 Одно из чисел $\sqrt{11}$, $\sqrt{24}$, $\sqrt{26}$, $\sqrt{37}$ отмечено на прямой точкой А.



Какое это число?

- 1) $\sqrt{11}$ 2) $\sqrt{24}$ 3) $\sqrt{26}$ 4) $\sqrt{37}$

Ответ:

8 Найдите значение выражения $a^{-14} \cdot (a^9)^2$ при $a = 3$.

Ответ: _____.

9 Решите уравнение $x^2 - 11x + 30 = 0$.
Если уравнение имеет более одного корня, в ответе запишите меньший из корней.

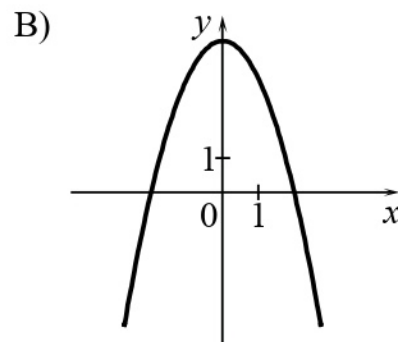
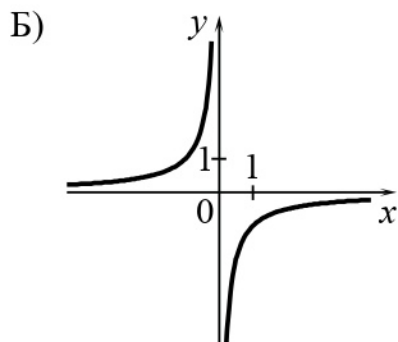
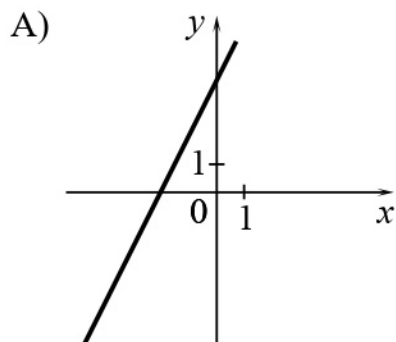
Ответ: _____.

10 У бабушки 20 чашек: 6 с красными цветами, остальные с синими. Бабушка наливает чай в случайно выбранную чашку. Найдите вероятность того, что это будет чашка с синими цветами.

Ответ: _____.

11 Установите соответствие между графиками функций и формулами, которые их задают.

ГРАФИКИ



ФОРМУЛЫ

1) $y = -\frac{1}{x}$

2) $y = 4 - x^2$

3) $y = 2x + 4$

В таблице под каждой буквой укажите соответствующий номер.

Ответ:

А	Б	В

- 12** Энергия заряженного конденсатора W (в Дж) вычисляется по формуле $W = \frac{CU^2}{2}$, где C — ёмкость конденсатора (в Ф), а U — разность потенциалов на обкладках конденсатора (в В). Найдите энергию конденсатора (в Дж) ёмкостью 10^{-4} Ф, если разность потенциалов на обкладках конденсатора равна 18 В.

Ответ: _____.

- 13** Укажите решение неравенства

$$3 - 2x \leq 8x - 1.$$

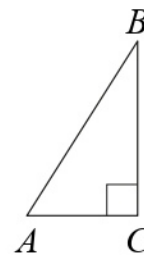
- 1) $[-0,2; +\infty)$ 2) $(-\infty; 0,4]$ 3) $[0,4; +\infty)$ 4) $(-\infty; -0,2]$

Ответ:

- 14** В амфитеатре 14 рядов. В первом ряду 20 мест, а в каждом следующем на 3 места больше, чем в предыдущем. Сколько мест в десятом ряду амфитеатра?

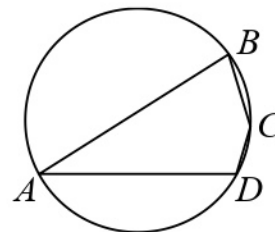
Ответ: _____.

- 15** В треугольнике ABC угол C равен 90° , $\sin B = \frac{5}{16}$, $AB = 80$. Найдите длину стороны AC .



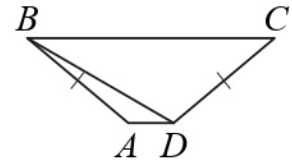
Ответ: _____.

- 16** Угол A четырёхугольника $ABCD$, вписанного в окружность, равен 33° . Найдите величину угла C этого четырёхугольника. Ответ дайте в градусах.



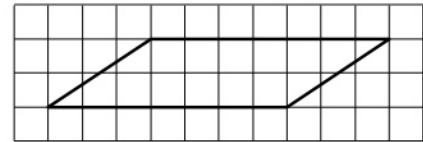
Ответ: _____.

- 17** В трапеции $ABCD$ известно, что боковые стороны AB и CD равны, $\angle BDA = 30^\circ$ и $\angle BDC = 110^\circ$. Найдите величину угла ABD .
 Ответ дайте в градусах.



Ответ: _____.

- 18** На клетчатой бумаге с размером клетки 1×1 изображён параллелограмм. Найдите его площадь.



Ответ: _____.

- 19** Какое из следующих утверждений верно?

- 1) Боковые стороны любой трапеции равны.
- 2) В параллелограмме есть два равных угла.
- 3) Длина гипотенузы прямоугольного треугольника больше суммы длин его катетов.

В ответе запишите номер выбранного утверждения.

Ответ: _____.

Часть 2

При выполнении заданий 20–25 используйте отдельный лист бумаги. Сначала укажите номер задания, а затем запишите его решение и ответ. Пишите чётко и разборчиво.

20 Решите уравнение $(x - 1)(x^2 + 6x + 9) = 5(x + 3)$.

21 Из пункта А в пункт В одновременно выехали два автомобиля. Первый проехал с постоянной скоростью весь путь. Второй проехал первую половину пути со скоростью, меньшей скорости первого автомобиля на 9 км/ч, а вторую половину пути проехал со скоростью 60 км/ч, в результате чего прибыл в пункт В одновременно с первым автомобилем. Найдите скорость первого автомобиля, если известно, что она больше 40 км/ч.

22 Постройте график функции

$$y = 2 - \frac{x - 5}{x^2 - 5x}.$$

Определите, при каких значениях t прямая $y = t$ не имеет с графиком общих точек.

23 Биссектриса угла A параллелограмма $ABCD$ пересекает сторону BC в точке K . Найдите периметр параллелограмма, если $BK = 11$, $CK = 20$.

24 Известно, что около четырёхугольника $ABCD$ можно описать окружность. Продолжения сторон AB и CD четырёхугольника пересекаются в точке M . Докажите, что треугольники MBC и MDA подобны.

25 В треугольнике ABC на его медиане BM отмечена точка K так, что $BK : KM = 8 : 5$. Прямая AK пересекает сторону BC в точке P . Найдите отношение площади треугольника BKP к площади треугольника AKM .

Тренировочная работа №2 по МАТЕМАТИКЕ

9 класс

17 ноября 2021 года

Вариант МА2190202

Выполнена: ФИО _____ класс _____

Инструкция по выполнению работы

Работа состоит из двух частей, включающих в себя 25 заданий. Часть 1 содержит 19 заданий, часть 2 содержит 6 заданий с развёрнутым ответом.

На выполнение работы по математике отводится 3 часа 55 минут (235 минут).

Ответы к заданиям 7 и 13 запишите в виде одной цифры, которая соответствует номеру правильного ответа.

Для остальных заданий части 1 ответом является число или последовательность цифр. Если получилась обыкновенная дробь, ответ запишите в виде десятичной.

Решения заданий части 2 и ответы к ним запишите на отдельном листе бумаги. Задания можно выполнять в любом порядке. Текст задания переписывать не надо, необходимо только указать его номер.

Сначала выполняйте задания части 1. Начать советуем с тех заданий, которые вызывают у Вас меньше затруднений, затем переходите к другим заданиям. Для экономии времени пропускайте задание, которое не удаётся выполнить сразу, и переходите к следующему. Если у Вас останется время, Вы сможете вернуться к пропущенным заданиям.

При выполнении части 1 все необходимые вычисления, преобразования выполняйте в черновике. **Записи в черновике, а также в тексте контрольных измерительных материалов не учитываются при оценивании работы.**

Если задание содержит рисунок, то на нём непосредственно в тексте работы можно выполнять необходимые Вам построения. Рекомендуем внимательно читать условие и проводить проверку полученного ответа.

При выполнении работы Вы можете воспользоваться справочными материалами, выданными вместе с вариантом КИМ, и линейкой.

Баллы, полученные Вами за выполненные задания, суммируются. Постарайтесь выполнить как можно больше заданий и набрать наибольшее количество баллов.

После завершения работы проверьте, чтобы ответ на каждое задание был записан под правильным номером.

Желаем успеха!

Часть 1

Ответами к заданиям 1–19 являются число или последовательность цифр.

Прочитайте внимательно текст и выполните задания 1–5.



Рис. 1

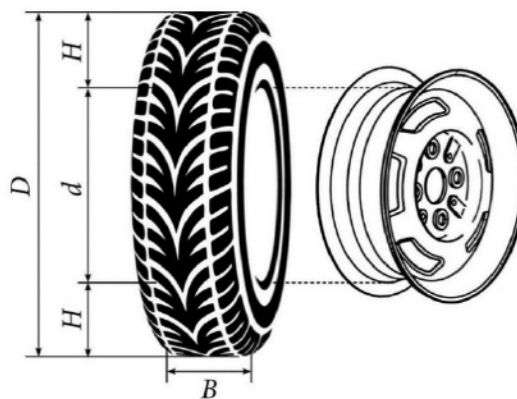


Рис. 2

Автомобильное колесо, как правило, представляет из себя металлический диск с установленной на него резиновой шиной. Диаметр диска совпадает с диаметром внутреннего отверстия в шине.

Для маркировки автомобильных шин применяется единая система обозначений. Например, 195/65 R15 (рис. 1). Первое число (число 195 в приведённом примере) обозначает ширину шины в миллиметрах (параметр B на рисунке 2). Второе число (число 65 в приведённом примере) — процентное отношение высоты боковины (параметр H на рисунке 2) к ширине шины, то есть $100 \cdot \frac{H}{B}$.

Последующая буква обозначает тип конструкции шины. В данном примере буква R означает, что шина радиальная, то есть нити каркаса в боковине шины расположены вдоль радиусов колеса. На всех легковых автомобилях применяются шины радиальной конструкции.

За обозначением типа конструкции шины идёт число, указывающее диаметр диска колеса d в дюймах (в одном дюйме 25,4 мм). Таким образом, общий диаметр колеса D легко найти, зная диаметр диска и высоту боковины.

Возможны дополнительные маркировки, обозначающие допустимую нагрузку на шину, сезонность использования, тип дорожного покрытия и другие параметры.

Завод производит легковые автомобили определённой модели и устанавливает на них колёса с шинами маркировки 205/60 R16.

- 1 Завод допускает установку шин с другими маркировками. В таблице показаны разрешённые размеры шин.

Ширина шины (мм)	Диаметр диска (дюймы)			
	15	16	17	18
195	195/65	195/60	195/55	—
205	205/60	205/55; 205/60	205/50	205/45
215	215/60	215/55	215/50	215/40; 215/45
225	—	225/50	225/50; 225/45	225/40

Шины какой наименьшей ширины можно устанавливать на автомобиль, если диаметр диска равен 17 дюймам? Ответ дайте в миллиметрах.

Ответ: _____.

- 2 Найдите диаметр колеса автомобиля, выходящего с завода. Ответ дайте в миллиметрах.

Ответ: _____.

- 3 На сколько миллиметров радиус колеса с шиной маркировки 195/55 R17 больше, чем радиус колеса с шиной маркировки 225/45 R17?

Ответ: _____.

- 4 На сколько миллиметров уменьшится диаметр колеса, если заменить колёса, установленные на заводе, колёсами с шинами маркировки 225/40 R18?

Ответ: _____.

5 Дмитрий планирует заменить зимнюю резину на летнюю на своём автомобиле. Для каждого из четырёх колёс последовательно выполняются четыре операции: снятие колеса, замена шины, балансировка колеса и установка колеса. Он выбирает между автосервисами А и Б. Затраты на дорогу и стоимость операций даны в таблице.

Автосервис	Суммарные затраты на дорогу	Стоимость для одного колеса			
		Снятие колеса	Замена шины	Балансировка колеса	Установка колеса
А	210 руб.	60 руб.	250 руб.	200 руб.	60 руб.
Б	380 руб.	55 руб.	220 руб.	180 руб.	55 руб.

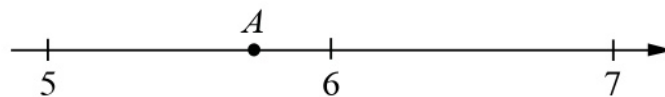
Сколько рублей заплатит Дмитрий за замену резины на своём автомобиле, если выберет самый дешёвый вариант?

Ответ: _____.

6 Найдите значение выражения $\frac{9}{4,5 \cdot 2,5}$.

Ответ: _____.

7 Одно из чисел $\sqrt{11}$, $\sqrt{33}$, $\sqrt{38}$, $\sqrt{47}$ отмечено на прямой точкой А.



Какое это число?

- 1) $\sqrt{11}$ 2) $\sqrt{33}$ 3) $\sqrt{38}$ 4) $\sqrt{47}$

Ответ:

8 Найдите значение выражения $a^{-9} \cdot (a^2)^6$ при $a = 5$.

Ответ: _____.

- 9** Решите уравнение $x^2 - 8x + 12 = 0$.
Если уравнение имеет более одного корня, в ответе запишите больший из корней.

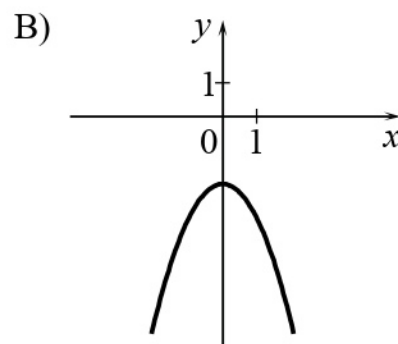
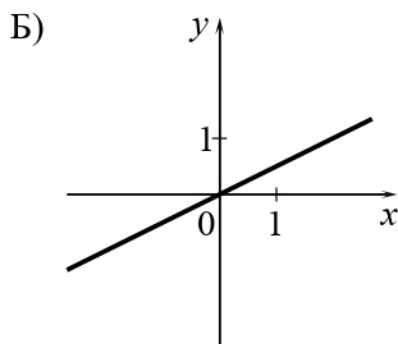
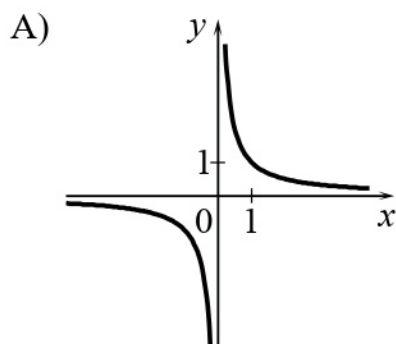
Ответ: _____.

- 10** У бабушки 10 чашек: 4 с красными цветами, остальные с синими. Бабушка наливает чай в случайно выбранную чашку. Найдите вероятность того, что это будет чашка с синими цветами.

Ответ: _____.

- 11** Установите соответствие между графиками функций и формулами, которые их задают.

ГРАФИКИ



ФОРМУЛЫ

1) $y = \frac{1}{x}$

2) $y = -x^2 - 2$

3) $y = \frac{1}{2}x$

В таблице под каждой буквой укажите соответствующий номер.

Ответ:

А	Б	В

- 12** Энергия заряженного конденсатора W (в Дж) вычисляется по формуле $W = \frac{CU^2}{2}$, где C — ёмкость конденсатора (в Ф), а U — разность потенциалов на обкладках конденсатора (в В). Найдите энергию конденсатора (в Дж) ёмкостью 10^{-4} Ф, если разность потенциалов на обкладках конденсатора равна 16 В.

Ответ: _____.

- 13** Укажите решение неравенства

$$-3 - x > 4x + 7.$$

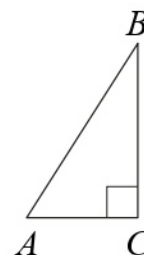
- 1) $(-\infty; -0,8)$ 2) $(-2; +\infty)$ 3) $(-\infty; -2)$ 4) $(-0,8; +\infty)$

Ответ:

- 14** В амфитеатре 14 рядов. В первом ряду 18 мест, а в каждом следующем на 2 места больше, чем в предыдущем. Сколько мест в девятом ряду амфитеатра?

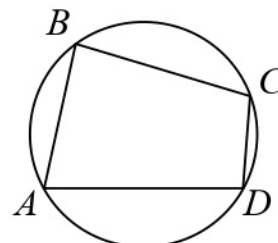
Ответ: _____.

- 15** В треугольнике ABC угол C равен 90° , $\sin B = \frac{3}{5}$, $AB = 10$. Найдите длину стороны AC .



Ответ: _____.

- 16** Угол A четырёхугольника $ABCD$, вписанного в окружность, равен 48° . Найдите величину угла C этого четырёхугольника. Ответ дайте в градусах.



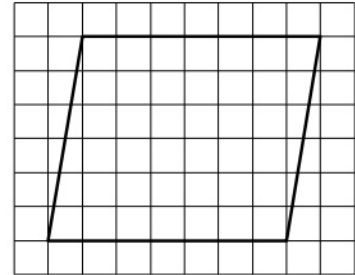
Ответ: _____.

- 17** В трапеции $ABCD$ известно, что боковые стороны AB и CD равны, $\angle BDA = 67^\circ$ и $\angle BDC = 28^\circ$. Найдите величину угла ABD . Ответ дайте в градусах.



Ответ: _____.

- 18** На клетчатой бумаге с размером клетки 1×1 изображён параллелограмм. Найдите его площадь.



Ответ: _____.

- 19** Какое из следующих утверждений верно?

- 1) Основания любой трапеции параллельны.
- 2) Все углы ромба равны.
- 3) Две окружности пересекаются, если радиус одной окружности больше радиуса другой окружности.

В ответе запишите номер выбранного утверждения.

Ответ: _____.

Часть 2

При выполнении заданий 20–25 используйте отдельный лист бумаги. Сначала укажите номер задания, а затем запишите его решение и ответ. Пишите чётко и разборчиво.

20 Решите уравнение $x(x^2 + 4x + 4) = 3(x + 2)$.

21 Из пункта А в пункт В одновременно выехали два автомобиля. Первый проехал с постоянной скоростью весь путь. Второй проехал первую половину пути со скоростью, меньшей скорости первого автомобиля на 8 км/ч, а вторую половину пути проехал со скоростью 90 км/ч, в результате чего прибыл в пункт В одновременно с первым автомобилем. Найдите скорость первого автомобиля, если известно, что она больше 75 км/ч.

22 Постройте график функции

$$y = -5 - \frac{x-1}{x^2-x}$$

Определите, при каких значениях t прямая $y = t$ не имеет с графиком общих точек.

23 Биссектриса угла A параллелограмма $ABCD$ пересекает сторону BC в точке K . Найдите периметр параллелограмма, если $BK = 5$, $CK = 14$.

24 Известно, что около четырёхугольника $ABCD$ можно описать окружность. Продолжения сторон AB и CD четырёхугольника пересекаются в точке M . Докажите, что треугольники MBC и MDA подобны.

25 В треугольнике ABC на его медиане BM отмечена точка K так, что $BK : KM = 2 : 7$. Прямая AK пересекает сторону BC в точке P . Найдите отношение площади треугольника BKP к площади треугольника AKM .