

Тренировочная работа №5 по ОБЩЕСТВОЗНАНИЮ

11 класс

9 марта 2023 года

Вариант ОБ2210501

Выполнена: ФИО _____ класс _____

Инструкция по выполнению работы

Тренировочная работа состоит из двух частей, включающих в себя 25 заданий. Часть 1 содержит 16 заданий с кратким ответом. Часть 2 содержит 9 заданий с развёрнутым ответом.

На выполнение тренировочной работы по обществознанию отводится 3 часа 30 минут (210 минут).

Ответом к заданиям части 1 (1–16) является последовательность цифр. Свой ответ запишите в поле ответа в тексте работы.

Задания части 2 (17–25) требуют полного ответа (дать объяснение, описание или обоснование; высказать и аргументировать собственное мнение). Укажите на чистом листе номер задания и запишите его полное решение.

Все ответы записывайте яркими чёрными чернилами. Допускается использование гелевой или капиллярной ручки.

При выполнении заданий можно пользоваться черновиком. **Записи в черновике не учитываются при оценивании работы.**

Баллы, полученные Вами за выполненные задания, суммируются. Постарайтесь выполнить как можно больше заданий и набрать наибольшее количество баллов.

Желаем успеха!

Часть 1

Ответом к заданиям 1–16 является последовательность цифр. Запишите ответы в поля ответов в тексте работы.

1 Ниже приведён ряд терминов. Все они, за исключением двух, относятся к формам познания.

1) доказательство; 2) представление; 3) аналогия; 4) восприятие;
5) ощущение; 6) понятие.

Найдите два термина, «выпадающих» из общего ряда, и запишите в таблицу цифры, под которыми они указаны.

Ответ:

--	--

2 Выберите верные суждения о социальных институтах и запишите цифры, под которыми они указаны.

- 1) В основе возникновения социального института лежит необходимость регуляции социально значимой деятельности людей, направленной на удовлетворение общественных потребностей.
- 2) Семья относится к ведущим политическим социальным институтам.
- 3) По уровню развития социальных институтов можно судить о развитии общества.
- 4) Одной из функций социального института является упорядочение и стабилизация общественных отношений.
- 5) В отличие от социальной сферы социальный институт представляет общество как систему.

Ответ: _____.

- 3** Установите соответствие между примерами и видами культуры: к каждой позиции, данной в первом столбце, подберите соответствующую позицию из второго столбца.

ПРИМЕР	ВИД КУЛЬТУРЫ
А) ток-шоу о современной моде	1) массовая
Б) былина о Садко	2) элитарная
В) серия детективных романов известного автора	3) народная
Г) премьера первой симфонии молодого композитора	
Д) смешной мультипликационный фильм о победителе дракона	

Запишите в таблицу выбранные цифры под соответствующими буквами.

Ответ:

А	Б	В	Г	Д

- 4** Членам трудового коллектива стало известно о неблагоприятном поступке коллеги, и они дали оценку поступку с позиций морали. Найдите среди перечисленного характеристики, присущие моральной оценке. Запишите цифры, под которыми они указаны.

- 1) предполагает соотнесение действий с категориями добра и зла
- 2) направлена исключительно на порицание поступка
- 3) может быть и внешней, и внутренней
- 4) отражает общественное мнение
- 5) связана с применением санкций, установленных государством
- 6) всегда однозначна и неизменна во все времена

Ответ: _____.

5 Выберите верные суждения о конкуренции и видах рыночных структур и запишите цифры, под которыми они указаны.

- 1) На рынке свободной конкуренции отсутствуют ограничения доступа, а цена зависит исключительно от соотношения спроса и предложения.
- 2) Монополистическая конкуренция предполагает деятельность на рынке одного продавца, который устанавливает цену на уникальный товар.
- 3) В условиях олигополии на рынке конкурируют несколько крупных фирм.
- 4) Рынок несовершенной конкуренции предполагает наличие влияния производителя на установление цен.
- 5) Современные государства проводят политику противодействия рыночной конкуренции в целях повышения влияния одного продавца.

Ответ: _____.

6 Установите соответствие между примерами налогов и их видами: к каждой позиции, данной в первом столбце, подберите соответствующую позицию из второго столбца.

ПРИМЕР НАЛОГА

- А) налог на добавленную стоимость
- Б) налог на имущество организации
- В) налог на прибыль
- Г) транспортный налог
- Д) акциз

ВИД НАЛОГА

- 1) прямой
- 2) косвенный

Запишите в таблицу выбранные цифры под соответствующими буквами.

Ответ:

А	Б	В	Г	Д

7

Гражданин К. приобрёл ценные бумаги. Найдите в приведённом ниже списке факты, свидетельствующие о том, что К. стал владельцем акций предприятия, и запишите цифры, под которыми они указаны.

- 1) Ценные бумаги были выписаны на имя К.
- 2) Ценные бумаги являются долговыми
- 3) К. как владелец ценных бумаг имеет право участвовать в управлении предприятием.
- 4) При ликвидации предприятия К. имеет право на часть имущества.
- 5) В предусмотренный срок К. получит номинальную стоимость ценных бумаг и определённый процент.
- 6) Ценные бумаги закрепляют право К. на получение прибыли в виде дивидендов.

Ответ: _____.

8

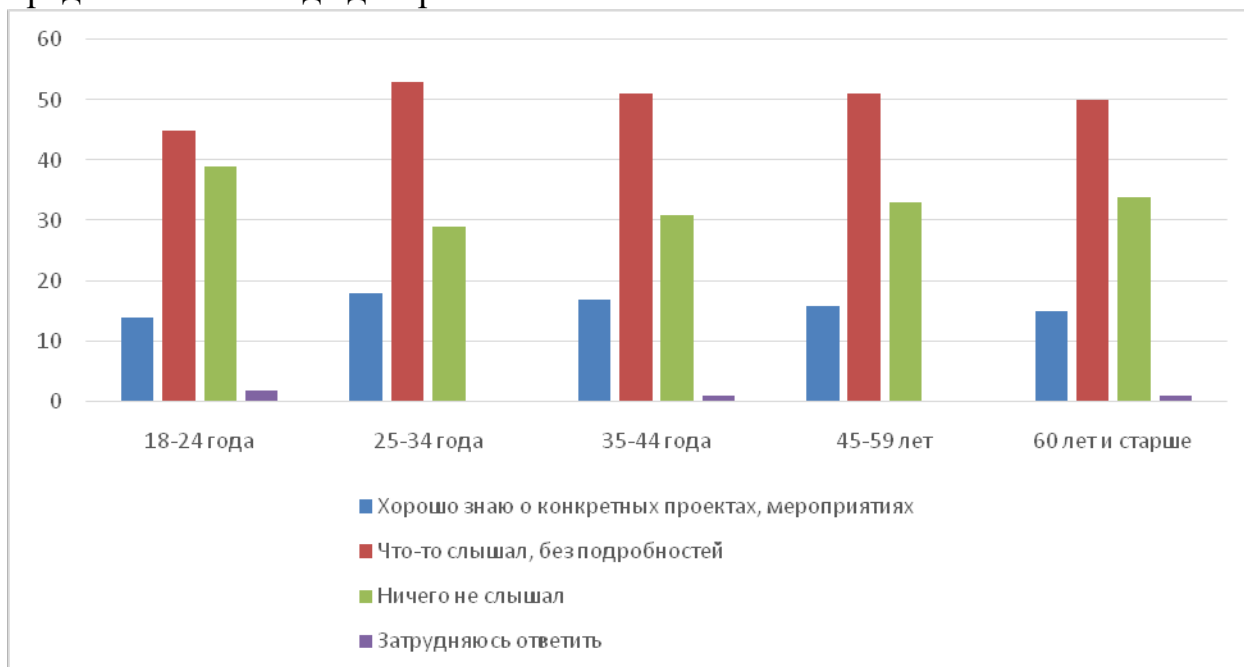
Выберите верные суждения о социальном статусе и запишите цифры, под которыми они указаны.

- 1) Различают горизонтальные и вертикальные социальные статусы.
- 2) Неравенство социальных статусов находит отражение в социальной дифференциации общества.
- 3) Социальный статус отражает моральный авторитет индивида среди его ближайшего окружения.
- 4) Совокупность социальных статусов личности образует статусный набор.
- 5) Люди одного социального статуса, как правило, имеют сходные социальные интересы.

Ответ: _____.

9

Социологи представили данные опроса совершеннолетних граждан о движении волонтёров. Опрошенные отвечали на вопрос «Скажите, пожалуйста, Вы знаете о деятельности волонтёров в Вашем регионе?» Полученные результаты (в % от числа опрошенных, один ответ) представлены в виде диаграммы.



Найдите в приведённом списке выводы, которые можно сделать на основе диаграммы, и запишите цифры, под которыми они указаны.

- 1) Во всех возрастных группах, кроме группы опрошенных в возрасте 18–24 лет, количество опрошенных, которые ничего не слышали о деятельности волонтёров в их регионе, превышает количество опрошенных, которые хорошо знают о конкретных проектах и мероприятиях.
- 2) В возрастных группах 35–44, 45–59 лет и 60 лет и старше примерно совпадают доли тех опрошенных, которые указали, что слышали что-то о волонтерах, но без подробностей.
- 3) Среди опрошенных в возрасте 18–24 лет доля тех, которые указали, что слышали что-то о волонтерах, но без подробностей, превышает долю тех, кто ничего не слышал.
- 4) В возрасте 35–44 лет доля тех, которые указали, что ничего не слышали о волонтерах, не превышает четверти опрошенных.
- 5) Доля опрошенных в возрасте 60 лет и старше, которые указали, что хорошо знают о конкретных проектах и мероприятиях, меньше доли опрошенных в возрасте 25–34 лет, которые указали, что ничего не слышали о деятельности волонтеров в их регионе.

Ответ: _____.

10 Выберите верные суждения о роли средств массовой информации в политике и запишите цифры, под которыми они указаны.

- 1) В постиндустриальном обществе роль средств массовой информации в политике падает.
- 2) Политические средства массовой информации представляют интересы как различных слоёв общества, так и общества в целом.
- 3) Средства массовой информации выполняют нормативную функцию в политике.
- 4) Средства массовой информации влияют на формирование общественного мнения по политическим проблемам.
- 5) Средства массовой информации относят к агентам политической социализации.

Ответ: _____.

11 По государственно-территориальному устройству государство Z является федеративным. Какие из приведённых позиций отражают данный факт? Запишите цифры, под которыми они указаны.

- 1) нахождение в составе государства Z областей, обладающих определённой политической самостоятельностью
- 2) двухпалатный парламент
- 3) всеобщее избирательное право
- 4) регулярные выборы президента
- 5) отсутствие единого гражданства и единой территории
- 6) распределение юридических полномочий между центральными государственными органами и органами власти в областях

Ответ: _____.

12 Какие из перечисленных позиций относятся к конституционным правам гражданина Российской Федерации? Запишите цифры, под которыми они указаны.

- 1) сохранение исторического и культурного наследия
- 2) равенство перед законом и судом
- 3) страхование риска ответственности за причинение вреда
- 4) участие в референдуме
- 5) участие в отправлении правосудия

Ответ: _____.

13

Установите соответствие между полномочиями / функциями и субъектами государственной власти Российской Федерации, реализующими эти полномочия: к каждой позиции, данной в первом столбце, подберите соответствующую позицию из второго столбца.

ПОЛНОМОЧИЕ / ФУНКЦИЯ	СУБЪЕКТ ГОСУДАРСТВЕННОЙ ВЛАСТИ
А) осуществление мер по обеспечению обороны страны, государственной безопасности, реализации внешней политики Российской Федерации	1) Совет Федерации
Б) назначение и освобождение высшего командования Вооруженных Сил Российской Федерации	2) Президент Российской Федерации
В) решение вопроса о возможности использования Вооруженных Сил Российской Федерации за пределами территории Российской Федерации	3) Правительство Российской Федерации
Г) представление Российской Федерации внутри страны и в международных отношениях	
Д) обеспечение проведения в Российской Федерации единой финансовой, кредитной и денежной политики	

Запишите в таблицу выбранные цифры под соответствующими буквами.

Ответ:

А	Б	В	Г	Д

14 Выберите верные суждения о правах и обязанностях супругов, заключивших брачный договор, и запишите цифры, под которыми они указаны.

- 1) Брачным договором супруги вправе ввести режим раздельной собственности на всё имущество или на его отдельные виды.
- 2) Один из супругов может отказаться от исполнения заключённого брачного договора.
- 3) По соглашению супругов брачный договор может быть изменён или расторгнут в любое время.
- 4) Брачный договор не может включать положения, ограничивающие право нетрудоспособного нуждающегося супруга на получение содержания.
- 5) Брачный договор регулирует права и обязанности супругов в отношении детей.

Ответ: _____.

15 Установите соответствие между наказаниями и юридическими документами, в которых они закреплены: к каждой позиции, данной в первом столбце, подберите соответствующую позицию из второго столбца.

НАКАЗАНИЕ

- А) предупреждение
- Б) увольнение
- В) замечание
- Г) ограничение свободы
- Д) принудительные работы

ЮРИДИЧЕСКИЙ ДОКУМЕНТ

- 1) Кодекс Российской Федерации об административных правонарушениях
- 2) Уголовный Кодекс Российской Федерации
- 3) Трудовой Кодекс Российской Федерации

Запишите в таблицу выбранные цифры под соответствующими буквами.

Ответ:

	А	Б	В	Г	Д

16

Иван хочет стать адвокатом и готовится к поступлению в юридический вуз. Найдите в приведённом ниже перечне обязанности адвоката и запишите цифры, под которыми они указаны.

- 1) изготавливать и заверять копии документов доверителя
- 2) возбуждать уголовное дело по обстоятельствам, которые стали ему известны от доверителя
- 3) отстаивать права и законные интересы доверителя
- 4) быть обвинителем в уголовном судопроизводстве
- 5) хранить адвокатскую тайну
- 6) в случаях, предусмотренных законом, бесплатно оказывать юридическую помощь гражданам Российской Федерации

Ответ: _____.

Часть 2

Для записи ответов на задания этой части (17–25) используйте отдельный лист. Запишите сначала номер задания (17, 18 и т. д.), а затем – развёрнутый ответ на него. Ответы записывайте чётко и разборчиво.

Обратите внимание!

Не следует в развёрнутом ответе на любое из заданий 17–25 приводить больше позиций (признаков, характеристик, примеров, аргументов и т. д.), чем требуется в задании. Неточности и ошибки в «дополнительных» элементах ответа могут привести к снижению балла за выполнение задания.

Прочитайте текст и выполните задания 17–20.

Норма права выступает в качестве своеобразной меры оценки поведения разных людей. Она является критерием определения правомерности или неправомерности действий различных субъектов правоотношений. К отличительным чертам нормы права как исходной ячейки всей системы права относятся содержание и выражение в ней государственной воли.

Специфическим признаком норм права является их охрана и обеспеченность государственным принуждением. Разумеется, говоря о мерах государственного воздействия на правонарушителей, не следует полагать, что нормы права реализуются лишь из-за существования угрозы государственного принуждения. Огромную роль играют воспитательные меры, авторитет государства и права у своих граждан, меры убеждения.

Нормы права отличаются своей системностью и иерархичностью по отношению друг к другу, а также строго формальной определённостью. Каждая норма права существует не сама по себе, не в изоляции от других норм, а в тесной взаимосвязи и взаимодействии, в единой системе с другими правовыми нормами. Кроме того, в отличие от норм морали, правовые нормы располагаются не только по горизонтали, но и по вертикали. Иерархия правовых норм обусловлена различной юридической силой нормативно-правовых актов. Она складывается из системы норм, содержащихся в конституционных актах (законах), текущих, или обычных, законах и в подзаконных актах.

В отличие от обычных команд, велений и распоряжений по конкретным вопросам норма права адресована не отдельному лицу, а кругу лиц. Ее действие не исчерпывается исполнением, а рассчитано на неограниченное число случаев, на многократное применение.

Среди важнейших черт норм права следует особо указать на их всеобщий характер. Норма права не предусматривает и не может предусмотреть в деталях каждое в отдельности жизненное обстоятельство. Она ориентируется лишь на типовые, вбирающие в себя сходные признаки жизненные ситуации, при которых возникает необходимость или потребность ее применения.

Важный признак правовой нормы – её предоставительный и обязывающий характер. Регулируя общественные отношения, норма права устанавливает (предоставляет) для одного участника этих отношений определённые полномочия или права, а на другого возлагает соотносящиеся с ними юридические обязанности.

(По М.Н. Марченко)

17 Какая черта правовой нормы по указанию автора связана с её ориентацией на типовые жизненные ситуации? Какие меры, по мнению автора, обеспечивают реализацию норм права (укажите любые три меры, упомянутые в тексте)? Как объясняет автор обусловленность иерархии правовых норм?

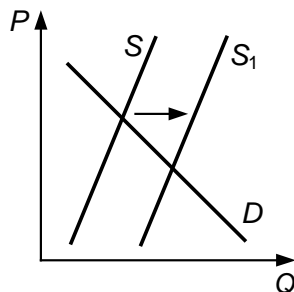
18 В тексте упомянуты ключевые понятия социально-гуманитарных наук. Используя обществоведческие знания,
– укажите не менее трёх основных признаков понятия «государство»;
– объясните связь между упомянутым автором предоставительным и обязывающим характером правовой нормы.
(Объяснение может быть дано в одном или нескольких распространённых предложениях.)

19 Используя обществоведческие знания и факты общественной жизни, проиллюстрируйте примерами любые три особенности норм права. *(В каждом случае сначала приведите пример (ситуацию), затем укажите особенность. В совокупности примеры должны отражать три различных особенности. Каждый пример должен быть сформулирован развёрнуто.)*

20 Используя обществоведческие знания, сформулируйте три суждения о значении правовых знаний в жизни каждого человека. *(Каждое суждение должно быть сформулировано как распространённое предложение.)*

21

На графике изображено изменение ситуации на потребительском рынке сладких газированных напитков в стране Z. Кривая предложения переместилась из положения S в положение S_1 при неизменном спросе D . (На графике P – цена товара; Q – количество товара.)



Как изменилась равновесная цена?

Что могло вызвать изменение предложения?

Укажите любое одно обстоятельство (фактор) и объясните его влияние на предложение. (*Объяснение должно быть дано применительно к рынку, указанному в тексте задания.*)

Как изменятся спрос и равновесная цена на данном рынке, если министерство здравоохранения страны Z будет регулярно публиковать статистические данные о росте заболеваний, связанных с употреблением сладких газированных напитков при прочих равных условиях?

22

Граждане государства Z, достигшие восемнадцатилетия, выбирают главу государства раз в пять лет на всеобщих равных и прямых выборах из нескольких кандидатов. В стране Z проводится реформа образования, в соответствии с которой в учебном плане старшеклассников выросло количество уроков истории, литературы, права, экономики и социологии, и были введены обязательные экзамены по этим дисциплинам. На уроке экономики старшеклассники одной из школ изучали виды налогов и различные системы налогообложения. Среди стран с прогрессивным налогообложением учитель назвал и страну Z. В конце урока ученики выполнили тест. После занятий учитель сказал, что молодцы все, кто справился с заданиями в отведённое время.

Какая форма правления установлена в стране Z? Какую тенденцию в развитии образования отражает описанная в задании реформа? Какую социальную санкцию использовал учитель, похвалив их после урока? (Укажите две характеристики.) Какой признак отличает прогрессивную систему налогообложения?

23 Конституция Российской Федерации закрепляет представление о многонациональном народе России как значимой ценности. На основе положений Конституции Российской Федерации сформулируйте три подтверждения этой характеристики.

(Каждое подтверждение должно быть сформулировано как распространённое предложение с опорой на конкретное положение Конституции Российской Федерации.)

*Обратите внимание на то, что правильное выполнение задания **не требует** указания в ответе номеров соответствующих статей Конституции РФ и дословного воспроизведения их содержания.)*

Представьте, что Вам необходимо подготовить доклад по определённой теме. Выполните задания 24 и 25.

Вам необходимо подготовить доклад по теме «Политическая элита как субъект политики».

24 Используя обществоведческие знания, составьте сложный план, позволяющий раскрыть по существу тему «Политическая элита как субъект политики». Сложный план должен содержать не менее трёх пунктов, непосредственно раскрывающих тему по существу, из которых два или более детализированы в подпунктах. *(Количество подпунктов каждого детализированного пункта должно быть не менее трёх, за исключением случаев, когда с точки зрения общественных наук возможны только два подпункта.)*

25 Используя обществоведческие знания, факты общественной жизни и личный социальный опыт, выполните задания, ответьте на вопрос.

1) Обоснуйте значение политического многообразия (многопартийности) в государстве. *(Обоснование должно быть дано с опорой на обществоведческие знания в нескольких связанных между собой распространённых предложениях, раскрывать причинно-следственные и(или) функциональные связи.)*

2) Какие политические партии в Российской Федерации участвуют в принятии политических решений в составе Государственной Думы? *(Назовите любые три политических партии.)*

3) Для каждой из указанных в пункте 2 политических партий приведите по одному примеру, иллюстрирующему их участие в политической жизни страны. *(Каждый пример должен быть сформулирован развёрнуто. В совокупности примеры должны иллюстрировать участие трёх различных политических партий.)*

Тренировочная работа №5 по ОБЩЕСТВОЗНАНИЮ

11 класс

9 марта 2023 года

Вариант ОБ2210502

Выполнена: ФИО _____ класс _____

Инструкция по выполнению работы

Тренировочная работа состоит из двух частей, включающих в себя 25 заданий. Часть 1 содержит 16 заданий с кратким ответом. Часть 2 содержит 9 заданий с развёрнутым ответом.

На выполнение тренировочной работы по обществознанию отводится 3 часа 30 минут (210 минут).

Ответом к заданиям части 1 (1–16) является последовательность цифр. Свой ответ запишите в поле ответа в тексте работы.

Задания части 2 (17–25) требуют полного ответа (дать объяснение, описание или обоснование; высказать и аргументировать собственное мнение). Укажите на чистом листе номер задания и запишите его полное решение.

Все ответы записывайте яркими чёрными чернилами. Допускается использование гелевой или капиллярной ручки.

При выполнении заданий можно пользоваться черновиком. **Записи в черновике не учитываются при оценивании работы.**

Баллы, полученные Вами за выполненные задания, суммируются. Постарайтесь выполнить как можно больше заданий и набрать наибольшее количество баллов.

Желаем успеха!

Часть 1

Ответом к заданиям 1–16 является последовательность цифр. Запишите ответы в поля ответов в тексте работы.

1 Ниже приведён ряд терминов. Все они, за исключением двух, представляют уровни общего образования в Российской Федерации.

1) *среднее*; 2) *дошкольное*; 3) *музыкальное*; 4) *основное*; 5) *начальное*;
6) *профессиональное*.

Найдите два термина, «выпадающих» из общего ряда, и запишите в таблицу цифры, под которыми они указаны.

Ответ:

--	--

2 Выберите верные суждения о религии и запишите цифры, под которыми они указаны.

- 1) Религия лежит в основе социальной иерархии в индустриальном обществе.
- 2) Сферу религии представляют религиозные ценности, сознание и поведение.
- 3) Основные религиозные учения постоянно изменяются, включая в себя новые сведения о развитии природы, общества и человеческого сознания.
- 4) К функциям религии относят нормативную и коммуникативную.
- 5) Принадлежность к мировым религиям не определяется этносом и социальным происхождением человека.

Ответ: _____.

- 3** Установите соответствие между методами и уровнями научного познания: к каждой позиции, данной в первом столбце, подберите соответствующую позицию из второго столбца.

МЕТОД НАУЧНОГО ПОЗНАНИЯ	УРОВЕНЬ НАУЧНОГО ПОЗНАНИЯ
А) фиксация изменений изучаемого объекта	1) теоретический
Б) измерение температуры объекта изучения	2) эмпирический
В) выдвижение гипотезы о причинах развития объекта изучения	
Г) сравнение значимости причин развития объекта изучения	
Д) выявление закономерных внутренних связей, определяющих причины изменения объекта изучения	

Запишите в таблицу выбранные цифры под соответствующими буквами.

Ответ:

А	Б	В	Г	Д

- 4** Группа известных учёных опубликовала статью о социальных изменениях при переходе от традиционного общества к индустриальному. Найдите среди перечисленных особенности, отличающие социальное познание от иных видов познания. Запишите цифры, под которыми они указаны.

- 1) использование научных методов познания
- 2) изучение социальных фактов
- 3) обращение к эксперименту как ведущему методу исследования
- 4) опора на опыт повседневной жизни
- 5) влияние интересов и целей исследователя на интерпретацию данных
- 6) включение субъекта познавательной деятельности в объект познания

Ответ: _____.

5 Выберите верные суждения о коммерческих банках и запишите цифры, под которыми они указаны.

- 1) Коммерческие банки уполномочены осуществлять деятельность по страхованию населения.
- 2) Банк – это финансовое учреждение, которое осуществляет привлечение и предоставление денежных средств на соответствующих основаниях, а также ведение денежных расчётов.
- 3) Коммерческие банки выполняют функцию посредников, перераспределяя временно свободные денежные средства своих клиентов.
- 4) Коммерческие банки могут проводить выпуск денежных знаков.
- 5) Прибылью коммерческого банка является разница между более высокой процентной ставкой банковского кредита и более низкой ставкой по депозитам.

Ответ: _____.

6 Установите соответствие между примерами издержек производства и их видами: к каждой позиции, данной в первом столбце, подберите соответствующую позицию из второго столбца.

ПРИМЕР ИЗДЕРЖЕК

- А) покупка миндальной муки для изготовления пирожных
- Б) оплата вневедомственной охраны производственного помещения
- В) затраты на упаковочные материалы для тортов
- Г) выплата процентов по кредиту
- Д) сдельная оплата труда пекарей

ВИД ИЗДЕРЖЕК

- 1) переменные
- 2) постоянные

Запишите в таблицу выбранные цифры под соответствующими буквами.

Ответ:

	А	Б	В	Г	Д

7

Факты свидетельствуют о росте инфляции в стране Z. Найдите в приведённом ниже списке возможные причины инфляции спроса. Запишите цифры, под которыми они указаны.

- 1) повышение цен производителем при выпуске товаров более высокого качества
- 2) изменение величины спроса на сезонные товары
- 3) опережающий рост доходов населения по сравнению с ростом объёма производства товаров и услуг
- 4) ускоренное увеличение денежной массы для покрытия дефицита государственного бюджета
- 5) повышение затрат на выпуск единицы продукции
- 6) отставание роста производительности труда от повышения заработной платы

Ответ: _____.

8

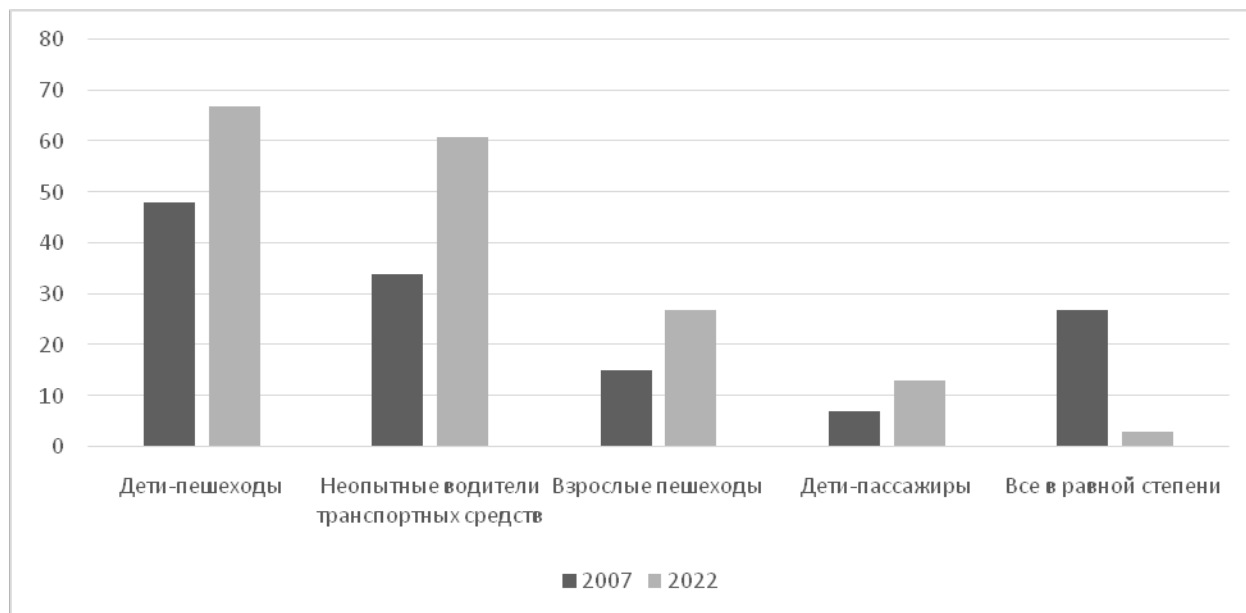
Выберите верные суждения о социальных группах и запишите цифры, под которыми они указаны.

- 1) Промежуточное, пограничное положение в социальной структуре занимают маргинальные группы.
- 2) Причинами формирования социальных групп являются общественное разделение труда и специализация деятельности людей.
- 3) Вторичной социальной группе принадлежит главная роль в социализации личности.
- 4) Различные социальные группы образуют общество.
- 5) Для участников больших социальных групп характерны непосредственное взаимодействие и неформальное общение в разнообразных видах совместной деятельности.

Ответ: _____.

9

Социологи представили данные опросов совершеннолетних граждан, которые отвечали на вопрос: «Кто сейчас на дорогах подвергается наибольшему риску стать жертвой дорожно-транспортного происшествия (ДТП)?» Полученные результаты (в % от числа опрошенных, можно было дать несколько ответов) представлены в виде диаграммы.



Найдите в приведённом списке выводы, которые можно сделать на основе диаграммы, и запишите цифры, под которыми они указаны.

- 1) В обоих опросах самые большие доли ответов указывают, что группой, которая подвергается наибольшему риску стать жертвой ДТП, являются дети-пешеходы.
- 2) Равные доли опрошенных в 2007 и 2022 гг. считают взрослых пешеходов наиболее подверженными риску стать жертвой ДТП.
- 3) Среди тех, кто указал, что неопытные водители транспортных средств наиболее подвержены риску стать жертвой ДТП, доля опрошенных в 2007 г. не превышает долю опрошенных в 2022 г.
- 4) Доля опрошенных в 2022 г., которые указали, что дети-пассажиры наиболее подвержены риску стать жертвой ДТП, составляет примерно половину доли опрошенных в 2007 г., которые указали, что наиболее подвержены риску стать жертвой ДТП дети-пешеходы.
- 5) Около четверти опрошенных в 2007 г. указали, что наибольшему риску стать жертвой ДТП подвержены все в равной степени.

Ответ: _____.

10 Выберите верные суждения о политике и запишите цифры, под которыми они указаны.

- 1) Политика – это один из видов деятельности, в которой проявляется социальная активность социальных групп и индивидов.
- 2) Политика связана с отношениями по поводу завоевания, сохранения и использования государственной власти.
- 3) Политика – это подсистема общества, которая отражает необходимость производства и распределения материальных благ.
- 4) Экономическая, социальная, демографическая политика относятся к направлениям внутренней политики.
- 5) К субъектам политики относят законы и подзаконные акты.

Ответ: _____.

11 Государство Z состоит из 8 административных областей, которые не имеют политической самостоятельности. Президент государства Z избирается на заседании однопалатного парламента. Выборы парламента происходят один раз в четыре года. В них участвуют все граждане, достигшие восемнадцати лет. На первом заседании парламента формирует правительство, главой которого становится лидер политической партии, получившей парламентаское большинство. Государство Z гарантирует и защищает права и свободы человека и гражданина. Найдите в приведённом ниже списке характеристики формы государства Z. Запишите цифры, под которыми они указаны.

- 1) президентская республика
- 2) унитаризм
- 3) демократическое государство
- 4) авторитаризм
- 5) многопартийность
- 6) парламентаская республика

Ответ: _____.

12

Какие из перечисленных позиций закреплены в Конституции и характеризуют Российскую Федерацию как правовое государство? Запишите цифры, под которыми они указаны.

- 1) Органы государственной власти, органы местного самоуправления, должностные лица, граждане и их объединения обязаны соблюдать Конституцию Российской Федерации и законы.
- 2) Государственная власть в Российской Федерации осуществляется на основе разделения на законодательную, исполнительную и судебную.
- 3) Во взаимоотношениях с федеральными органами государственной власти все субъекты Российской Федерации между собой равноправны.
- 4) Права и свободы человека и гражданина определяют смысл, содержание и применение законов, деятельность законодательной и исполнительной власти, местного самоуправления.
- 5) Суверенитет Российской Федерации распространяется на всю её территорию.

Ответ: _____.

- 13** Установите соответствие между предметами ведения и субъектами государственной власти Российской Федерации, к ведению которых они относятся: к каждой позиции, данной в первом столбце, подберите соответствующую позицию из второго столбца.

ПРЕДМЕТ ВЕДЕНИЯ

- А) регулирование и защита прав и свобод человека и гражданина
- Б) вопросы владения, пользования и распоряжения землей, недрами, водными и другими природными ресурсами
- В) уголовное и уголовно-исполнительное законодательство
- Г) установление общих принципов налогообложения и сборов в Российской Федерации
- Д) федеративное устройство и территория Российской Федерации

СУБЪЕКТ
ГОСУДАРСТВЕННОЙ
ВЛАСТИ РОССИЙСКОЙ
ФЕДЕРАЦИИ

- 1) только федеральный центр
- 2) совместно федеральный центр и субъекты Российской Федерации

Запишите в таблицу выбранные цифры под соответствующими буквами.

Ответ:

А	Б	В	Г	Д

14 Выберите верные суждения об альтернативной гражданской службе и запишите цифры, под которыми они указаны.

- 1) Альтернативная гражданская служба – это особый вид трудовой деятельности в интересах общества и государства.
- 2) Гражданин может проходить альтернативную гражданскую службу в качестве гражданского персонала в организациях Вооружённых Сил Российской Федерации.
- 3) Альтернативную гражданскую службу проходят граждане, которые имеют отсрочку от службы по призыву.
- 4) Гражданин имеет право на замену службы по призыву альтернативной гражданской службой, если несение военной службы противоречит его убеждениям или вероисповеданию.
- 5) Срок альтернативной гражданской службы равен сроку службы по призыву.

Ответ: _____.

15 Установите соответствие между организационно-правовыми формами и видами юридических лиц: к каждой позиции, данной в первом столбце, подберите соответствующую позицию из второго столбца.

ОРГАНИЗАЦИОННО-ПРАВОВАЯ ФОРМА	ВИД ЮРИДИЧЕСКОГО ЛИЦА
А) товарищество собственников недвижимости	1) коммерческое 2) некоммерческое
Б) производственный кооператив	
В) общественный фонд	
Г) муниципальное унитарное предприятие	
Д) жилищно-строительный кооператив	

Запишите в таблицу выбранные цифры под соответствующими буквами.

Ответ:

А	Б	В	Г	Д

16 Гражданин Воропаев владеет типографией, в которой трудится 37 человек. Найдите в приведённом ниже списке обязанности Воропаева как работодателя в соответствии с Трудовым кодексом и запишите цифры, под которыми они указаны.

- 1) предоставлять работникам работу, обусловленную трудовым договором
- 2) соблюдать трудовое законодательство
- 3) заключать, изменять и расторгать трудовые договоры с работниками
- 4) обеспечивать работникам равную оплату труда равной ценности
- 5) привлекать работников к дисциплинарной и материальной ответственности
- 6) требовать от работников бережного отношения к имуществу работодателя

Ответ: _____.

Часть 2

Для записи ответов на задания этой части (17–25) используйте отдельный лист. Запишите сначала номер задания (17, 18 и т. д.), а затем – развёрнутый ответ на него. Ответы записывайте чётко и разборчиво.

Обратите внимание!

Не следует в развёрнутом ответе на любое из заданий 17–25 приводить больше позиций (признаков, характеристик, примеров, аргументов и т. д.), чем требуется в задании. Неточности и ошибки в «дополнительных» элементах ответа могут привести к снижению балла за выполнение задания.

Прочитайте текст и выполните задания 17–20.

Наряду с нормами права, важным элементом его содержания являются правовые принципы. Они обладают теми же свойствами, что и нормы права, и право в целом. Вместе с тем они отличаются от норм прежде всего своей структурой: они не содержат санкций, а нередко и некоторых других структурных элементов.

Принципам права присуща такая особенность, как высокая степень абстрактности, обобщённости. В силу этого они отличаются стабильностью, устойчивостью, фундаментальностью. Для своего применения они требуют определённой конкретизации, детализации. В научной литературе принципы права чаще всего определяют как основополагающие идеи, закреплённые в нормативных правовых актах или получившие признание в юридической практике и отражающие закономерности развития общественных отношений.

Принципы права имеют прямое регулирующее значение. Это относится в первую очередь к принципам, закреплённым в Конституции РФ.

Принято выделять принципы общеправовые, межотраслевые и отраслевые. К общеправовым принципам относятся те, которые присущи всем без исключения отраслям права: законности, равенства перед законом, справедливости, гуманизма и др. Межотраслевые принципы присущи нескольким отраслям права, например, принципы состязательности, гласности, независимости судей, равноправия сторон закреплены практически во всех процессуальных кодексах.

Отраслевые принципы отражают специфику той или иной отрасли права. Например, в семейном праве действуют принципы равноправия женщины и мужчины в семейных отношениях, регулирования брачных и семейных отношений только государством; в экологическом праве – принципы разумного сочетания экономических и экологических интересов, рационального использования природных ресурсов; в сфере трудового права – принципы свободы труда, охраны труда и здоровья работников, гарантированности их трудовых прав и др.

Надо отметить, что принципы права не остаются неизменными во все времена и эпохи, хотя они значительно более устойчивы, чем нормы права.

(По Л.А. Морозовой)

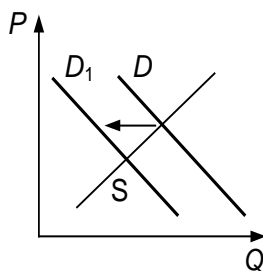
17 Как определяют принципы права в научной литературе? Как характеризует автор отраслевые принципы права? Как в тексте охарактеризованы отличия принципов права от норм права (укажите два отличия)?

18 В тексте упомянуты ключевые понятия социально-гуманитарных наук. Используя обществоведческие знания,
– укажите не менее трёх основных признаков понятия «отрасль права»;
– объясните связь между названной автором особенностью, присущей принципам права, и их применением.
(Объяснение может быть дано в одном или нескольких распространённых предложениях.)

19 Используя обществоведческие знания и факты общественной жизни, проиллюстрируйте примерами три любых общеправовых принципа на примере уголовного права. *(В каждом случае сначала приведите пример, затем укажите общеправовой принцип. В совокупности примеры должны отражать три различных принципа. Каждый пример должен быть сформулирован развёрнуто.)*

20 Используя обществоведческие знания и личный опыт, сформулируйте три суждения о значении общеправовых принципов в системе права. (Каждое суждение должно быть сформулировано как распространённое предложение.)

21 На графике изображено изменение ситуации на потребительском рынке молочных товаров в стране Z. Кривая спроса на сливочное масло переместилась из положения D в положение D_1 при неизменном предложении S . (На графике P – цена товара; Q – количество товара.)



Как изменилась равновесная цена?

Что могло вызвать изменение спроса?

Укажите любое одно обстоятельство (фактор) и объясните его влияние на спрос. (Объяснение должно быть дано применительно к рынку, указанному в тексте задания.)

Как изменятся предложение и равновесная цена на данном рынке, если в стране уменьшится поголовье молочного скота при прочих равных условиях?

22 Доктор педагогических наук, преподаватель вуза Анна Петровна Кротова, 70 лет, в прошлом году приняла решение оставить работу и выйти на пенсию. Анна Петровна сменила место жительства и переехала в загородный дом. Свою городскую квартиру она подарила внуку Антону, который закончил педагогический колледж, прошёл службу по призыву в рядах вооружённых сил, стал студентом педагогического института, а затем обучался в аспирантуре. Сейчас кандидат педагогических наук Антон Кротов продолжает дело своей бабушки. Его хорошо знают и уважают в городе. Кротов избран депутатом представительного органа местного самоуправления.

Каким доходом не располагает Анна Петровна Кротова в настоящее время в соответствии с описанной ситуацией? Какой вид социальной мобильности иллюстрирует биография Антона? (Укажите две характеристики). Какое избирательное право реализуется при выдвижении кандидатуры гражданина для участия в выборах? Какие основания приобретения права собственности на имущество, не упомянутые в задании, существуют в Российской Федерации в соответствии с Гражданским кодексом? (Укажите два любых основания.)

23 Конституция Российской Федерации закрепляет отношение к родному языку как значимой ценности. На основе положений Конституции Российской Федерации сформулируйте три подтверждения этой характеристики. На основе положений Конституции сформулируйте по одному подтверждению этих характеристик.

*(Каждое подтверждение должно быть сформулировано как распространённое предложение с опорой на конкретное положение Конституции Российской Федерации. Обратите внимание на то, что правильное выполнение задания **не требует** указания в ответе номеров соответствующих статей Конституции РФ и дословного воспроизведения их содержания.)*

Представьте, что Вам необходимо подготовить доклад по определённой теме. Выполните задания 24 и 25.

Вам необходимо подготовить доклад по теме «Структура и функции политической системы».

24 Используя обществоведческие знания, составьте сложный план, позволяющий раскрыть по существу тему «Структура и функции политической системы». Сложный план должен содержать не менее трёх пунктов, непосредственно раскрывающих тему по существу, из которых два или более детализированы в подпунктах. *(Количество подпунктов каждого детализированного пункта должно быть не менее трёх, за исключением случаев, когда с точки зрения общественных наук возможны только два подпункта.)*

25 Используя обществоведческие знания, факты общественной жизни и личный социальный опыт, выполните задания, ответьте на вопрос.

1) Обоснуйте значение воздействия традиционных ценностей на политику государства. *(Обоснование должно быть дано с опорой на обществоведческие знания в нескольких связанных между собой распространённых предложениях, раскрывать причинно-следственные и(или) функциональные связи.)*

2) Какие традиционные ценности признаются и защищаются на государственном уровне в Российской Федерации? (Назовите любые три ценности.)

3) Для каждой из указанных в пункте 2 ценностей приведите по одному примеру, иллюстрирующему их роль в формировании личности. *(Каждый пример должен быть сформулирован развёрнуто. В совокупности примеры должны иллюстрировать роль трёх различных ценностей.)*

Тренировочная работа №5 по ОБЩЕСТВОЗНАНИЮ

11 класс

9 марта 2023 года

Вариант ОБ2210503

Выполнена: ФИО _____ класс _____

Инструкция по выполнению работы

Тренировочная работа состоит из двух частей, включающих в себя 25 заданий. Часть 1 содержит 16 заданий с кратким ответом. Часть 2 содержит 9 заданий с развёрнутым ответом.

На выполнение тренировочной работы по обществознанию отводится 3 часа 30 минут (210 минут).

Ответом к заданиям части 1 (1–16) является последовательность цифр. Свой ответ запишите в поле ответа в тексте работы.

Задания части 2 (17–25) требуют полного ответа (дать объяснение, описание или обоснование; высказать и аргументировать собственное мнение). Укажите на чистом листе номер задания и запишите его полное решение.

Все ответы записывайте яркими чёрными чернилами. Допускается использование гелевой или капиллярной ручки.

При выполнении заданий можно пользоваться черновиком. **Записи в черновике не учитываются при оценивании работы.**

Баллы, полученные Вами за выполненные задания, суммируются. Постарайтесь выполнить как можно больше заданий и набрать наибольшее количество баллов.

Желаем успеха!

Часть 1

Ответом к заданиям 1–16 является последовательность цифр. Запишите ответы в поля ответов в тексте работы.

1 Ниже приведён ряд терминов. Все они, за исключением двух, относятся к формам познания.

- 1) доказательство; 2) представление; 3) аналогия; 4) восприятие;
5) ощущение; 6) понятие.

Найдите два термина, «выпадающих» из общего ряда, и запишите в таблицу цифры, под которыми они указаны.

Ответ:

--	--

2 Выберите верные суждения о религии и запишите цифры, под которыми они указаны.

- 1) Религия лежит в основе социальной иерархии в индустриальном обществе.
- 2) Сферу религии представляют религиозные ценности, сознание и поведение.
- 3) Основные религиозные учения постоянно изменяются, включая в себя новые сведения о развитии природы, общества и человеческого сознания.
- 4) К функциям религии относят нормативную и коммуникативную.
- 5) Принадлежность к мировым религиям не определяется этносом и социальным происхождением человека.

Ответ: _____.

- 3** Установите соответствие между примерами и видами культуры: к каждой позиции, данной в первом столбце, подберите соответствующую позицию из второго столбца.

ПРИМЕР	ВИД КУЛЬТУРЫ
А) ток-шоу о современной моде	1) массовая
Б) былина о Садко	2) элитарная
В) серия детективных романов известного автора	3) народная
Г) премьера первой симфонии молодого композитора	
Д) смешной мультипликационный фильм о победителе дракона	

Запишите в таблицу выбранные цифры под соответствующими буквами.

Ответ:

А	Б	В	Г	Д

- 4** Группа известных учёных опубликовала статью о социальных изменениях при переходе от традиционного общества к индустриальному. Найдите среди перечисленного особенности, отличающие социальное познание от иных видов познания. Запишите цифры, под которыми они указаны.

- 1) использование научных методов познания
- 2) изучение социальных фактов
- 3) обращение к эксперименту как ведущему методу исследования
- 4) опора на опыт повседневной жизни
- 5) влияние интересов и целей исследователя на интерпретацию данных
- 6) включение субъекта познавательной деятельности в объект познания

Ответ: _____.

5 Выберите верные суждения о конкуренции и видах рыночных структур и запишите цифры, под которыми они указаны.

- 1) На рынке свободной конкуренции отсутствуют ограничения доступа, а цена зависит исключительно от соотношения спроса и предложения.
- 2) Монополистическая конкуренция предполагает деятельность на рынке одного продавца, который устанавливает цену на уникальный товар.
- 3) В условиях олигополии на рынке конкурируют несколько крупных фирм.
- 4) Рынок несовершенной конкуренции предполагает наличие влияния производителя на установление цен.
- 5) Современные государства проводят политику противодействия рыночной конкуренции в целях повышения влияния одного продавца.

Ответ: _____.

6 Установите соответствие между примерами издержек производства и их видами: к каждой позиции, данной в первом столбце, подберите соответствующую позицию из второго столбца.

ПРИМЕР ИЗДЕРЖЕК

ВИД ИЗДЕРЖЕК

- | | |
|-----------------------------------------------------------------------------------------------------------------------------------------------------------------------------------------------------------------------------------------------------------------------|-------------------------------------------|
| <p>А) покупка миндальной муки для изготовления пирожных</p> <p>Б) оплата вневедомственной охраны производственного помещения</p> <p>В) затраты на упаковочные материалы для тортов</p> <p>Г) выплата процентов по кредиту</p> <p>Д) сдельная оплата труда пекарей</p> | <p>1) переменные</p> <p>2) постоянные</p> |
|-----------------------------------------------------------------------------------------------------------------------------------------------------------------------------------------------------------------------------------------------------------------------|-------------------------------------------|

Запишите в таблицу выбранные цифры под соответствующими буквами.

Ответ:

А	Б	В	Г	Д

7 Гражданин К. приобрёл ценные бумаги. Найдите в приведённом ниже списке факты, свидетельствующие о том, что К. стал владельцем акций предприятия, и запишите цифры, под которыми они указаны.

- 1) Ценные бумаги были выписаны на имя К.
- 2) Ценные бумаги являются долговыми
- 3) К. как владелец ценных бумаг имеет право участвовать в управлении предприятием.
- 4) При ликвидации предприятия К. имеет право на часть имущества.
- 5) В предусмотренный срок К. получит номинальную стоимость ценных бумаг и определённый процент.
- 6) Ценные бумаги закрепляют право К. на получение прибыли в виде дивидендов.

Ответ: _____.

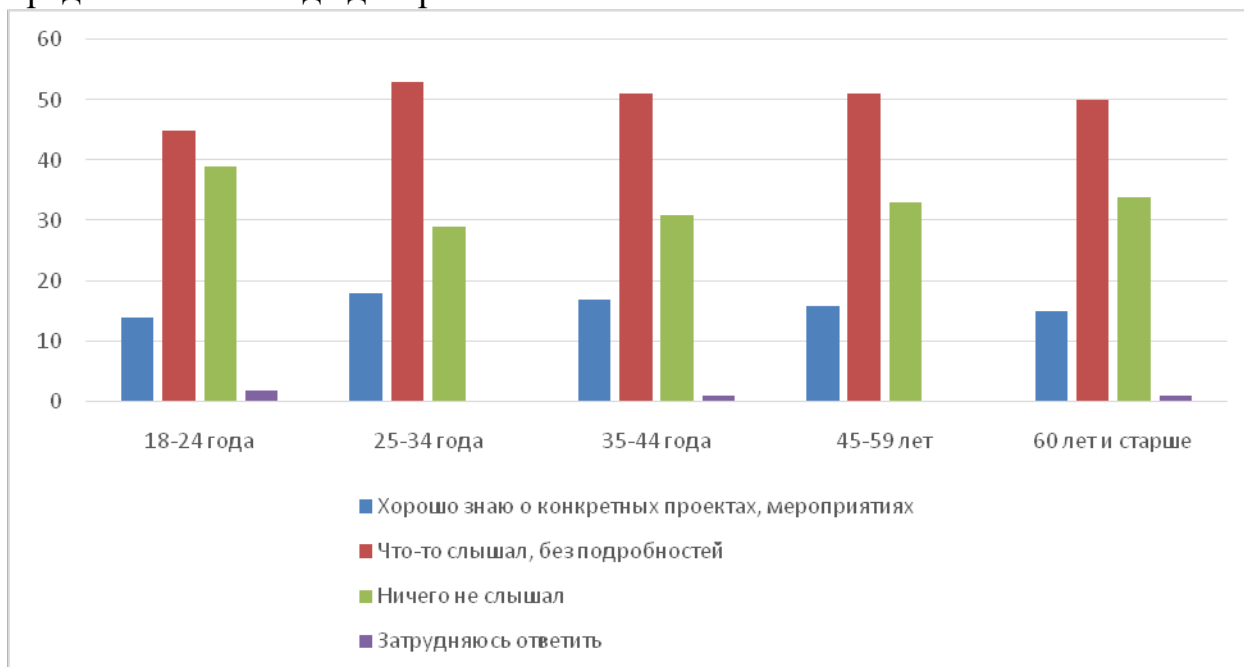
8 Выберите верные суждения о социальных группах и запишите цифры, под которыми они указаны.

- 1) Промежуточное, пограничное положение в социальной структуре занимают маргинальные группы.
- 2) Причинами формирования социальных групп являются общественное разделение труда и специализация деятельности людей.
- 3) Вторичной социальной группе принадлежит главная роль в социализации личности.
- 4) Различные социальные группы образуют общество.
- 5) Для участников больших социальных групп характерны непосредственное взаимодействие и неформальное общение в разнообразных видах совместной деятельности.

Ответ: _____.

9

Социологи представили данные опроса совершеннолетних граждан о движении волонтеров. Опрошенные отвечали на вопрос «Скажите, пожалуйста, Вы знаете о деятельности волонтеров в Вашем регионе?» Полученные результаты (в % от числа опрошенных, один ответ) представлены в виде диаграммы.



Найдите в приведённом списке выводы, которые можно сделать на основе диаграммы, и запишите цифры, под которыми они указаны.

- Во всех возрастных группах, кроме группы опрошенных в возрасте 18–24 лет, количество опрошенных, которые ничего не слышали о деятельности волонтеров в их регионе, превышает количество опрошенных, которые хорошо знают о конкретных проектах и мероприятиях.
- В возрастных группах 35–44, 45–59 лет и 60 лет и старше примерно совпадают доли тех опрошенных, которые указали, что слышали что-то о волонтерах, но без подробностей.
- Среди опрошенных в возрасте 18–24 лет доля тех, которые указали, что слышали что-то о волонтерах, но без подробностей, превышает долю тех, кто ничего не слышал.
- В возрасте 35–44 лет доля тех, которые указали, что ничего не слышали о волонтерах, не превышает четверти опрошенных.
- Доля опрошенных в возрасте 60 лет и старше, которые указали, что хорошо знают о конкретных проектах и мероприятиях, меньше доли опрошенных в возрасте 25–34 лет, которые указали, что ничего не слышали о деятельности волонтеров в их регионе.

Ответ: _____.

10 Выберите верные суждения о политике и запишите цифры, под которыми они указаны.

- 1) Политика – это один из видов деятельности, в которой проявляется социальная активность социальных групп и индивидов.
- 2) Политика связана с отношениями по поводу завоевания, сохранения и использования государственной власти.
- 3) Политика – это подсистема общества, которая отражает необходимость производства и распределения материальных благ.
- 4) Экономическая, социальная, демографическая политика относятся к направлениям внутренней политики.
- 5) К субъектам политики относят законы и подзаконные акты.

Ответ: _____.

11 По государственно-территориальному устройству государство Z является федеративным. Какие из приведённых позиций отражают данный факт? Запишите цифры, под которыми они указаны.

- 1) нахождение в составе государства Z областей, обладающих определённой политической самостоятельностью
- 2) двухпалатный парламент
- 3) всеобщее избирательное право
- 4) регулярные выборы президента
- 5) отсутствие единого гражданства и единой территории
- 6) распределение юридических полномочий между центральными государственными органами и органами власти в областях

Ответ: _____.

12

Какие из перечисленных позиций закреплены в Конституции и характеризуют Российскую Федерацию как правовое государство? Запишите цифры, под которыми они указаны.

- 1) Органы государственной власти, органы местного самоуправления, должностные лица, граждане и их объединения обязаны соблюдать Конституцию Российской Федерации и законы.
- 2) Государственная власть в Российской Федерации осуществляется на основе разделения на законодательную, исполнительную и судебную.
- 3) Во взаимоотношениях с федеральными органами государственной власти все субъекты Российской Федерации между собой равноправны.
- 4) Права и свободы человека и гражданина определяют смысл, содержание и применение законов, деятельность законодательной и исполнительной власти, местного самоуправления.
- 5) Суверенитет Российской Федерации распространяется на всю её территорию.

Ответ: _____.

13

Установите соответствие между полномочиями / функциями и субъектами государственной власти Российской Федерации, реализующими эти полномочия: к каждой позиции, данной в первом столбце, подберите соответствующую позицию из второго столбца.

ПОЛНОМОЧИЕ / ФУНКЦИЯ	СУБЪЕКТ ГОСУДАРСТВЕННОЙ ВЛАСТИ
А) осуществление мер по обеспечению обороны страны, государственной безопасности, реализации внешней политики Российской Федерации	1) Совет Федерации
Б) назначение и освобождение высшего командования Вооруженных Сил Российской Федерации	2) Президент Российской Федерации
В) решение вопроса о возможности использования Вооруженных Сил Российской Федерации за пределами территории Российской Федерации	3) Правительство Российской Федерации
Г) представление Российской Федерации внутри страны и в международных отношениях	
Д) обеспечение проведения в Российской Федерации единой финансовой, кредитной и денежной политики	

Запишите в таблицу выбранные цифры под соответствующими буквами.

Ответ:

А	Б	В	Г	Д

14 Выберите верные суждения об альтернативной гражданской службе и запишите цифры, под которыми они указаны.

- 1) Альтернативная гражданская служба – это особый вид трудовой деятельности в интересах общества и государства.
- 2) Гражданин может проходить альтернативную гражданскую службу в качестве гражданского персонала в организациях Вооружённых Сил Российской Федерации.
- 3) Альтернативную гражданскую службу проходят граждане, которые имеют отсрочку от службы по призыву.
- 4) Гражданин имеет право на замену службы по призыву альтернативной гражданской службой, если несение военной службы противоречит его убеждениям или вероисповеданию.
- 5) Срок альтернативной гражданской службы равен сроку службы по призыву.

Ответ: _____.

15 Установите соответствие между наказаниями и юридическими документами, в которых они закреплены: к каждой позиции, данной в первом столбце, подберите соответствующую позицию из второго столбца.

НАКАЗАНИЕ

- А) предупреждение
- Б) увольнение
- В) замечание
- Г) ограничение свободы
- Д) принудительные работы

ЮРИДИЧЕСКИЙ ДОКУМЕНТ

- 1) Кодекс Российской Федерации об административных правонарушениях
- 2) Уголовный Кодекс Российской Федерации
- 3) Трудовой Кодекс Российской Федерации

Запишите в таблицу выбранные цифры под соответствующими буквами.

Ответ:

А	Б	В	Г	Д

16 Гражданин Воропаев владеет типографией, в которой трудится 37 человек. Найдите в приведённом ниже списке обязанности Воропаева как работодателя в соответствии с Трудовым кодексом и запишите цифры, под которыми они указаны.

- 1) предоставлять работникам работу, обусловленную трудовым договором
- 2) соблюдать трудовое законодательство
- 3) заключать, изменять и расторгать трудовые договоры с работниками
- 4) обеспечивать работникам равную оплату труда равной ценности
- 5) привлекать работников к дисциплинарной и материальной ответственности
- 6) требовать от работников бережного отношения к имуществу работодателя

Ответ: _____.

Часть 2

Для записи ответов на задания этой части (17–25) используйте отдельный лист. Запишите сначала номер задания (17, 18 и т. д.), а затем – развёрнутый ответ на него. Ответы записывайте чётко и разборчиво.

Обратите внимание!

Не следует в развёрнутом ответе на любое из заданий 17–25 приводить больше позиций (признаков, характеристик, примеров, аргументов и т. д.), чем требуется в задании. Неточности и ошибки в «дополнительных» элементах ответа могут привести к снижению балла за выполнение задания.

Прочитайте текст и выполните задания 17–20.

Норма права выступает в качестве своеобразной меры оценки поведения разных людей. Она является критерием определения правомерности или неправомерности действий различных субъектов правоотношений. К отличительным чертам нормы права как исходной ячейки всей системы права относятся содержание и выражение в ней государственной воли.

Специфическим признаком норм права является их охрана и обеспеченность государственным принуждением. Разумеется, говоря о мерах государственного воздействия на правонарушителей, не следует полагать, что нормы права реализуются лишь из-за существования угрозы государственного принуждения. Огромную роль играют воспитательные меры, авторитет государства и права у своих граждан, меры убеждения.

Нормы права отличаются своей системностью и иерархичностью по отношению друг к другу, а также строго формальной определённостью. Каждая норма права существует не сама по себе, не в изоляции от других норм, а в тесной взаимосвязи и взаимодействии, в единой системе с другими правовыми нормами. Кроме того, в отличие от норм морали, правовые нормы располагаются не только по горизонтали, но и по вертикали. Иерархия правовых норм обусловлена различной юридической силой нормативно-правовых актов. Она складывается из системы норм, содержащихся в конституционных актах (законах), текущих, или обычных, законах и в подзаконных актах.

В отличие от обычных команд, велений и распоряжений по конкретным вопросам норма права адресована не отдельному лицу, а кругу лиц. Ее действие не исчерпывается исполнением, а рассчитано на неограниченное число случаев, на многократное применение.

Среди важнейших черт норм права следует особо указать на их всеобщий характер. Норма права не предусматривает и не может предусмотреть в деталях каждое в отдельности жизненное обстоятельство. Она ориентируется лишь на типовые, вбирающие в себя сходные признаки жизненные ситуации, при которых возникает необходимость или потребность ее применения.

Важный признак правовой нормы – её предоставительный и обязывающий характер. Регулируя общественные отношения, норма права устанавливает (предоставляет) для одного участника этих отношений определённые полномочия или права, а на другого возлагает соотносящиеся с ними юридические обязанности.

(По М.Н. Марченко)

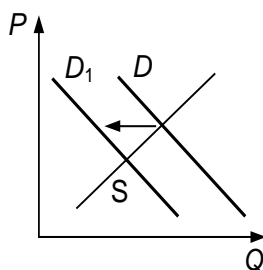
17 Какая черта правовой нормы по указанию автора связана с её ориентацией на типовые жизненные ситуации? Какие меры, по мнению автора, обеспечивают реализацию норм права (укажите любые три меры, упомянутые в тексте)? Как объясняет автор обусловленность иерархии правовых норм?

18 В тексте упомянуты ключевые понятия социально-гуманитарных наук. Используя обществоведческие знания,
– укажите не менее трёх основных признаков понятия «государство»;
– объясните связь между упомянутым автором предоставительным и обязывающим характером правовой нормы.
(Объяснение может быть дано в одном или нескольких распространённых предложениях.)

19 Используя обществоведческие знания и факты общественной жизни, проиллюстрируйте примерами любые три особенности норм права. (В каждом случае сначала приведите пример (ситуацию), затем укажите особенность. В совокупности примеры должны отражать три различных особенности. Каждый пример должен быть сформулирован развёрнуто.)

20 Используя обществоведческие знания, сформулируйте три суждения о значении правовых знаний в жизни каждого человека. (Каждое суждение должно быть сформулировано как распространённое предложение.)

21 На графике изображено изменение ситуации на потребительском рынке молочных товаров в стране Z. Кривая спроса на сливочное масло переместилась из положения D в положение D_1 при неизменном предложении S . (На графике P – цена товара; Q – количество товара.)



Как изменилась равновесная цена?

Что могло вызвать изменение спроса?

Укажите любое одно обстоятельство (фактор) и объясните его влияние на спрос. (Объяснение должно быть дано применительно к рынку, указанному в тексте задания.)

Как изменятся предложение и равновесная цена на данном рынке, если в стране уменьшится поголовье молочного скота при прочих равных условиях?

22

Граждане государства Z, достигшие восемнадцатилетия, выбирают главу государства раз в пять лет на всеобщих равных и прямых выборах из нескольких кандидатов. В стране Z проводится реформа образования, в соответствии с которой в учебном плане старшеклассников выросло количество уроков истории, литературы, права, экономики и социологии, и были введены обязательные экзамены по этим дисциплинам. На уроке экономики старшеклассники одной из школ изучали виды налогов и различные системы налогообложения. Среди стран с прогрессивным налогообложением учитель назвал и страну Z. В конце урока ученики выполнили тест. После занятий учитель сказал, что молодцы все, кто справился с заданиями в отведённое время.

Какая форма правления установлена в стране Z? Какую тенденцию в развитии образования отражает описанная в задании реформа? Какую социальную санкцию использовал учитель, похвалив их после урока? (Укажите две характеристики.) Какой признак отличает прогрессивную систему налогообложения?

23

Конституция Российской Федерации закрепляет отношение к родному языку как значимой ценности. На основе положений Конституции Российской Федерации сформулируйте три подтверждения этой характеристики. На основе положений Конституции сформулируйте по одному подтверждению этих характеристик.

*(Каждое подтверждение должно быть сформулировано как распространённое предложение с опорой на конкретное положение Конституции Российской Федерации. Обратите внимание на то, что правильное выполнение задания **не требует** указания в ответе номеров соответствующих статей Конституции РФ и дословного воспроизведения их содержания.)*

Представьте, что Вам необходимо подготовить доклад по определённой теме. Выполните задания 24 и 25.

Вам необходимо подготовить доклад по теме «Политическая элита как субъект политики».

24 Используя обществоведческие знания, составьте сложный план, позволяющий раскрыть по существу тему «Политическая элита как субъект политики». Сложный план должен содержать не менее трёх пунктов, непосредственно раскрывающих тему по существу, из которых два или более детализированы в подпункта. (*Количество подпунктов каждого детализированного пункта должно быть не менее трёх, за исключением случаев, когда с точки зрения общественных наук возможны только два подпункта.*)

25 Используя обществоведческие знания, факты общественной жизни и личный социальный опыт, выполните задания, ответьте на вопрос.

1) Обоснуйте значение политического многообразия (многопартийности) в государстве. (*Обоснование должно быть дано с опорой на обществоведческие знания в нескольких связанных между собой распространённых предложениях, раскрывать причинно-следственные и(или) функциональные связи.*)

2) Какие политические партии в Российской Федерации участвуют в принятии политических решений в составе Государственной Думы? (Назовите любые три политических партии.)

3) Для каждой из указанных в пункте 2 политических партий приведите по одному примеру, иллюстрирующему их участие в политической жизни страны. (*Каждый пример должен быть сформулирован развёрнуто. В совокупности примеры должны иллюстрировать участие трёх различных политических партий.*)

Тренировочная работа №5 по ОБЩЕСТВОЗНАНИЮ

11 класс

9 марта 2023 года

Вариант ОБ2210504

Выполнена: ФИО _____ класс _____

Инструкция по выполнению работы

Тренировочная работа состоит из двух частей, включающих в себя 25 заданий. Часть 1 содержит 16 заданий с кратким ответом. Часть 2 содержит 9 заданий с развёрнутым ответом.

На выполнение тренировочной работы по обществознанию отводится 3 часа 30 минут (210 минут).

Ответом к заданиям части 1 (1–16) является последовательность цифр. Свой ответ запишите в поле ответа в тексте работы.

Задания части 2 (17–25) требуют полного ответа (дать объяснение, описание или обоснование; высказать и аргументировать собственное мнение). Укажите на чистом листе номер задания и запишите его полное решение.

Все ответы записывайте яркими чёрными чернилами. Допускается использование гелевой или капиллярной ручки.

При выполнении заданий можно пользоваться черновиком. **Записи в черновике не учитываются при оценивании работы.**

Баллы, полученные Вами за выполненные задания, суммируются. Постарайтесь выполнить как можно больше заданий и набрать наибольшее количество баллов.

Желаем успеха!

Часть 1

Ответом к заданиям 1–16 является последовательность цифр. Запишите ответы в поля ответов в тексте работы.

1 Ниже приведён ряд терминов. Все они, за исключением двух, представляют уровни общего образования в Российской Федерации.

1) *среднее*; 2) *дошкольное*; 3) *музыкальное*; 4) *основное*; 5) *начальное*;
6) *профессиональное*.

Найдите два термина, «выпадающих» из общего ряда, и запишите в таблицу цифры, под которыми они указаны.

Ответ:

--	--

2 Выберите верные суждения о социальных институтах и запишите цифры, под которыми они указаны.

- 1) В основе возникновения социального института лежит необходимость регуляции социально значимой деятельности людей, направленной на удовлетворение общественных потребностей.
- 2) Семья относится к ведущим политическим социальным институтам.
- 3) По уровню развития социальных институтов можно судить о развитии общества.
- 4) Одной из функций социального института является упорядочение и стабилизация общественных отношений.
- 5) В отличие от социальной сферы социальный институт представляет общество как систему.

Ответ: _____.

- 3** Установите соответствие между методами и уровнями научного познания: к каждой позиции, данной в первом столбце, подберите соответствующую позицию из второго столбца.

МЕТОД НАУЧНОГО ПОЗНАНИЯ	УРОВЕНЬ НАУЧНОГО ПОЗНАНИЯ
А) фиксация изменений изучаемого объекта	1) теоретический
Б) измерение температуры объекта изучения	2) эмпирический
В) выдвижение гипотезы о причинах развития объекта изучения	
Г) сравнение значимости причин развития объекта изучения	
Д) выявление закономерных внутренних связей, определяющих причины изменения объекта изучения	

Запишите в таблицу выбранные цифры под соответствующими буквами.

Ответ:

А	Б	В	Г	Д

- 4** Членам трудового коллектива стало известно о неблагоприятном поступке коллеги, и они дали оценку поступку с позиций морали. Найдите среди перечисленного характеристики, присущие моральной оценке. Запишите цифры, под которыми они указаны.

- 1) предполагает соотнесение действий с категориями добра и зла
- 2) направлена исключительно на порицание поступка
- 3) может быть и внешней, и внутренней
- 4) отражает общественное мнение
- 5) связана с применением санкций, установленных государством
- 6) всегда однозначна и неизменна во все времена

Ответ: _____.

5 Выберите верные суждения о коммерческих банках и запишите цифры, под которыми они указаны.

- 1) Коммерческие банки уполномочены осуществлять деятельность по страхованию населения.
- 2) Банк – это финансовое учреждение, которое осуществляет привлечение и предоставление денежных средств на соответствующих основаниях, а также ведение денежных расчётов.
- 3) Коммерческие банки выполняют функцию посредников, перераспределяя временно свободные денежные средства своих клиентов.
- 4) Коммерческие банки могут проводить выпуск денежных знаков.
- 5) Прибылью коммерческого банка является разница между более высокой процентной ставкой банковского кредита и более низкой ставкой по депозитам.

Ответ: _____.

6 Установите соответствие между примерами налогов и их видами: к каждой позиции, данной в первом столбце, подберите соответствующую позицию из второго столбца.

ПРИМЕР НАЛОГА

- А) налог на добавленную стоимость
- Б) налог на имущество организации
- В) налог на прибыль
- Г) транспортный налог
- Д) акциз

ВИД НАЛОГА

- 1) прямой
- 2) косвенный

Запишите в таблицу выбранные цифры под соответствующими буквами.

Ответ:

А	Б	В	Г	Д

7

Факты свидетельствуют о росте инфляции в стране Z. Найдите в приведённом ниже списке возможные причины инфляции спроса. Запишите цифры, под которыми они указаны.

- 1) повышение цен производителем при выпуске товаров более высокого качества
- 2) изменение величины спроса на сезонные товары
- 3) опережающий рост доходов населения по сравнению с ростом объёма производства товаров и услуг
- 4) ускоренное увеличение денежной массы для покрытия дефицита государственного бюджета
- 5) повышение затрат на выпуск единицы продукции
- 6) отставание роста производительности труда от повышения заработной платы

Ответ: _____.

8

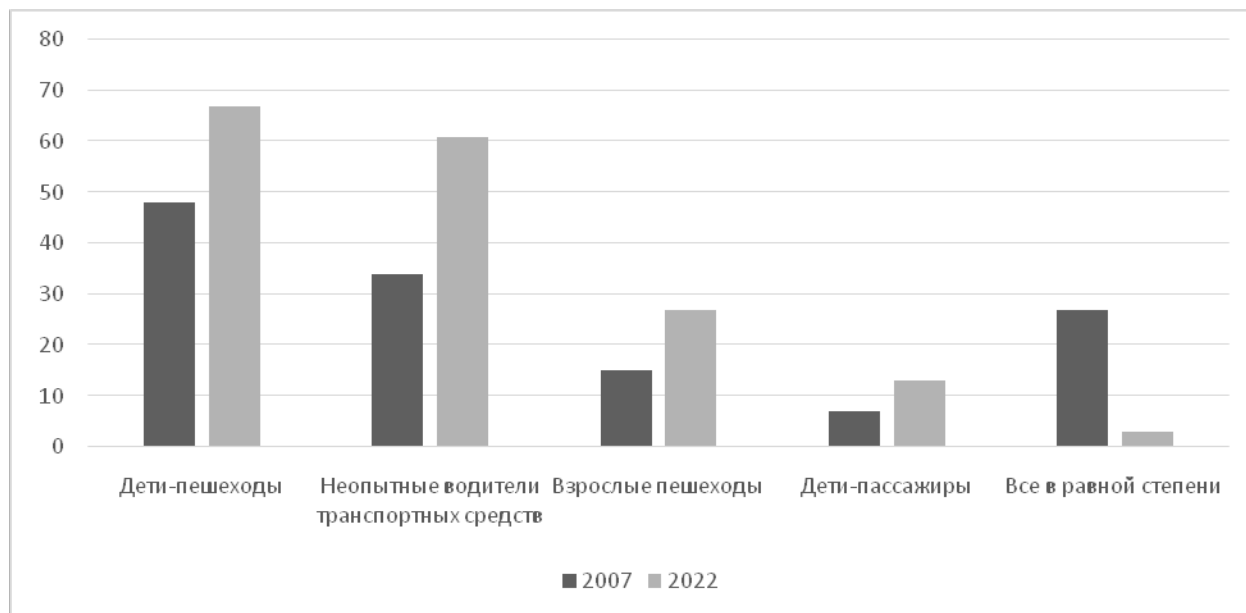
Выберите верные суждения о социальном статусе и запишите цифры, под которыми они указаны.

- 1) Различают горизонтальные и вертикальные социальные статусы.
- 2) Неравенство социальных статусов находит отражение в социальной дифференциации общества.
- 3) Социальный статус отражает моральный авторитет индивида среди его ближайшего окружения.
- 4) Совокупность социальных статусов личности образует статусный набор.
- 5) Люди одного социального статуса, как правило, имеют сходные социальные интересы.

Ответ: _____.

9

Социологи представили данные опросов совершеннолетних граждан, которые отвечали на вопрос: «Кто сейчас на дорогах подвергается наибольшему риску стать жертвой дорожно-транспортного происшествия (ДТП)?» Полученные результаты (в % от числа опрошенных, можно было дать несколько ответов) представлены в виде диаграммы.



Найдите в приведённом списке выводы, которые можно сделать на основе диаграммы, и запишите цифры, под которыми они указаны.

- 1) В обоих опросах самые большие доли ответов указывают, что группой, которая подвергается наибольшему риску стать жертвой ДТП, являются дети-пешеходы.
- 2) Равные доли опрошенных в 2007 и 2022 гг. считают взрослых пешеходов наиболее подверженными риску стать жертвой ДТП.
- 3) Среди тех, кто указал, что неопытные водители транспортных средств наиболее подвержены риску стать жертвой ДТП, доля опрошенных в 2007 г. не превышает долю опрошенных в 2022 г.
- 4) Доля опрошенных в 2022 г., которые указали, что дети-пассажиры наиболее подвержены риску стать жертвой ДТП, составляет примерно половину доли опрошенных в 2007 г., которые указали, что наиболее подвержены риску стать жертвой ДТП дети-пешеходы.
- 5) Около четверти опрошенных в 2007 г. указали, что наибольшему риску стать жертвой ДТП подвержены все в равной степени.

Ответ: _____.

10 Выберите верные суждения о роли средств массовой информации в политике и запишите цифры, под которыми они указаны.

- 1) В постиндустриальном обществе роль средств массовой информации в политике падает.
- 2) Политические средства массовой информации представляют интересы как различных слоёв общества, так и общества в целом.
- 3) Средства массовой информации выполняют нормативную функцию в политике.
- 4) Средства массовой информации влияют на формирование общественного мнения по политическим проблемам.
- 5) Средства массовой информации относят к агентам политической социализации.

Ответ: _____.

11 Государство Z состоит из 8 административных областей, которые не имеют политической самостоятельности. Президент государства Z избирается на заседании однопалатного парламента. Выборы парламента происходят один раз в четыре года. В них участвуют все граждане, достигшие восемнадцати лет. На первом заседании парламента формирует правительство, главой которого становится лидер политической партии, получившей парламентае большинство. Государство Z гарантирует и защищает права и свободы человека и гражданина. Найдите в приведённом ниже списке характеристики формы государства Z. Запишите цифры, под которыми они указаны.

- 1) президентская республика
- 2) унитаризм
- 3) демократическое государство
- 4) авторитаризм
- 5) многопартийность
- 6) парламентае республика

Ответ: _____.

12 Какие из перечисленных позиций относятся к конституционным правам гражданина Российской Федерации? Запишите цифры, под которыми они указаны.

- 1) сохранение исторического и культурного наследия
- 2) равенство перед законом и судом
- 3) страхование риска ответственности за причинение вреда
- 4) участие в референдуме
- 5) участие в отправлении правосудия

Ответ: _____.

13 Установите соответствие между предметами ведения и субъектами государственной власти Российской Федерации, к ведению которых они относятся: к каждой позиции, данной в первом столбце, подберите соответствующую позицию из второго столбца.

ПРЕДМЕТ ВЕДЕНИЯ

СУБЪЕКТ
ГОСУДАРСТВЕННОЙ
ВЛАСТИ РОССИЙСКОЙ
ФЕДЕРАЦИИ

- | | |
|---------------------------------------------------------------------------------------------------------|----------------------------------------------------------------|
| А) регулирование и защита прав и свобод человека и гражданина | 1) только федеральный центр |
| Б) вопросы владения, пользования и распоряжения землей, недрами, водными и другими природными ресурсами | 2) совместно федеральный центр и субъекты Российской Федерации |
| В) уголовное и уголовно-исполнительное законодательство | |
| Г) установление общих принципов налогообложения и сборов в Российской Федерации | |
| Д) федеративное устройство и территория Российской Федерации | |

Запишите в таблицу выбранные цифры под соответствующими буквами.

Ответ:

А	Б	В	Г	Д

14 Выберите верные суждения о правах и обязанностях супругов, заключивших брачный договор, и запишите цифры, под которыми они указаны.

- 1) Брачным договором супруги вправе ввести режим раздельной собственности на всё имущество или на его отдельные виды.
- 2) Один из супругов может отказаться от исполнения заключённого брачного договора.
- 3) По соглашению супругов брачный договор может быть изменён или расторгнут в любое время.
- 4) Брачный договор не может включать положения, ограничивающие право нетрудоспособного нуждающегося супруга на получение содержания.
- 5) Брачный договор регулирует права и обязанности супругов в отношении детей.

Ответ: _____.

15 Установите соответствие между организационно-правовыми формами и видами юридических лиц: к каждой позиции, данной в первом столбце, подберите соответствующую позицию из второго столбца.

ОРГАНИЗАЦИОННО-ПРАВОВАЯ ФОРМА	ВИД ЮРИДИЧЕСКОГО ЛИЦА
А) товарищество собственников недвижимости	1) коммерческое 2) некоммерческое
Б) производственный кооператив	
В) общественный фонд	
Г) муниципальное унитарное предприятие	
Д) жилищно-строительный кооператив	

Запишите в таблицу выбранные цифры под соответствующими буквами.

Ответ:

А	Б	В	Г	Д

16

Иван хочет стать адвокатом и готовится к поступлению в юридический вуз. Найдите в приведённом ниже перечне обязанности адвоката и запишите цифры, под которыми они указаны.

- 1) изготавливать и заверять копии документов доверителя
- 2) возбуждать уголовное дело по обстоятельствам, которые стали ему известны от доверителя
- 3) отстаивать права и законные интересы доверителя
- 4) быть обвинителем в уголовном судопроизводстве
- 5) хранить адвокатскую тайну
- 6) в случаях, предусмотренных законом, бесплатно оказывать юридическую помощь гражданам Российской Федерации

Ответ: _____.

Часть 2

Для записи ответов на задания этой части (17–25) используйте отдельный лист. Запишите сначала номер задания (17, 18 и т. д.), а затем – развёрнутый ответ на него. Ответы записывайте чётко и разборчиво.

Обратите внимание!

Не следует в развёрнутом ответе на любое из заданий 17–25 приводить больше позиций (признаков, характеристик, примеров, аргументов и т. д.), чем требуется в задании. Неточности и ошибки в «дополнительных» элементах ответа могут привести к снижению балла за выполнение задания.

Прочитайте текст и выполните задания 17–20.

Наряду с нормами права, важным элементом его содержания являются правовые принципы. Они обладают теми же свойствами, что и нормы права, и право в целом. Вместе с тем они отличаются от норм прежде всего своей структурой: они не содержат санкций, а нередко и некоторых других структурных элементов.

Принципам права присуща такая особенность, как высокая степень абстрактности, обобщённости. В силу этого они отличаются стабильностью, устойчивостью, фундаментальностью. Для своего применения они требуют определённой конкретизации, детализации. В научной литературе принципы права чаще всего определяют как основополагающие идеи, закреплённые в нормативных правовых актах или получившие признание в юридической практике и отражающие закономерности развития общественных отношений.

Принципы права имеют прямое регулирующее значение. Это относится в первую очередь к принципам, закреплённым в Конституции РФ.

Принято выделять принципы общеправовые, межотраслевые и отраслевые. К общеправовым принципам относятся те, которые присущи всем без исключения отраслям права: законности, равенства перед законом, справедливости, гуманизма и др. Межотраслевые принципы присущи нескольким отраслям права, например, принципы состязательности, гласности, независимости судей, равноправия сторон закреплены практически во всех процессуальных кодексах.

Отраслевые принципы отражают специфику той или иной отрасли права. Например, в семейном праве действуют принципы равноправия женщины и мужчины в семейных отношениях, регулирования брачных и семейных отношений только государством; в экологическом праве – принципы разумного сочетания экономических и экологических интересов, рационального использования природных ресурсов; в сфере трудового права – принципы свободы труда, охраны труда и здоровья работников, гарантированности их трудовых прав и др.

Надо отметить, что принципы права не остаются неизменными во все времена и эпохи, хотя они значительно более устойчивы, чем нормы права.

(По Л.А. Морозовой)

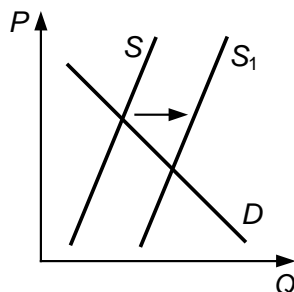
17 Как определяют принципы права в научной литературе? Как характеризует автор отраслевые принципы права? Как в тексте охарактеризованы отличия принципов права от норм права (укажите два отличия)?

18 В тексте упомянуты ключевые понятия социально-гуманитарных наук. Используя обществоведческие знания,
– укажите не менее трёх основных признаков понятия «отрасль права»;
– объясните связь между названной автором особенностью, присущей принципам права, и их применением.
(Объяснение может быть дано в одном или нескольких распространённых предложениях.)

19 Используя обществоведческие знания и факты общественной жизни, проиллюстрируйте примерами три любых общеправовых принципа на примере уголовного права. *(В каждом случае сначала приведите пример, затем укажите общеправовой принцип. В совокупности примеры должны отражать три различных принципа. Каждый пример должен быть сформулирован развёрнуто.)*

20 Используя обществоведческие знания и личный опыт, сформулируйте три суждения о значении общеправовых принципов в системе права. *(Каждое суждение должно быть сформулировано как распространённое предложение.)*

- 21 На графике изображено изменение ситуации на потребительском рынке сладких газированных напитков в стране Z. Кривая предложения переместилась из положения S в положение S_1 при неизменном спросе D . (На графике P – цена товара; Q – количество товара.)



Как изменилась равновесная цена?

Что могло вызвать изменение предложения?

Укажите любое одно обстоятельство (фактор) и объясните его влияние на предложение. (*Объяснение должно быть дано применительно к рынку, указанному в тексте задания.*)

Как изменятся спрос и равновесная цена на данном рынке, если министерство здравоохранения страны Z будет регулярно публиковать статистические данные о росте заболеваний, связанных с употреблением сладких газированных напитков при прочих равных условиях?

- 22 Доктор педагогических наук, преподаватель вуза Анна Петровна Кротова, 70 лет, в прошлом году приняла решение оставить работу и выйти на пенсию. Анна Петровна сменила место жительства и переехала в загородный дом. Свою городскую квартиру она подарила внуку Антону, который закончил педагогический колледж, прошёл службу по призыву в рядах вооружённых сил, стал студентом педагогического института, а затем обучался в аспирантуре. Сейчас кандидат педагогических наук Антон Кротов продолжает дело своей бабушки. Его хорошо знают и уважают в городе. Кротов избран депутатом представительного органа местного самоуправления.

Каким доходом не располагает Анна Петровна Кротова в настоящее время в соответствии с описанной ситуацией? Какой вид социальной мобильности иллюстрирует биография Антона? (Укажите две характеристики). Какое избирательное право реализуется при выдвижении кандидатуры гражданина для участия в выборах? Какие основания приобретения права собственности на имущество, не упомянутые в задании, существуют в Российской Федерации в соответствии с Гражданским кодексом? (Укажите два любых основания.)

23 Конституция Российской Федерации закрепляет представление о многонациональном народе России как значимой ценности. На основе положений Конституции Российской Федерации сформулируйте три подтверждения этой характеристики.

(Каждое подтверждение должно быть сформулировано как распространённое предложение с опорой на конкретное положение Конституции Российской Федерации.)

*Обратите внимание на то, что правильное выполнение задания **не требует** указания в ответе номеров соответствующих статей Конституции РФ и дословного воспроизведения их содержания.)*

Представьте, что Вам необходимо подготовить доклад по определённой теме. Выполните задания 24 и 25.

Вам необходимо подготовить доклад по теме «Структура и функции политической системы».

24 Используя обществоведческие знания, составьте сложный план, позволяющий раскрыть по существу тему «Структура и функции политической системы». Сложный план должен содержать не менее трёх пунктов, непосредственно раскрывающих тему по существу, из которых два или более детализированы в подпунктах. *(Количество подпунктов каждого детализированного пункта должно быть не менее трёх, за исключением случаев, когда с точки зрения общественных наук возможны только два подпункта.)*

25 Используя обществоведческие знания, факты общественной жизни и личный социальный опыт, выполните задания, ответьте на вопрос.

1) Обоснуйте значение воздействия традиционных ценностей на политику государства. *(Обоснование должно быть дано с опорой на обществоведческие знания в нескольких связанных между собой распространённых предложениях, раскрывать причинно-следственные и(или) функциональные связи.)*

2) Какие традиционные ценности признаются и защищаются на государственном уровне в Российской Федерации? (Назовите любые три ценности.)

3) Для каждой из указанных в пункте 2 ценностей приведите по одному примеру, иллюстрирующему их роль в формировании личности. *(Каждый пример должен быть сформулирован развёрнуто. В совокупности примеры должны иллюстрировать роль трёх различных ценностей.)*