

**Тренировочная работа №1 по МАТЕМАТИКЕ****10 класс**

31 января 2024 года

Вариант МА2300101

Выполнена: ФИО \_\_\_\_\_ класс \_\_\_\_\_

**Инструкция по выполнению работы**

Работа по математике включает в себя 21 задание.

На выполнение работы отводится 3 часа (180 минут).

Ответы к заданиям записываются в виде числа или последовательности цифр в поле ответа в тексте работы.

При выполнении заданий можно пользоваться черновиком. Записи в черновике не учитываются при оценивании работы. Баллы, полученные Вами за выполненные задания, суммируются. Постарайтесь выполнить как можно больше заданий и набрать наибольшее количество баллов.

*Желаем успеха!*

*Ответом к каждому заданию является конечная десятичная дробь, целое число или последовательность цифр. Запишите ответы к заданиям в поле ответа в тексте работы.*

- 1** Таксист за месяц проехал 9000 км. Цена бензина — 55 рублей за литр. Средний расход бензина на 100 км составляет 10 литров. Сколько рублей потратил таксист на бензин за этот месяц?

Ответ: \_\_\_\_\_.

- 2** Установите соответствие между величинами и их возможными значениями: к каждому элементу первого столбца подберите соответствующий элемент из второго столбца.

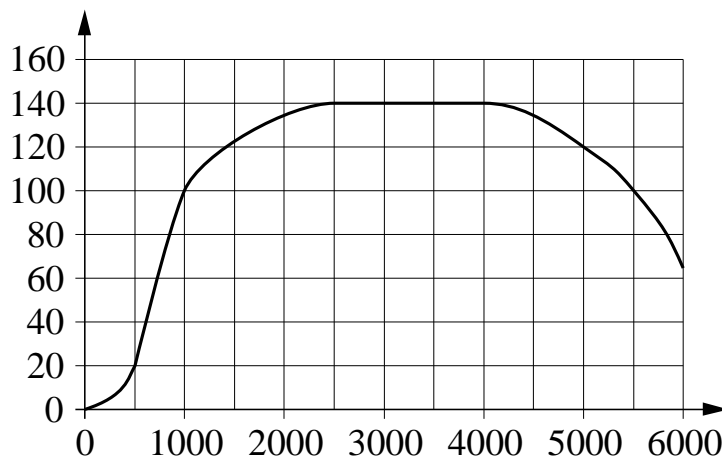
ВЕЛИЧИНЫ	ЗНАЧЕНИЯ
А) масса мобильного телефона	1) 12,5 г
Б) масса одной ягоды клубники	2) 4 т
В) масса взрослого слона	3) 3 кг
Г) масса курицы	4) 100 г

В таблице под каждой буквой, соответствующей величине, укажите номер её возможного значения.

Ответ:

А	Б	В	Г

- 3 На графике показана зависимость крутящего момента автомобильного двигателя от числа оборотов в минуту. На горизонтальной оси отмечено число оборотов в минуту, на вертикальной оси — крутящий момент в Н·м. Чтобы автомобиль начал движение, крутящий момент должен быть не менее 20 Н·м.



Определите по графику, какого наименьшего числа оборотов двигателя в минуту достаточно, чтобы автомобиль начал движение.

Ответ: \_\_\_\_\_.

- 4 Работа постоянного тока (в джоулях) вычисляется по формуле  $A = \frac{U^2 t}{R}$ , где  $U$  — напряжение (в вольтах),  $R$  — сопротивление (в омах),  $t$  — время (в секундах). Пользуясь этой формулой, найдите  $A$  (в джоулях), если  $t = 18$  с,  $U = 7$  В и  $R = 14$  Ом.

Ответ: \_\_\_\_\_.

- 5 Перед началом футбольного матча судья бросает монетку, чтобы определить, какая из команд будет владеть мячом в начале матча. Команда «Физик» играет два матча с разными командами. Найдите вероятность того, что оба раза мяч выиграет «Физик».

Ответ: \_\_\_\_\_.

- 6** Клиент хочет арендовать автомобиль на сутки для поездки протяжённостью 600 км. В таблице приведены характеристики трёх автомобилей и стоимость их аренды.

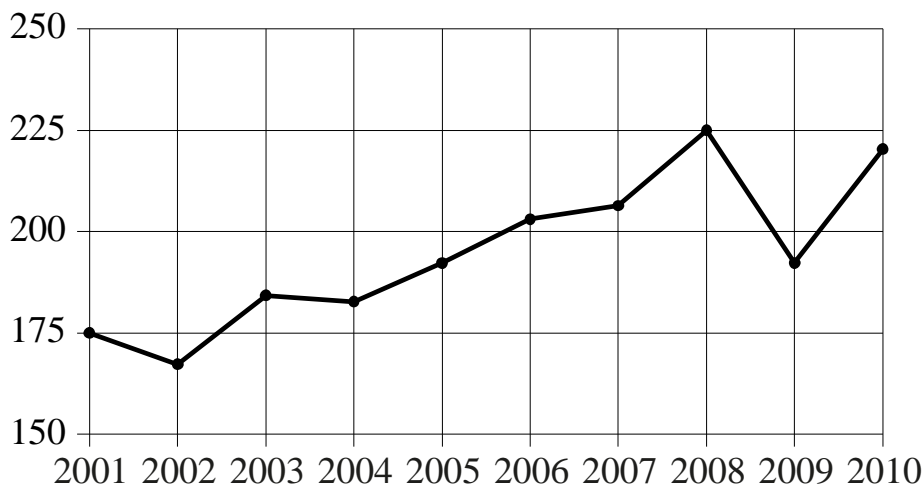
Автомобиль	Топливо	Расход топлива (л на 100 км)	Арендная плата (руб. за 1 сутки)
А	Дизельное	8	3850
Б	Бензин	9	3300
В	Газ	15	3300

Помимо аренды, клиент обязан оплатить топливо для автомобиля на всю поездку. Цена дизельного топлива — 60 рублей за литр, бензина — 55 рублей за литр, газа — 35 рублей за литр. Сколько рублей заплатит клиент за аренду и топливо, если выберет самый дешёвый вариант?

Ответ: \_\_\_\_\_.

7

На рисунке точками показан годовой объём добычи угля в России открытым способом в период с 2001 по 2010 год. По горизонтали указывается год, по вертикали — объём добычи угля в миллионах тонн. Для наглядности точки соединены ломаной линией.



Пользуясь рисунком, поставьте в соответствие каждому из указанных периодов времени характеристику добычи угля в этот период.

#### ПЕРИОДЫ ВРЕМЕНИ

- А) 2002–2004 гг.
- Б) 2004–2006 гг.
- В) 2006–2008 гг.
- Г) 2008–2010 гг.

#### ХАРАКТЕРИСТИКИ

- 1) Объём добычи ежегодно составлял меньше 190 млн т.
- 2) В течение периода объём добычи сначала уменьшался, а затем стал расти.
- 3) Объём добычи в первые два года почти не менялся, а затем значительно вырос.
- 4) Объём добычи медленно рос в течение периода.

В таблице под каждой буквой укажите соответствующий номер.

Ответ:

А	Б	В	Г


**8** В жилых домах, в которых больше 12 этажей, установлены электрические плиты вместо газовых. Выберите утверждения, которые верны при приведённом условии.

- 1) Если в доме установлены газовые плиты, то в этом доме меньше 13 этажей.
- 2) Если в доме 15 этажей, то в нём установлены газовые плиты.
- 3) Если в доме больше 12 этажей, то в нём установлены электрические плиты.
- 4) Если в доме установлены газовые плиты, то в нём больше 12 этажей.

В ответе запишите номера выбранных утверждений без пробелов, запятых и других дополнительных символов.

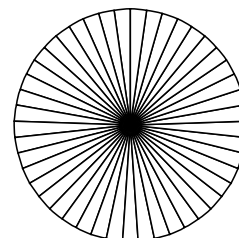
Ответ: \_\_\_\_\_.

**9** План местности разбит на клетки. Каждая клетка обозначает квадрат  $1\text{ м} \times 1\text{ м}$ . Найдите периметр участка, выделенного на плане. Ответ дайте в метрах.



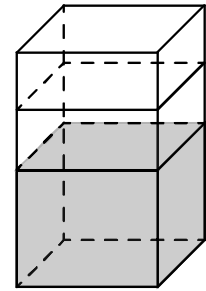
Ответ: \_\_\_\_\_.

**10** Колесо имеет 45 спиц. Углы между соседними спицами равны. Найдите величину угла (в градусах), который образуют две соседние спицы.



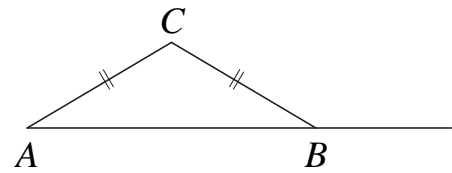
Ответ: \_\_\_\_\_.

- 11** В бак, имеющий форму правильной четырёхугольной призмы, налито 5 л воды. После полного погружения в воду детали уровень воды в баке увеличился в 1,4 раза. Найдите объём детали. Ответ дайте в кубических сантиметрах, зная, что в одном литре 1000 кубических сантиметров.



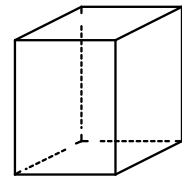
Ответ: \_\_\_\_\_.

- 12** В треугольнике  $ABC$  стороны  $AC$  и  $BC$  равны. Внешний угол при вершине  $B$  равен  $140^\circ$ . Найдите угол  $C$ . Ответ дайте в градусах.



Ответ: \_\_\_\_\_.

- 13** Два ребра прямоугольного параллелепипеда равны 9 и 5, а объём параллелепипеда равен 540. Найдите площадь поверхности этого параллелепипеда.



Ответ: \_\_\_\_\_.

- 14** Найдите значение выражения  $5\frac{2}{5} + \frac{1}{25} - 3$ .

Ответ: \_\_\_\_\_.

- 15** Поступивший в продажу в феврале мобильный телефон стоил 22 000 рублей. В мае он стал стоить 19 800 рублей. На сколько процентов снизилась цена на мобильный телефон?

Ответ: \_\_\_\_\_.

**16** Найдите значение выражения  $(\sqrt{17} + 4)(\sqrt{17} - 4)$ .

Ответ: \_\_\_\_\_.

**17** Найдите корень уравнения  $4 - 2x = -4x + 5$ .

Ответ: \_\_\_\_\_.

**18** Каждому из четырёх неравенств в левом столбце соответствует одно из решений в правом столбце. Установите соответствие между неравенствами и их решениями.

НЕРАВЕНСТВА	РЕШЕНИЯ
А) $(x-1)(x-3) < 0$	1) $(1; 3)$
Б) $\frac{(x-3)^2}{x-1} > 0$	2) $(1; 3) \cup (3; +\infty)$
В) $(x-1)^2(x-3) < 0$	3) $(-\infty; 1) \cup (1; 3)$
Г) $\frac{x-1}{x-3} > 0$	4) $(-\infty; 1) \cup (3; +\infty)$

Впишите в приведённую в ответе таблицу под каждой буквой соответствующий решению номер.

Ответ:

А	Б	В	Г

**19** Найдите трёхзначное число, кратное 25, все цифры которого различны, а сумма квадратов цифр делится на 3, но не делится на 9. В ответе укажите какое-нибудь одно такое число.

Ответ: \_\_\_\_\_.



**20** Первые два часа автомобиль ехал по магистрали со скоростью 120 км/ч, следующие два часа — со скоростью 85 км/ч, а затем три часа — со скоростью 50 км/ч. Найдите среднюю скорость автомобиля на протяжении всего пути. Ответ дайте в км/ч.

Ответ: \_\_\_\_\_.

**21** Взяли несколько досок и распилили их. Всего сделали 12 поперечных распилов, в итоге получилось 22 куска. Сколько досок взяли?

Ответ: \_\_\_\_\_.

**Тренировочная работа №1 по МАТЕМАТИКЕ****10 класс**

31 января 2024 года

Вариант МА2300102

Выполнена: ФИО \_\_\_\_\_ класс \_\_\_\_\_

**Инструкция по выполнению работы**

Работа по математике включает в себя 21 задание.

На выполнение работы отводится 3 часа (180 минут).

Ответы к заданиям записываются в виде числа или последовательности цифр в поле ответа в тексте работы.

При выполнении заданий можно пользоваться черновиком. Записи в черновике не учитываются при оценивании работы. Баллы, полученные Вами за выполненные задания, суммируются. Постарайтесь выполнить как можно больше заданий и набрать наибольшее количество баллов.

*Желаем успеха!*

*Ответом к каждому заданию является конечная десятичная дробь, целое число или последовательность цифр. Запишите ответы к заданиям в поле ответа в тексте работы.*

- 1** Таксист за месяц проехал 9000 км. Цена бензина — 52 рубля за литр. Средний расход бензина на 100 км составляет 10 литров. Сколько рублей потратил таксист на бензин за этот месяц?

Ответ: \_\_\_\_\_.

- 2** Установите соответствие между величинами и их возможными значениями: к каждому элементу первого столбца подберите соответствующий элемент из второго столбца.

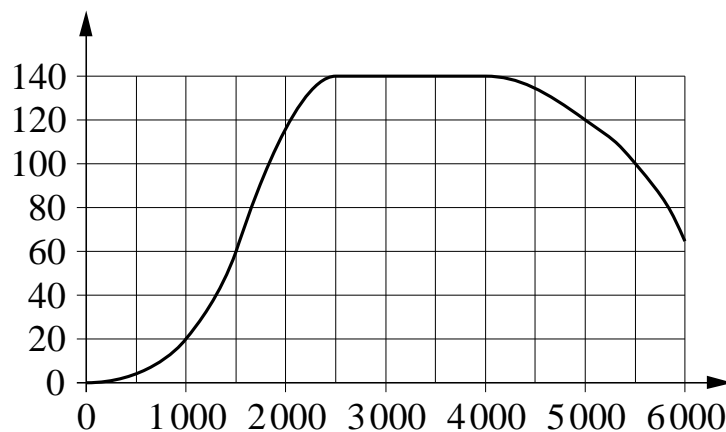
ВЕЛИЧИНЫ	ЗНАЧЕНИЯ
А) масса футбольного мяча	1) 18 кг
Б) масса дождевой капли	2) 2,8 т
В) масса взрослого бегемота	3) 20 мг
Г) масса стиральной машины	4) 750 г

В таблице под каждой буквой, соответствующей величине, укажите номер её возможного значения.

Ответ:

А	Б	В	Г

- 3 На графике показана зависимость крутящего момента автомобильного двигателя от числа оборотов в минуту. На горизонтальной оси отмечено число оборотов в минуту, на вертикальной оси — крутящий момент в Н·м. Чтобы автомобиль начал движение, крутящий момент должен быть не менее 20 Н·м.



Определите по графику, какого наименьшего числа оборотов двигателя в минуту достаточно, чтобы автомобиль начал движение.

Ответ: \_\_\_\_\_.

- 4 Работа постоянного тока (в джоулях) вычисляется по формуле  $A = \frac{U^2 t}{R}$ , где  $U$  — напряжение (в вольтах),  $R$  — сопротивление (в омах),  $t$  — время (в секундах). Пользуясь этой формулой, найдите  $A$  (в джоулях), если  $t = 9$  с,  $U = 8$  В и  $R = 12$  Ом.

Ответ: \_\_\_\_\_.

- 5 Перед началом футбольного матча судья бросает монетку, чтобы определить, какая из команд будет владеть мячом в начале матча. Команда «Физик» играет два матча с разными командами. Найдите вероятность того, что оба раза «Физик» проиграет мяч.

Ответ: \_\_\_\_\_.

- 6** Клиент хочет арендовать автомобиль на сутки для поездки протяжённостью 700 км. В таблице приведены характеристики трёх автомобилей и стоимость их аренды.

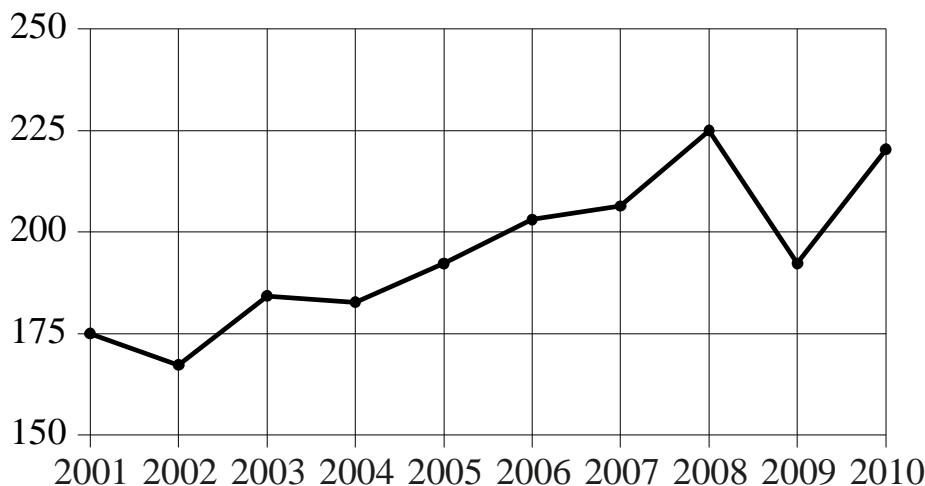
Автомобиль	Топливо	Расход топлива (л на 100 км)	Арендная плата (руб. за 1 сутки)
А	Дизельное	5	4200
Б	Бензин	11	2700
В	Газ	16	3000

Помимо аренды, клиент обязан оплатить топливо для автомобиля на всю поездку. Цена дизельного топлива — 60 рублей за литр, бензина — 55 рублей за литр, газа — 35 рублей за литр. Сколько рублей заплатит клиент за аренду и топливо, если выберет самый дешёвый вариант?

Ответ: \_\_\_\_\_.

7

На рисунке точками показан годовой объём добычи угля в России открытым способом в период с 2001 по 2010 год. По горизонтали указывается год, по вертикали — объём добычи угля в миллионах тонн. Для наглядности точки соединены ломаной линией.



Пользуясь рисунком, поставьте в соответствие каждому из указанных периодов времени характеристику добычи угля в этот период.

#### ПЕРИОДЫ ВРЕМЕНИ

- А) 2001–2003 гг.
- Б) 2003–2005 гг.
- В) 2005–2007 гг.
- Г) 2007–2009 гг.

#### ХАРАКТЕРИСТИКИ

- 1) В течение периода объём добычи сначала рос, а затем стал падать.
- 2) Объём добычи в этот период рос с каждым годом.
- 3) Период с минимальным показателем добычи за 10 лет.
- 4) Годовой объём добычи составлял больше 175 млн т, но меньше 200 млн т.

В таблице под каждой буквой укажите соответствующий номер.

Ответ:

А	Б	В	Г


**8** В жилых домах, в которых больше 12 этажей, установлены электрические плиты вместо газовых. Выберите утверждения, которые верны при приведённом условии.

- 1) Если в доме установлены газовые плиты, то в этом доме больше 13 этажей.
- 2) Если в доме установлены газовые плиты, то в этом доме меньше 13 этажей.
- 3) Если в доме больше 17 этажей, то в нём установлены газовые плиты.
- 4) Если в доме установлены газовые плиты, то в нём не больше 12 этажей.

В ответе запишите номера выбранных утверждений без пробелов, запятых и других дополнительных символов.

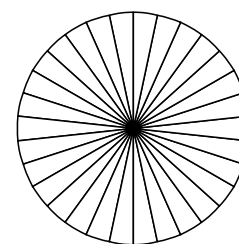
Ответ: \_\_\_\_\_.

**9** План местности разбит на клетки. Каждая клетка обозначает квадрат  $1\text{ м} \times 1\text{ м}$ . Найдите периметр участка, выделенного на плане. Ответ дайте в метрах.



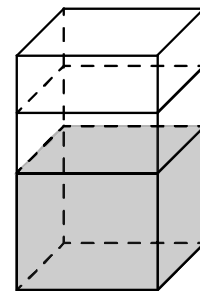
Ответ: \_\_\_\_\_.

**10** Колесо имеет 30 спиц. Углы между соседними спицами равны. Найдите величину угла (в градусах), который образуют две соседние спицы.



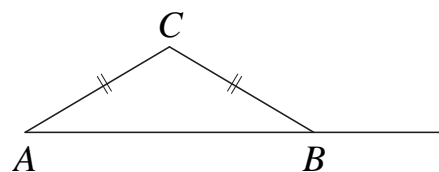
Ответ: \_\_\_\_\_.

- 11** В бак, имеющий форму правильной четырёхугольной призмы, налито 12 л воды. После полного погружения в воду детали уровень воды в баке увеличился в 1,5 раза. Найдите объём детали. Ответ дайте в кубических сантиметрах, зная, что в одном литре 1000 кубических сантиметров.



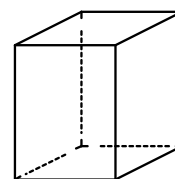
Ответ: \_\_\_\_\_.

- 12** В треугольнике  $ABC$  стороны  $AC$  и  $BC$  равны. Внешний угол при вершине  $B$  равен  $142^\circ$ . Найдите угол  $C$ . Ответ дайте в градусах.



Ответ: \_\_\_\_\_.

- 13** Два ребра прямоугольного параллелепипеда равны 10 и 8, а объём параллелепипеда равен 640. Найдите площадь поверхности этого параллелепипеда.



Ответ: \_\_\_\_\_.

- 14** Найдите значение выражения  $2\frac{3}{4} + 3 + \frac{15}{2}$ .

Ответ: \_\_\_\_\_.

- 15** Поступивший в продажу в апреле мобильный телефон стоил 48 000 рублей. В июле он стал стоить 45 600 рублей. На сколько процентов снизилась цена на мобильный телефон?

Ответ: \_\_\_\_\_.



**16** Найдите значение выражения  $(6\sqrt{17} - 1)(6\sqrt{17} + 1)$ .

Ответ: \_\_\_\_\_.

**17** Найдите корень уравнения  $-6 - 4x = -8x + 7$ .

Ответ: \_\_\_\_\_.

**18** Каждому из четырёх неравенств в левом столбце соответствует одно из решений в правом столбце. Установите соответствие между неравенствами и их решениями.

НЕРАВЕНСТВА	РЕШЕНИЯ
А) $(x-1)^2(x-6) < 0$	1) $(1; 6)$
Б) $\frac{x-1}{x-6} > 0$	2) $(-\infty; 1) \cup (6; +\infty)$
В) $(x-1)(x-6) < 0$	3) $(-\infty; 1) \cup (1; 6)$
Г) $\frac{(x-6)^2}{x-1} > 0$	4) $(1; 6) \cup (6; +\infty)$

Впишите в приведённую в ответе таблицу под каждой буквой соответствующий решению номер.

Ответ:

А	Б	В	Г

**19** Найдите трёхзначное число, кратное 70, все цифры которого различны, а сумма квадратов цифр делится на 2, но не делится на 4. В ответе укажите какое-нибудь одно такое число.

Ответ: \_\_\_\_\_.

**20** Первые два часа автомобиль ехал со скоростью 55 км/ч, следующий час — со скоростью 50 км/ч, а затем два часа — со скоростью 40 км/ч. Найдите среднюю скорость автомобиля на протяжении всего пути. Ответ дайте в км/ч.

Ответ: \_\_\_\_\_.

**21** Взяли несколько досок и распилили их. Всего сделали 13 поперечных распилов, в итоге получилось 18 кусков. Сколько досок взяли?

Ответ: \_\_\_\_\_.

**Тренировочная работа №1 по МАТЕМАТИКЕ****10 класс**

31 января 2024 года

Вариант МА2300103

Выполнена: ФИО \_\_\_\_\_ класс \_\_\_\_\_

**Инструкция по выполнению работы**

Работа по математике включает в себя 21 задание.

На выполнение работы отводится 3 часа (180 минут).

Ответы к заданиям записываются в виде числа или последовательности цифр в поле ответа в тексте работы.

При выполнении заданий можно пользоваться черновиком. Записи в черновике не учитываются при оценивании работы. Баллы, полученные Вами за выполненные задания, суммируются. Постарайтесь выполнить как можно больше заданий и набрать наибольшее количество баллов.

*Желаем успеха!*

*Ответом к каждому заданию является конечная десятичная дробь, целое число или последовательность цифр. Запишите ответы к заданиям в поле ответа в тексте работы.*

- 1** Таксист за месяц проехал 7000 км. Цена бензина — 56 рублей за литр. Средний расход бензина на 100 км составляет 10 литров. Сколько рублей потратил таксист на бензин за этот месяц?

Ответ: \_\_\_\_\_.

- 2** Установите соответствие между величинами и их возможными значениями: к каждому элементу первого столбца подберите соответствующий элемент из второго столбца.

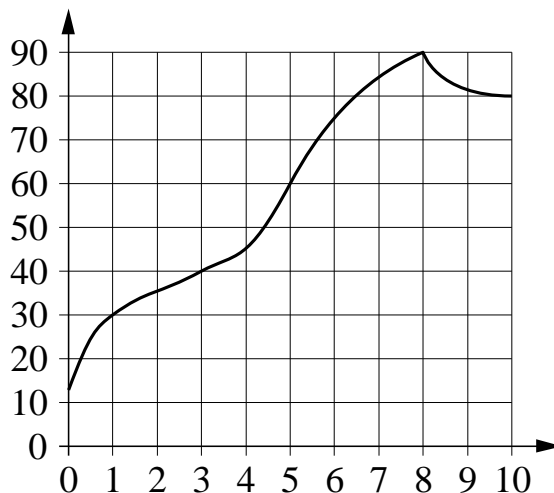
ВЕЛИЧИНЫ	ЗНАЧЕНИЯ
А) масса кухонного холодильника	1) 3500 г
Б) масса автобуса	2) 15 г
В) масса новорождённого ребёнка	3) 18 т
Г) масса карандаша	4) 38 кг

В таблице под каждой буквой, соответствующей величине, укажите номер её возможного значения.

Ответ:

А	Б	В	Г

- 3 На графике показано изменение температуры в процессе разогрева двигателя легкового автомобиля. На горизонтальной оси отмечено время в минутах, прошедшее с момента запуска двигателя, на вертикальной оси — температура двигателя в градусах Цельсия.



Определите по графику, через какое наименьшее количество минут после запуска двигателя температура двигателя будет равна 40 °С.

Ответ: \_\_\_\_\_.

- 4 Работа постоянного тока (в джоулях) вычисляется по формуле  $A = \frac{U^2 t}{R}$ , где  $U$  — напряжение (в вольтах),  $R$  — сопротивление (в омах),  $t$  — время (в секундах). Пользуясь этой формулой, найдите  $A$  (в джоулях), если  $t = 8$  с,  $U = 6$  В и  $R = 2$  Ом.

Ответ: \_\_\_\_\_.

- 5 Перед началом футбольного матча судья бросает монетку, чтобы определить, какая из команд будет владеть мячом в начале матча. Команда «Физик» играет два матча с разными командами. Найдите вероятность того, что «Физик» один раз выиграет и один раз проиграет мяч.

Ответ: \_\_\_\_\_.

- 6** Клиент хочет арендовать автомобиль на сутки для поездки протяжённостью 500 км. В таблице приведены характеристики трёх автомобилей и стоимость их аренды.

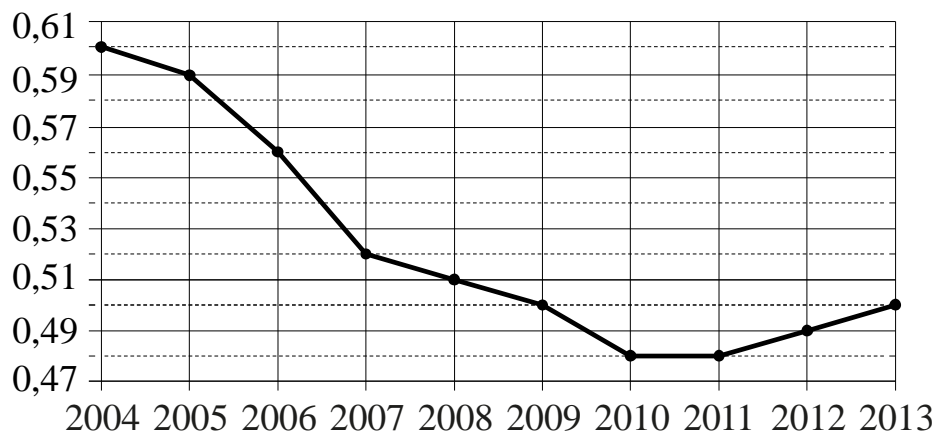
Автомобиль	Топливо	Расход топлива (л на 100 км)	Арендная плата (руб. за 1 сутки)
А	Дизельное	7	3700
Б	Бензин	10	3200
В	Газ	14	3300

Помимо аренды, клиент обязан оплатить топливо для автомобиля на всю поездку. Цена дизельного топлива — 60 рублей за литр, бензина — 55 рублей за литр, газа — 35 рублей за литр. Сколько рублей заплатит клиент за аренду и топливо, если выберет самый дешёвый вариант?

Ответ: \_\_\_\_\_.

7

На рисунке точками показан прирост населения Китая в период с 2004 по 2013 год. По горизонтали указывается год, по вертикали — прирост населения в процентах (увеличение численности населения относительно прошлого года). Для наглядности точки соединены ломаной линией.



Пользуясь рисунком, поставьте в соответствие каждому из указанных периодов времени характеристику прироста населения Китая в этот период.

**ПЕРИОДЫ ВРЕМЕНИ**

- А) 2005–2007 гг.
- Б) 2007–2009 гг.
- В) 2009–2011 гг.
- Г) 2012–2013 гг.

**ХАРАКТЕРИСТИКИ**

- 1) Падение прироста остановилось.
- 2) Наибольшее падение прироста населения.
- 3) Прирост населения находился в пределах от 0,5 % до 0,52 %.
- 4) Прирост населения увеличивался.

В таблице под каждой буквой укажите соответствующий номер.

Ответ:

А	Б	В	Г


**8** В жилых домах, в которых больше 5 этажей, установлен лифт. Выберите утверждения, которые верны при приведённом условии.

- 1) Если в доме нет лифта, то в этом доме меньше 6 этажей.
- 2) Если в доме больше 7 этажей, то в нём лифта нет.
- 3) Если в доме больше 8 этажей, то в этом доме есть лифт.
- 4) Если в доме нет лифта, то в этом доме больше 5 этажей.

В ответе запишите номера выбранных утверждений без пробелов, запятых и других дополнительных символов.

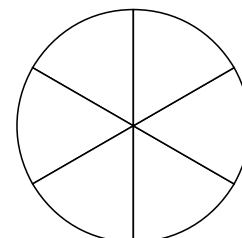
Ответ: \_\_\_\_\_.

**9** План местности разбит на клетки. Каждая клетка обозначает квадрат  $1\text{ м} \times 1\text{ м}$ . Найдите периметр участка, выделенного на плане. Ответ дайте в метрах.



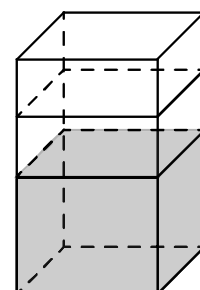
Ответ: \_\_\_\_\_.

**10** Колесо имеет 6 спиц. Углы между соседними спицами равны. Найдите величину угла (в градусах), который образуют две соседние спицы.



Ответ: \_\_\_\_\_.

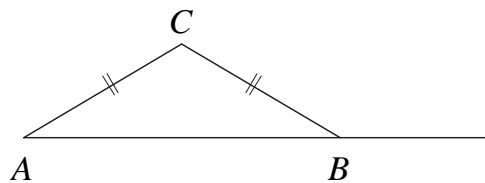
**11** В бак, имеющий форму правильной четырёхугольной призмы, налито 5 л воды. После полного погружения в воду детали уровень воды в баке увеличился в 2 раза. Найдите объём детали. Ответ дайте в кубических сантиметрах, зная, что в одном литре 1000 кубических сантиметров.



Ответ: \_\_\_\_\_.

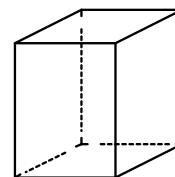


- 12** В треугольнике  $ABC$  стороны  $AC$  и  $BC$  равны. Внешний угол при вершине  $B$  равен  $143^\circ$ . Найдите угол  $C$ . Ответ дайте в градусах.



Ответ: \_\_\_\_\_.

- 13** Два ребра прямоугольного параллелепипеда равны 1 и 5, а объём параллелепипеда равен 30. Найдите площадь поверхности этого параллелепипеда.



Ответ: \_\_\_\_\_.

- 14** Найдите значение выражения  $5\frac{1}{11} + \frac{30}{33} - 2$ .

Ответ: \_\_\_\_\_.

- 15** Поступивший в продажу в январе мобильный телефон стоил 20 000 рублей. В апреле он стал стоить 12 600 рублей. На сколько процентов снизилась цена на мобильный телефон?

Ответ: \_\_\_\_\_.

- 16** Найдите значение выражения  $(\sqrt{19} + 2)(\sqrt{19} - 2)$ .

Ответ: \_\_\_\_\_.

- 17** Найдите корень уравнения  $-5 + 2x = -3x + 6$ .

Ответ: \_\_\_\_\_.

- 18** Каждому из четырёх неравенств в левом столбце соответствует одно из решений в правом столбце. Установите соответствие между неравенствами и их решениями.

НЕРАВЕНСТВА	РЕШЕНИЯ
А) $(x-3)(x-6) < 0$	1) $(3; 6)$
Б) $\frac{(x-6)^2}{x-3} > 0$	2) $(-\infty; 3) \cup (6; +\infty)$
В) $\frac{x-3}{x-6} > 0$	3) $(3; 6) \cup (6; +\infty)$
Г) $(x-3)^2(x-6) < 0$	4) $(-\infty; 3) \cup (3; 6)$

Впишите в приведённую в ответе таблицу под каждой буквой соответствующий решению номер.

Ответ:

А	Б	В	Г

- 19** Найдите трёхзначное число, кратное 11, все цифры которого различны, а сумма квадратов цифр делится на 4, но не делится на 16. В ответе укажите какое-нибудь одно такое число.

Ответ: \_\_\_\_\_.

- 20** Первый час автомобиль ехал по магистрали со скоростью 120 км/ч, следующий час — со скоростью 90 км/ч, а затем три часа — со скоростью 45 км/ч. Найдите среднюю скорость автомобиля на протяжении всего пути. Ответ дайте в км/ч.

Ответ: \_\_\_\_\_.

- 21** Взяли несколько досок и распилили их. Всего сделали 8 поперечных распилов, в итоге получилось 19 кусков. Сколько досок взяли?

Ответ: \_\_\_\_\_.

**Тренировочная работа №1 по МАТЕМАТИКЕ****10 класс**

31 января 2024 года

Вариант МА2300104

Выполнена: ФИО \_\_\_\_\_ класс \_\_\_\_\_

**Инструкция по выполнению работы**

Работа по математике включает в себя 21 задание.

На выполнение работы отводится 3 часа (180 минут).

Ответы к заданиям записываются в виде числа или последовательности цифр в поле ответа в тексте работы.

При выполнении заданий можно пользоваться черновиком. Записи в черновике не учитываются при оценивании работы. Баллы, полученные Вами за выполненные задания, суммируются. Постарайтесь выполнить как можно больше заданий и набрать наибольшее количество баллов.

*Желаем успеха!*

*Ответом к каждому заданию является конечная десятичная дробь, целое число или последовательность цифр. Запишите ответы к заданиям в поле ответа в тексте работы.*

- 1** Таксист за месяц проехал 8000 км. Цена бензина — 58 рублей за литр. Средний расход бензина на 100 км составляет 10 литров. Сколько рублей потратил таксист на бензин за этот месяц?

Ответ: \_\_\_\_\_.

- 2** Установите соответствие между величинами и их возможными значениями: к каждому элементу первого столбца подберите соответствующий элемент из второго столбца.

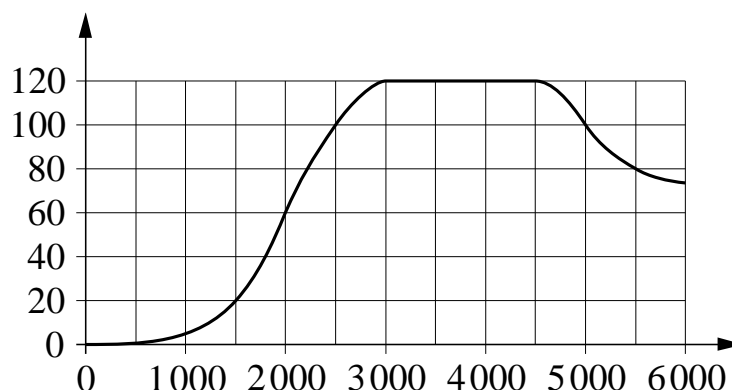
ВЕЛИЧИНЫ	ЗНАЧЕНИЯ
А) масса двухлитрового пакета сока	1) 130 г
Б) масса взрослого кита	2) 2 кг
В) масса яблока	3) 400 мг
Г) масса таблетки лекарства	4) 120 г

В таблице под каждой буквой, соответствующей величине, укажите номер её возможного значения.

Ответ:

А	Б	В	Г

- 3 На графике показана зависимость крутящего момента автомобильного двигателя от числа оборотов в минуту. На горизонтальной оси отмечено число оборотов в минуту, на вертикальной оси — крутящий момент в Н·м.



Определите по графику, какое наименьшее число оборотов в минуту должен поддерживать водитель, чтобы крутящий момент был не меньше 100 Н·м.

Ответ: \_\_\_\_\_.

- 4 Работа постоянного тока (в джоулях) вычисляется по формуле  $A = \frac{U^2 t}{R}$ , где  $U$  — напряжение (в вольтах),  $R$  — сопротивление (в омах),  $t$  — время (в секундах). Пользуясь этой формулой, найдите  $A$  (в джоулях), если  $t = 3$  с,  $U = 10$  В и  $R = 12$  Ом.

Ответ: \_\_\_\_\_.

- 5 Перед началом футбольного матча судья бросает монетку, чтобы определить, какая из команд будет владеть мячом в начале матча. Команда «Физик» играет два матча с разными командами. Найдите вероятность того, что «Физик» хотя бы один раз выиграет мяч.

Ответ: \_\_\_\_\_.

- 6** Клиент хочет арендовать автомобиль на сутки для поездки протяжённостью 300 км. В таблице приведены характеристики трёх автомобилей и стоимость их аренды.

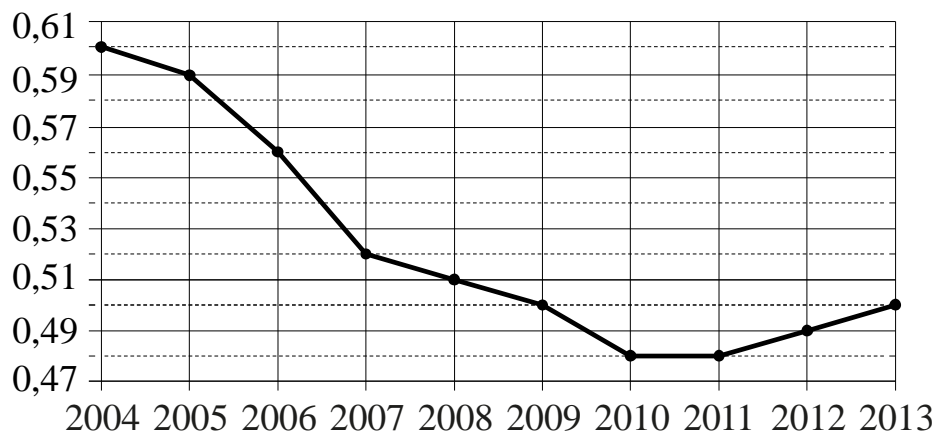
Автомобиль	Топливо	Расход топлива (л на 100 км)	Арендная плата (руб. за 1 сутки)
А	Дизельное	8	3900
Б	Бензин	9	3700
В	Газ	12	3750

Помимо аренды, клиент обязан оплатить топливо для автомобиля на всю поездку. Цена дизельного топлива — 60 рублей за литр, бензина — 55 рублей за литр, газа — 35 рублей за литр. Сколько рублей заплатит клиент за аренду и топливо, если выберет самый дешёвый вариант?

Ответ: \_\_\_\_\_.

7

На рисунке точками показан прирост населения Китая в период с 2004 по 2013 год. По горизонтали указывается год, по вертикали — прирост населения в процентах (увеличение численности населения относительно прошлого года). Для наглядности точки соединены ломаной линией.



Пользуясь рисунком, поставьте в соответствие каждому из указанных периодов времени характеристику прироста населения Китая в этот период.

**ПЕРИОДЫ ВРЕМЕНИ**

- А) 2004–2006 гг.
- Б) 2006–2007 гг.
- В) 2008–2011 гг.
- Г) 2012–2013 гг.

**ХАРАКТЕРИСТИКИ**

- 1) Прирост населения оставался выше 0,55 %.
- 2) Прирост населения достиг минимума.
- 3) Прирост населения увеличился.
- 4) Наибольшее падение прироста населения за один год.

В таблице под каждой буквой укажите соответствующий номер.

Ответ:

А	Б	В	Г


**8** Если спортсмен, участвующий в Олимпийских играх, установил мировой рекорд, то его результат является и олимпийским рекордом. Выберите утверждения, которые верны при указанном условии.

- 1) Если результат спортсмена, участвующего в Олимпийских играх, не является олимпийским рекордом, то этот результат не является и мировым рекордом.
- 2) Если результат спортсмена, участвующего в Олимпийских играх, не является олимпийским рекордом, то этот результат является мировым рекордом.
- 3) Если результат спортсмена, участвующего в Олимпийских играх, является мировым рекордом, то этот результат не является олимпийским рекордом.
- 4) Если спортсмен, участвующий в Олимпийских играх, установил мировой рекорд в беге на 100 м, то его результат является и олимпийским рекордом.

В ответе запишите номера выбранных утверждений без пробелов, запятых и других дополнительных символов.

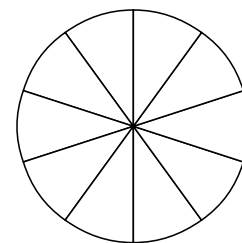
Ответ: \_\_\_\_\_.

**9** План местности разбит на клетки. Каждая клетка обозначает квадрат  $1\text{ м} \times 1\text{ м}$ . Найдите периметр участка, выделенного на плане. Ответ дайте в метрах.



Ответ: \_\_\_\_\_.

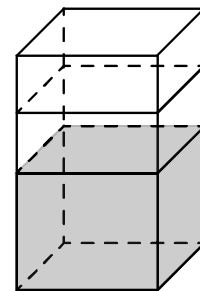
**10** Колесо имеет 10 спиц. Углы между соседними спицами равны. Найдите величину угла (в градусах), который образуют две соседние спицы.



Ответ: \_\_\_\_\_.

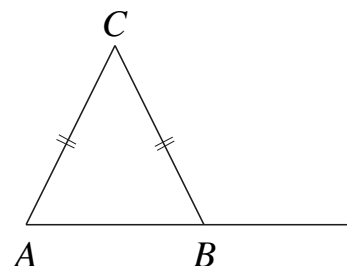


- 11** В бак, имеющий форму правильной четырёхугольной призмы, налито 10 л воды. После полного погружения в воду детали уровень воды в баке увеличился в 1,3 раза. Найдите объём детали. Ответ дайте в кубических сантиметрах, зная, что в одном литре 1000 кубических сантиметров.



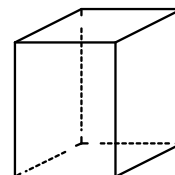
Ответ: \_\_\_\_\_.

- 12** В треугольнике  $ABC$  стороны  $AC$  и  $BC$  равны. Внешний угол при вершине  $B$  равен  $134^\circ$ . Найдите угол  $C$ . Ответ дайте в градусах.



Ответ: \_\_\_\_\_.

- 13** Два ребра прямоугольного параллелепипеда равны 6 и 4, а объём параллелепипеда равен 240. Найдите площадь поверхности этого параллелепипеда.



Ответ: \_\_\_\_\_.

- 14** Найдите значение выражения  $1\frac{3}{15} + 2,2 + 1\frac{1}{5}$ .

Ответ: \_\_\_\_\_.

- 15** Поступивший в продажу в мае мобильный телефон стоил 50 000 рублей. В сентябре он стал стоить 41 000 рублей. На сколько процентов снизилась цена на мобильный телефон?

Ответ: \_\_\_\_\_.

**16** Найдите значение выражения  $(\sqrt{23} + 3)(\sqrt{23} - 3)$ .

Ответ: \_\_\_\_\_.

**17** Найдите корень уравнения  $8 - 5x = 5x - 4$ .

Ответ: \_\_\_\_\_.

**18** Каждому из четырёх неравенств в левом столбце соответствует одно из решений в правом столбце. Установите соответствие между неравенствами и их решениями.

НЕРАВЕНСТВА	РЕШЕНИЯ
А) $(x-1)(x-2) < 0$	1) $(1; 2)$
Б) $\frac{x-1}{x-2} > 0$	2) $(1; 2) \cup (2; +\infty)$
В) $(x-1)^2(x-2) < 0$	3) $(-\infty; 1) \cup (1; 2)$
Г) $\frac{(x-2)^2}{x-1} > 0$	4) $(-\infty; 1) \cup (2; +\infty)$

Впишите в приведённую в ответе таблицу под каждой буквой соответствующий решению номер.

Ответ:

А	Б	В	Г

**19** Найдите трёхзначное число, кратное 40, все цифры которого различны, а сумма квадратов цифр делится на 4, но не делится на 16. В ответе укажите какое-нибудь одно такое число.

Ответ: \_\_\_\_\_.

**20** Первый час автомобиль ехал по магистрали со скоростью 120 км/ч, следующие три часа — со скоростью 105 км/ч, а затем три часа — со скоростью 65 км/ч. Найдите среднюю скорость автомобиля на протяжении всего пути. Ответ дайте в км/ч.

Ответ: \_\_\_\_\_.

**21** Взяли несколько досок и распилили их. Всего сделали 11 поперечных распилов, в итоге получилось 25 кусков. Сколько досок взяли?

Ответ: \_\_\_\_\_.

**Тренировочная работа №1 по МАТЕМАТИКЕ****10 класс**

31 января 2024 года

Вариант МА2300105

Выполнена: ФИО \_\_\_\_\_ класс \_\_\_\_\_

**Инструкция по выполнению работы**

Работа по математике включает в себя 21 задание.

На выполнение работы отводится 3 часа (180 минут).

Ответы к заданиям записываются в виде числа или последовательности цифр в поле ответа в тексте работы.

При выполнении заданий можно пользоваться черновиком. Записи в черновике не учитываются при оценивании работы. Баллы, полученные Вами за выполненные задания, суммируются. Постарайтесь выполнить как можно больше заданий и набрать наибольшее количество баллов.

*Желаем успеха!*

*Ответом к каждому заданию является конечная десятичная дробь, целое число или последовательность цифр. Запишите ответы к заданиям в поле ответа в тексте работы.*

- 1** На бензоколонке один литр бензина стоит 52 руб. 60 коп. Водитель залил в бак 20 литров бензина и взял бутылку воды за 71 рубль. Сколько рублей сдачи он получит с 2000 рублей?

Ответ: \_\_\_\_\_.

- 2** Установите соответствие между величинами и их возможными значениями: к каждому элементу первого столбца подберите соответствующий элемент из второго столбца.

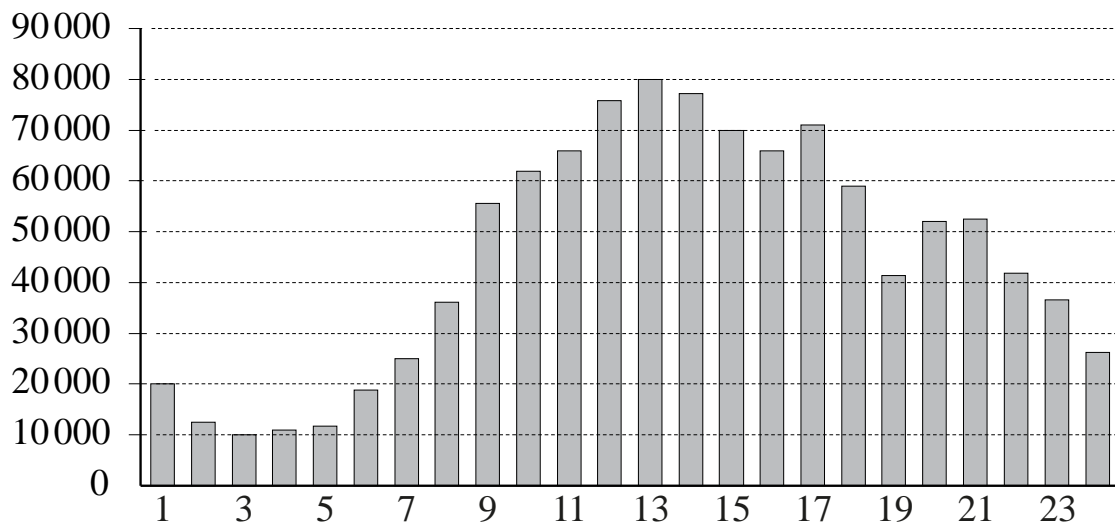
ВЕЛИЧИНЫ	ЗНАЧЕНИЯ
А) масса куриного яйца	1) 2,5 мг
Б) масса детской коляски	2) 14 кг
В) масса взрослого бегемота	3) 50 г
Г) масса активного вещества в таблетке	4) 3 т

В таблице под каждой буквой, соответствующей величине, укажите номер её возможного значения.

Ответ:

А	Б	В	Г

- 3** На диаграмме показано количество посетителей сайта РИА «Новости» в течение каждого часа 8 декабря 2009 года. По горизонтали указывается время (в часах), по вертикали — количество посетителей сайта на протяжении этого часа.



Определите по диаграмме, в течение какого часа на сайте РИА «Новости» побывало максимальное количество посетителей.

Ответ: \_\_\_\_\_.

- 4** Работа постоянного тока (в джоулях) вычисляется по формуле  $A = I^2 R t$ , где  $I$  — сила тока (в амперах),  $R$  — сопротивление (в омах),  $t$  — время (в секундах). Пользуясь этой формулой, найдите  $A$  (в джоулях), если  $t = 2$  с,  $I = 6$  А и  $R = 5$  Ом.

Ответ: \_\_\_\_\_.

- 5** В случайном эксперименте симметричную монету бросают дважды. Найдите вероятность того, что хотя бы один раз выпадет решка.

Ответ: \_\_\_\_\_.

- 6 Для транспортировки 42 тонн груза на 1200 км можно воспользоваться услугами одной из трёх фирм-перевозчиков. Стоимость перевозки и грузоподъёмность подходящих для транспортировки автомобилей каждого перевозчика указаны в таблице.

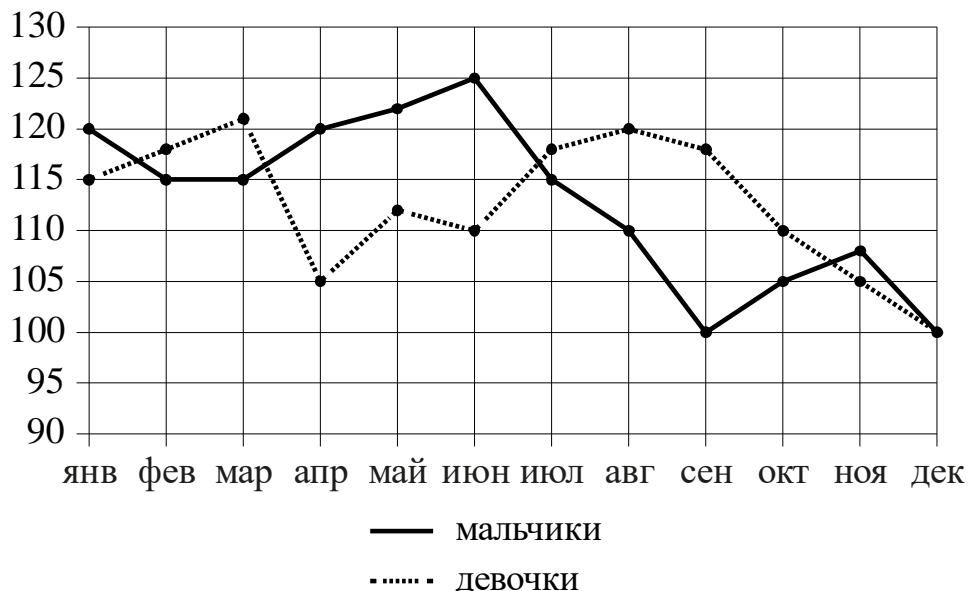
Перевозчик	Стоимость перевозки одним автомобилем (руб. на 100 км)	Грузоподъёмность одного автомобиля (тонны)
А	3100	4
Б	4000	5,5
В	7600	10

Сколько рублей придётся заплатить за самую дешёвую перевозку?

Ответ: \_\_\_\_\_.

7

На рисунке точками изображено число мальчиков и девочек (по отдельности), родившихся в городском роддоме, за каждый календарный месяц 2013 года. По горизонтали указываются месяцы, по вертикали — число рождений. Для наглядности точки соединены ломаными линиями.



Пользуясь рисунком, поставьте в соответствие каждому из указанных периодов времени характеристику рождаемости в этот период.

#### ПЕРИОДЫ ВРЕМЕНИ

- А) январь – март
- Б) апрель – июнь
- В) июль – сентябрь
- Г) октябрь – декабрь

#### ХАРАКТЕРИСТИКИ

- 1) Рождаемость мальчиков в течение второго и третьего месяцев этого периода была одинаковой.
- 2) В течение этого периода рождаемость девочек только снижалась.
- 3) В каждом месяце этого периода девочек рождалось больше, чем мальчиков.
- 4) В каждом месяце этого периода мальчиков рождалось больше, чем девочек.

В таблице под каждой буквой укажите соответствующий номер.

Ответ:

А	Б	В	Г




**8** Андрей Сергеевич был в отпуске 9 дней и иногда ходил куда-нибудь гулять. Два раза он ходил на смотровую площадку и 3 раза ходил на пляж (за день Андрей Сергеевич мог сходить и на смотровую площадку, и на пляж, а мог никуда не ходить, но дважды в день в одно и то же место не ходил). Выберите утверждения, которые верны при указанных условиях вне зависимости от того, в какие дни Андрей Сергеевич ходил на пляж.

- 1) Не может оказаться, что Андрей Сергеевич 4 дня ходил и на смотровую площадку, и на пляж.
- 2) Было два дня, когда Андрей Сергеевич ходил и на смотровую площадку, и на пляж.
- 3) Три дня Андрей Сергеевич не ходил ни на смотровую площадку, ни на пляж.
- 4) Если Андрей Сергеевич сходил на смотровую площадку в какой-то день, то в этот же день он ходил и на пляж.

В ответе запишите номера выбранных утверждений без пробелов, запятых и других дополнительных символов.

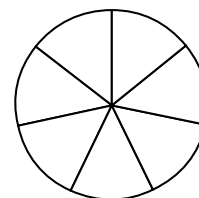
Ответ: \_\_\_\_\_.

**9** План местности разбит на клетки. Каждая клетка обозначает квадрат  $1\text{ м} \times 1\text{ м}$ . Найдите площадь участка, выделенного на плане. Ответ дайте в квадратных метрах.



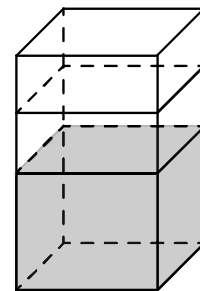
Ответ: \_\_\_\_\_.

**10** На рисунке показано, как выглядит колесо с 7 спицами. Сколько будет спиц в колесе, если угол между соседними спицами в нём будет равен  $20^\circ$ ?



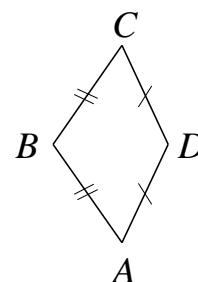
Ответ: \_\_\_\_\_.

- 11** В бак, имеющий форму правильной четырёхугольной призмы со стороной основания 20 см, налита жидкость. Чтобы измерить объём детали сложной формы, её полностью погружают в эту жидкость. Найдите объём детали, если после её погружения уровень жидкости в баке поднялся на 60 см. Ответ дайте в кубических сантиметрах.



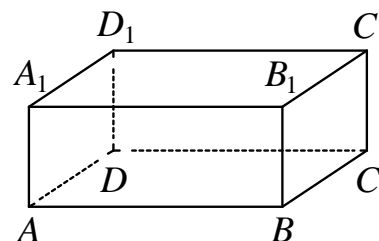
Ответ: \_\_\_\_\_.

- 12** В выпуклом четырёхугольнике  $ABCD$  известно, что  $AB = BC$ ,  $AD = CD$ ,  $\angle B = 101^\circ$ ,  $\angle D = 105^\circ$ . Найдите угол  $A$ . Ответ дайте в градусах.



Ответ: \_\_\_\_\_.

- 13** В прямоугольном параллелепипеде  $ABCD A_1 B_1 C_1 D_1$  рёбра  $CD$ ,  $CB$  и диагональ  $CD_1$  боковой грани равны соответственно 5, 5 и  $\sqrt{29}$ . Найдите объём параллелепипеда  $ABCD A_1 B_1 C_1 D_1$ .



Ответ: \_\_\_\_\_.

- 14** Найдите значение выражения  $\frac{7}{5} - 2,2 - \frac{1}{2}$ .

Ответ: \_\_\_\_\_.

- 15** Товар на распродаже уценили на 45 %, после этого он стал стоить 880 рублей. Сколько рублей стоил товар до распродажи?

Ответ: \_\_\_\_\_.

**16** Найдите значение выражения  $(\sqrt{13} - 2\sqrt{3})(\sqrt{13} + 2\sqrt{3})$ .

Ответ: \_\_\_\_\_.

**17** Найдите корень уравнения  $-2(-5 - 3x) - 5x = -2$ .

Ответ: \_\_\_\_\_.

**18** Каждому из четырёх неравенств в левом столбце соответствует одно из решений в правом столбце. Установите соответствие между неравенствами и их решениями.

НЕРАВЕНСТВА	РЕШЕНИЯ
А) $(x-1)(x-3) < 0$	1) $1 < x < 3$
Б) $\frac{(x-3)^2}{x-1} > 0$	2) $1 < x < 3$ или $x > 3$
В) $(x-1)^2(x-3) < 0$	3) $x < 1$ или $1 < x < 3$
Г) $\frac{x-1}{x-3} > 0$	4) $x < 1$ или $x > 3$

Впишите в приведённую в ответе таблицу под каждой буквой соответствующий решению номер.

Ответ: 

А	Б	В	Г

**19** Найдите трёхзначное натуральное число, большее 800, которое делится на каждую свою цифру и все цифры которого различны и не равны нулю. В ответе укажите какое-нибудь одно такое число.

Ответ: \_\_\_\_\_.

**20** Теплоход, скорость которого в неподвижной воде равна 15 км/ч, проходит по течению реки и после стоянки возвращается в исходный пункт. Скорость течения равна 3 км/ч, стоянка длится 7 часов, а в исходный пункт теплоход возвращается через 37 часов после отправления из него. Сколько километров проходит теплоход за весь рейс?

Ответ: \_\_\_\_\_.

**21** Кузнечик прыгает вдоль координатной прямой в любом направлении на единичный отрезок за прыжок, делая первый прыжок из начала координат. Сколько существует различных точек на координатной прямой, в которых кузнечик может оказаться, совершив ровно 8 прыжков?

Ответ: \_\_\_\_\_.

**Тренировочная работа №1 по МАТЕМАТИКЕ****10 класс**

31 января 2024 года

Вариант МА2300106

Выполнена: ФИО \_\_\_\_\_ класс \_\_\_\_\_

**Инструкция по выполнению работы**

Работа по математике включает в себя 21 задание.

На выполнение работы отводится 3 часа (180 минут).

Ответы к заданиям записываются в виде числа или последовательности цифр в поле ответа в тексте работы.

При выполнении заданий можно пользоваться черновиком. Записи в черновике не учитываются при оценивании работы. Баллы, полученные Вами за выполненные задания, суммируются. Постарайтесь выполнить как можно больше заданий и набрать наибольшее количество баллов.

*Желаем успеха!*

*Ответом к каждому заданию является конечная десятичная дробь, целое число или последовательность цифр. Запишите ответы к заданиям в поле ответа в тексте работы.*

- 1** На бензоколонке один литр бензина стоит 58 рублей. Водитель залил в бак 15 литров бензина и взял бутылку воды за 55 рублей. Сколько рублей сдачи он получит с 1000 рублей?

Ответ: \_\_\_\_\_.

- 2** Установите соответствие между величинами и их возможными значениями: к каждому элементу первого столбца подберите соответствующий элемент из второго столбца.

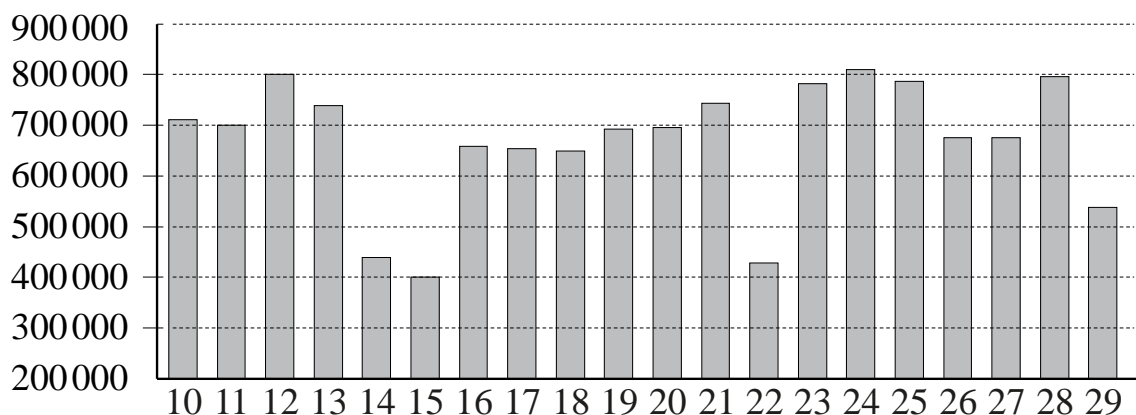
ВЕЛИЧИНЫ	ЗНАЧЕНИЯ
А) масса двухлитрового пакета сока	1) 130 г
Б) масса взрослого кита	2) 2 кг
В) масса яблока	3) 400 мг
Г) масса таблетки лекарства	4) 120 г

В таблице под каждой буквой, соответствующей величине, укажите номер её возможного значения.

Ответ:

А	Б	В	Г

- 3 На диаграмме показано количество посетителей сайта РИА «Новости» во все дни с 10 по 29 ноября 2009 года. По горизонтали указываются числа месяца, по вертикали — количество посетителей сайта за данный день.



Определите по диаграмме, какого числа количество посетителей сайта РИА «Новости» было наибольшим за указанный период.

Ответ: \_\_\_\_\_.

- 4 Работа постоянного тока (в джоулях) вычисляется по формуле  $A = I^2 R t$ , где  $I$  — сила тока (в амперах),  $R$  — сопротивление (в омах),  $t$  — время (в секундах). Пользуясь этой формулой, найдите  $A$  (в джоулях), если  $t = 5$  с,  $I = 2$  А и  $R = 13$  Ом.

Ответ: \_\_\_\_\_.

- 5 В случайном эксперименте симметричную монету бросают дважды. Найдите вероятность того, что орёл выпадет ровно один раз.

Ответ: \_\_\_\_\_.

- 6 Для транспортировки 44 тонн груза на 1300 км можно воспользоваться услугами одной из трёх фирм-перевозчиков. Стоимость перевозки и грузоподъёмность подходящих для транспортировки автомобилей каждого перевозчика указаны в таблице.

Перевозчик	Стоимость перевозки одним автомобилем (руб. на 100 км)	Грузоподъёмность одного автомобиля (тонны)
А	3200	3,5
Б	4100	5
В	9500	12

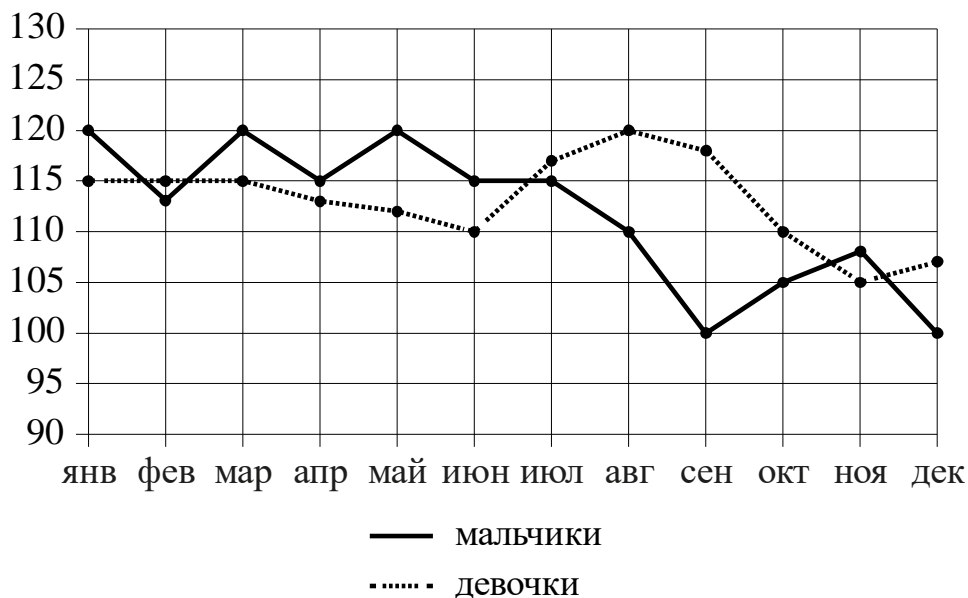
Сколько рублей придётся заплатить за самую дешёвую перевозку?

Ответ: \_\_\_\_\_.



7

На рисунке точками изображено число мальчиков и девочек (по отдельности), родившихся в городском роддоме, за каждый календарный месяц 2013 года. По горизонтали указываются месяцы, по вертикали — число рождений. Для наглядности точки соединены ломаными линиями.



Пользуясь рисунком, поставьте в соответствие каждому из указанных периодов времени характеристику рождаемости в этот период.

#### ПЕРИОДЫ ВРЕМЕНИ

- А) январь – март
- Б) апрель – июнь
- В) июль – сентябрь
- Г) октябрь – декабрь

#### ХАРАКТЕРИСТИКИ

- 1) В каждый месяц этого периода число рождений девочек и мальчиков различалось не более чем на 5.
- 2) В один из месяцев этого периода число рождений мальчиков и девочек различалось более чем на 10.
- 3) В каждом месяце этого периода мальчиков рождалось больше, чем девочек.
- 4) Рождаемость девочек достигла минимума за весь год.

В таблице под каждой буквой укажите соответствующий номер.

Ответ:

А	Б	В	Г

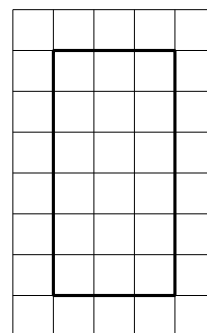
**8** Тане на день рождения подарили 15 шариков, 8 из которых жёлтые, а остальные зелёные. Таня хочет на трёх шариках нарисовать рисунки маркером, чтобы подарить маме, папе и брату. Выберите утверждения, которые будут верны при указанных условиях независимо от того, на каких шариках Таня нарисует рисунки.

- 1) Найдётся 2 зелёных шарика без рисунков.
- 2) Не найдётся 5 жёлтых шариков с рисунками.
- 3) Если шарик жёлтый, то на нём Таня нарисует рисунок.
- 4) Найдётся 3 жёлтых шарика с рисунками.

В ответе запишите номера выбранных утверждений без пробелов, запятых и других дополнительных символов.

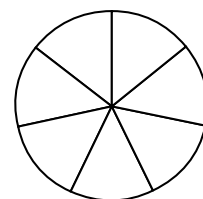
Ответ: \_\_\_\_\_.

**9** План местности разбит на клетки. Каждая клетка обозначает квадрат  $1\text{ м} \times 1\text{ м}$ . Найдите площадь участка, выделенного на плане. Ответ дайте в квадратных метрах.



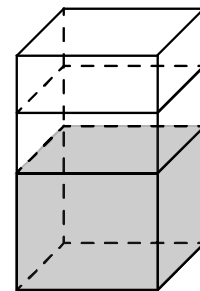
Ответ: \_\_\_\_\_.

**10** На рисунке показано, как выглядит колесо с 7 спицами. Сколько будет спиц в колесе, если угол между соседними спицами в нём будет равен  $18^\circ$ ?



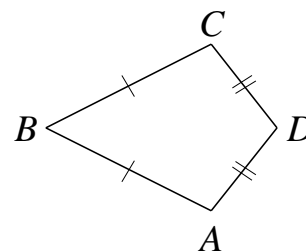
Ответ: \_\_\_\_\_.

- 11** В бак, имеющий форму правильной четырёхугольной призмы со стороной основания 20 см, налита жидкость. Чтобы измерить объём детали сложной формы, её полностью погружают в эту жидкость. Найдите объём детали, если после её погружения уровень жидкости в баке поднялся на 20 см. Ответ дайте в кубических сантиметрах.



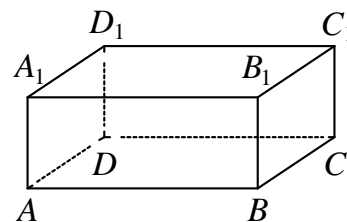
Ответ: \_\_\_\_\_.

- 12** В выпуклом четырёхугольнике  $ABCD$  известно, что  $AB = BC$ ,  $AD = CD$ ,  $\angle B = 54^\circ$ ,  $\angle D = 92^\circ$ . Найдите угол  $A$ . Ответ дайте в градусах.



Ответ: \_\_\_\_\_.

- 13** В прямоугольном параллелепипеде  $ABCD A_1 B_1 C_1 D_1$  рёбра  $CD$ ,  $CB$  и диагональ  $CD_1$  боковой грани равны соответственно 4, 7 и  $4\sqrt{2}$ . Найдите объём параллелепипеда  $ABCD A_1 B_1 C_1 D_1$ .



Ответ: \_\_\_\_\_.

- 14** Найдите значение выражения  $\frac{3}{4} - 1,3 - \frac{3}{25}$ .

Ответ: \_\_\_\_\_.

- 15** Товар на распродаже уценили на 5 %, после этого он стал стоить 570 рублей. Сколько рублей стоил товар до распродажи?

Ответ: \_\_\_\_\_.

**16** Найдите значение выражения  $(\sqrt{17} - 3\sqrt{2})(\sqrt{17} + 3\sqrt{2})$ .

Ответ: \_\_\_\_\_.

**17** Найдите корень уравнения  $1 - 6(x + 4) = 7$ .

Ответ: \_\_\_\_\_.

**18** Каждому из четырёх неравенств в левом столбце соответствует одно из решений в правом столбце. Установите соответствие между неравенствами и их решениями.

НЕРАВЕНСТВА

РЕШЕНИЯ

А)  $(x-1)^2(x-6) < 0$

1)  $1 < x < 6$

Б)  $\frac{x-1}{x-6} > 0$

2)  $x < 1$  или  $x > 6$

3)  $x < 1$  или  $1 < x < 6$

В)  $(x-1)(x-6) < 0$

4)  $1 < x < 6$  или  $x > 6$

Г)  $\frac{(x-6)^2}{x-1} > 0$

Впишите в приведённую в ответе таблицу под каждой буквой соответствующий решению номер.

Ответ:

А	Б	В	Г

**19** Найдите натуральное число, большее 1640, но меньшее 1930, которое делится на каждую свою цифру и все цифры которого различны и не равны нулю. В ответе укажите какое-нибудь одно такое число.

Ответ: \_\_\_\_\_.

**20** Теплоход, скорость которого в неподвижной воде равна 22 км/ч, проходит по течению реки и после стоянки возвращается в исходный пункт. Скорость течения равна 2 км/ч, стоянка длится 6 часов, а в исходный пункт теплоход возвращается через 28 часов после отправления из него. Сколько километров проходит теплоход за весь рейс?

Ответ: \_\_\_\_\_.

**21** Кузнечик прыгает вдоль координатной прямой в любом направлении на единичный отрезок за прыжок, делая первый прыжок из начала координат. Сколько существует различных точек на координатной прямой, в которых кузнечик может оказаться, совершив ровно 12 прыжков?

Ответ: \_\_\_\_\_.

**Тренировочная работа №1 по МАТЕМАТИКЕ****10 класс**

31 января 2024 года

Вариант МА2300107

Выполнена: ФИО \_\_\_\_\_ класс \_\_\_\_\_

**Инструкция по выполнению работы**

Работа по математике включает в себя 21 задание.

На выполнение работы отводится 3 часа (180 минут).

Ответы к заданиям записываются в виде числа или последовательности цифр в поле ответа в тексте работы.

При выполнении заданий можно пользоваться черновиком. Записи в черновике не учитываются при оценивании работы. Баллы, полученные Вами за выполненные задания, суммируются. Постарайтесь выполнить как можно больше заданий и набрать наибольшее количество баллов.

*Желаем успеха!*

*Ответом к каждому заданию является конечная десятичная дробь, целое число или последовательность цифр. Запишите ответы к заданиям в поле ответа в тексте работы.*

- 1** На бензоколонке один литр бензина стоит 52 руб. 80 коп. Водитель залил в бак 20 литров бензина и взял бутылку воды за 63 рубля. Сколько рублей сдачи он получит с 1500 рублей?

Ответ: \_\_\_\_\_.

- 2** Установите соответствие между величинами и их возможными значениями: к каждому элементу первого столбца подберите соответствующий элемент из второго столбца.

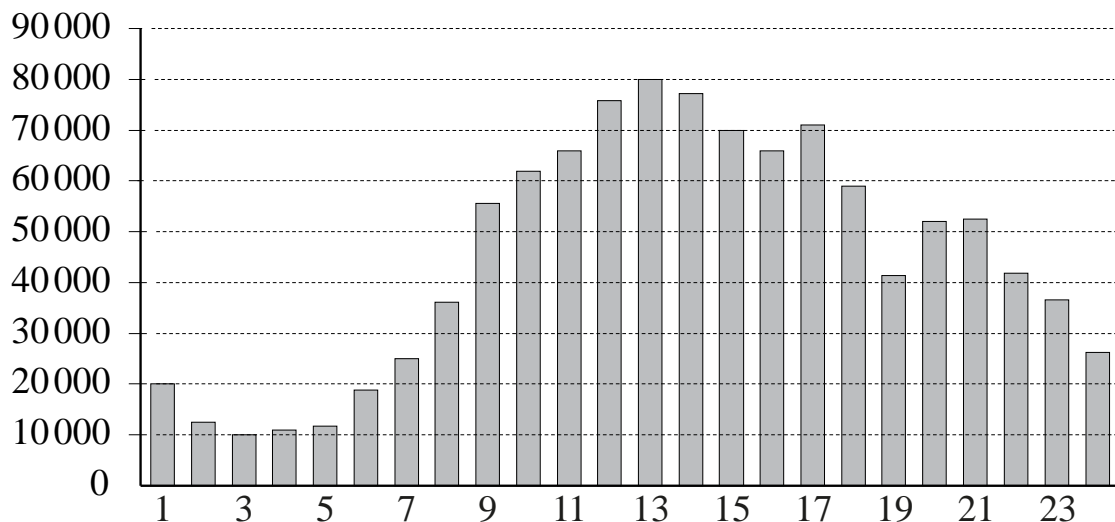
ВЕЛИЧИНЫ	ЗНАЧЕНИЯ
А) масса мобильного телефона	1) 12,5 г
Б) масса одной ягоды клубники	2) 4 т
В) масса взрослого слона	3) 3 кг
Г) масса курицы	4) 100 г

В таблице под каждой буквой, соответствующей величине, укажите номер её возможного значения.

Ответ:

А	Б	В	Г

- 3** На диаграмме показано количество посетителей сайта РИА «Новости» в течение каждого часа 8 декабря 2009 года. По горизонтали указывается время (в часах), по вертикали — количество посетителей сайта на протяжении этого часа.



Определите по диаграмме, в течение какого часа на сайте РИА «Новости» побывало минимальное количество посетителей.

Ответ: \_\_\_\_\_.

- 4** Работа постоянного тока (в джоулях) вычисляется по формуле  $A = I^2 R t$ , где  $I$  — сила тока (в амперах),  $R$  — сопротивление (в омах),  $t$  — время (в секундах). Пользуясь этой формулой, найдите  $A$  (в джоулях), если  $t = 4$  с,  $I = 7$  А и  $R = 5$  Ом.

Ответ: \_\_\_\_\_.

- 5** В случайном эксперименте симметричную монету бросают дважды. Найдите вероятность того, что решка выпадет ровно один раз.

Ответ: \_\_\_\_\_.



- 6 Для транспортировки 45 тонн груза на 1500 км можно воспользоваться услугами одной из трёх фирм-перевозчиков. Стоимость перевозки и грузоподъёмность подходящих для транспортировки автомобилей каждого перевозчика указаны в таблице.

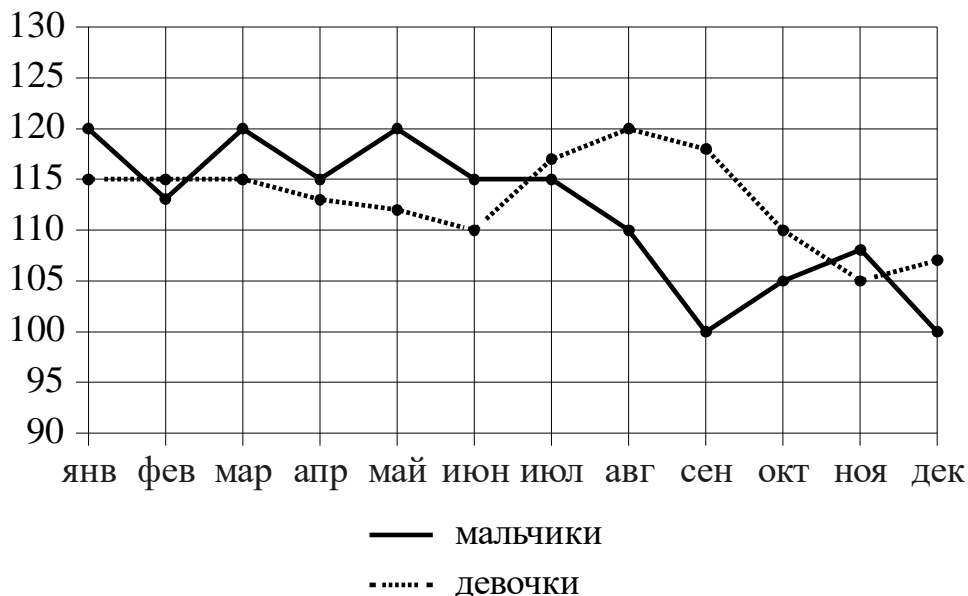
Перевозчик	Стоимость перевозки одним автомобилем (руб. на 100 км)	Грузоподъёмность одного автомобиля (тонны)
А	3100	4
Б	4000	5,5
В	7600	10

Сколько рублей придётся заплатить за самую дешёвую перевозку?

Ответ: \_\_\_\_\_.

7

На рисунке точками изображено число мальчиков и девочек (по отдельности), родившихся в городском роддоме, за каждый календарный месяц 2013 года. По горизонтали указываются месяцы, по вертикали — число рождений. Для наглядности точки соединены ломаными линиями.



Пользуясь рисунком, поставьте в соответствие каждому из указанных периодов времени характеристику рождаемости в этот период.

#### ПЕРИОДЫ ВРЕМЕНИ

- А) январь – март
- Б) апрель – июнь
- В) июль – сентябрь
- Г) октябрь – декабрь

#### ХАРАКТЕРИСТИКИ

- 1) В каждом месяце этого периода мальчиков рождалось больше, чем девочек.
- 2) В каждом месяце этого периода девочек рождалось больше, чем мальчиков.
- 3) Рождаемость девочек достигла минимума за весь год.
- 4) Рождаемость девочек в течение всех трёх месяцев этого периода была одинаковой.

В таблице под каждой буквой укажите соответствующий номер.

Ответ:

А	Б	В	Г

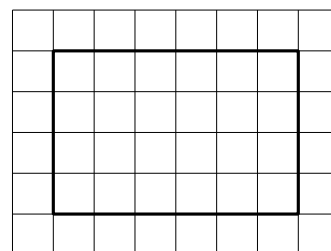
**8** Диагностика 30 машин в автосервисе показала, что у 5 машин нужно заменить тормозные колодки, а у 10 машин — заменить воздушный фильтр (колодки и фильтр требуют замены независимо друг от друга). Выберите утверждения, которые верны при указанных условиях вне зависимости от того, какие машины нуждаются в замене фильтра, а какие — в замене колодок.

- 1) Найдётся 6 машин, в которых нужно поменять и колодки, и фильтр.
- 2) Найдётся 9 машин, в которых не нужно менять ни колодки, ни фильтр.
- 3) Не найдётся 7 машин, в которых нужно менять и колодки, и фильтр.
- 4) Если в машине нужно менять колодки, то фильтр тоже нужно менять.

В ответе запишите номера выбранных утверждений без пробелов, запятых и других дополнительных символов.

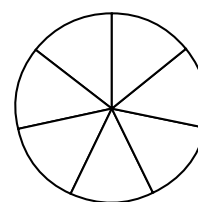
Ответ: \_\_\_\_\_.

**9** План местности разбит на клетки. Каждая клетка обозначает квадрат  $1\text{ м} \times 1\text{ м}$ . Найдите площадь участка, выделенного на плане. Ответ дайте в квадратных метрах.



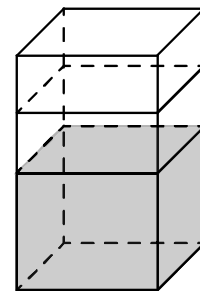
Ответ: \_\_\_\_\_.

**10** На рисунке показано, как выглядит колесо с 7 спицами. Сколько будет спиц в колесе, если угол между соседними спицами в нём будет равен  $30^\circ$ ?



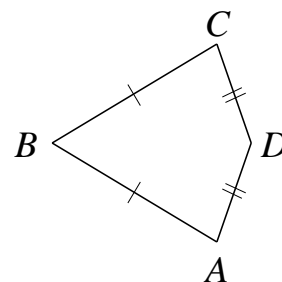
Ответ: \_\_\_\_\_.

- 11** В бак, имеющий форму правильной четырёхугольной призмы со стороной основания 70 см, налита жидкость. Чтобы измерить объём детали сложной формы, её полностью погружают в эту жидкость. Найдите объём детали, если после её погружения уровень жидкости в баке поднялся на 10 см. Ответ дайте в кубических сантиметрах.



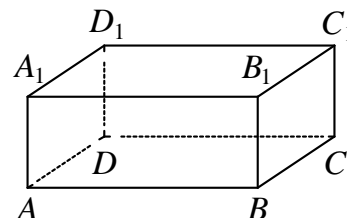
Ответ: \_\_\_\_\_.

- 12** В выпуклом четырёхугольнике  $ABCD$  известно, что  $AB = BC$ ,  $AD = CD$ ,  $\angle B = 32^\circ$ ,  $\angle D = 94^\circ$ . Найдите угол  $A$ . Ответ дайте в градусах.



Ответ: \_\_\_\_\_.

- 13** В прямоугольном параллелепипеде  $ABCD A_1 B_1 C_1 D_1$  рёбра  $AB$ ,  $AD$  и диагональ  $AB_1$  боковой грани равны соответственно 4, 6 и 5. Найдите объём параллелепипеда  $ABCD A_1 B_1 C_1 D_1$ .



Ответ: \_\_\_\_\_.

- 14** Найдите значение выражения  $\left(-\frac{1}{4}\right) - 1,5 - \frac{2}{5}$ .

Ответ: \_\_\_\_\_.

- 15** Товар на распродаже уценили на 40 %, после этого он стал стоить 810 рублей. Сколько рублей стоил товар до распродажи?

Ответ: \_\_\_\_\_.

**16** Найдите значение выражения  $(\sqrt{10} - 2\sqrt{3})(\sqrt{10} + 2\sqrt{3})$ .

Ответ: \_\_\_\_\_.

**17** Найдите корень уравнения  $7(-6 - x) - 4x = -9$ .

Ответ: \_\_\_\_\_.

**18** Каждому из четырёх неравенств в левом столбце соответствует одно из решений в правом столбце. Установите соответствие между неравенствами и их решениями.

НЕРАВЕНСТВА

РЕШЕНИЯ

А)  $(x-3)(x-4) < 0$

1)  $x < 3$  или  $x > 4$

Б)  $\frac{x-3}{x-4} > 0$

2)  $3 < x < 4$  или  $x > 4$

В)  $(x-3)^2(x-4) < 0$

3)  $3 < x < 4$

Г)  $\frac{(x-4)^2}{x-3} > 0$

4)  $x < 3$  или  $3 < x < 4$

Впишите в приведённую в ответе таблицу под каждой буквой соответствующий решению номер.

Ответ:

А	Б	В	Г

**19** Найдите четырёхзначное натуральное число, большее 2200, но меньшее 3000, которое делится на каждую свою цифру и все цифры которого различны. В ответе укажите какое-нибудь одно такое число.

Ответ: \_\_\_\_\_.

**20** Теплоход, скорость которого в неподвижной воде равна 18 км/ч, проходит по течению реки и после стоянки возвращается в исходный пункт. Скорость течения равна 4 км/ч, стоянка длится 6 часов, а в исходный пункт теплоход возвращается через 33 часа после отправления из него. Сколько километров проходит теплоход за весь рейс?

Ответ: \_\_\_\_\_.

**21** Кузнечик прыгает вдоль координатной прямой в любом направлении на единичный отрезок за прыжок, делая первый прыжок из начала координат. Сколько существует различных точек на координатной прямой, в которых кузнечик может оказаться, совершив ровно 9 прыжков?

Ответ: \_\_\_\_\_.

**Тренировочная работа №1 по МАТЕМАТИКЕ****10 класс**

31 января 2024 года

Вариант МА2300108

Выполнена: ФИО \_\_\_\_\_ класс \_\_\_\_\_

**Инструкция по выполнению работы**

Работа по математике включает в себя 21 задание.

На выполнение работы отводится 3 часа (180 минут).

Ответы к заданиям записываются в виде числа или последовательности цифр в поле ответа в тексте работы.

При выполнении заданий можно пользоваться черновиком. Записи в черновике не учитываются при оценивании работы. Баллы, полученные Вами за выполненные задания, суммируются. Постарайтесь выполнить как можно больше заданий и набрать наибольшее количество баллов.

*Желаем успеха!*

*Ответом к каждому заданию является конечная десятичная дробь, целое число или последовательность цифр. Запишите ответы к заданиям в поле ответа в тексте работы.*

- 1** На бензоколонке один литр бензина стоит 56 руб. 70 коп. Водитель залил в бак 30 литров бензина и взял бутылку воды за 69 рублей. Сколько рублей сдачи он получит с 2000 рублей?

Ответ: \_\_\_\_\_.

- 2** Установите соответствие между величинами и их возможными значениями: к каждому элементу первого столбца подберите соответствующий элемент из второго столбца.

ВЕЛИЧИНЫ	ЗНАЧЕНИЯ
А) масса человека	1) 460 г
Б) масса шариковой ручки	2) 80 кг
В) масса автомобиля	3) 1,3 т
Г) масса железнодорожного состава	4) 10 г

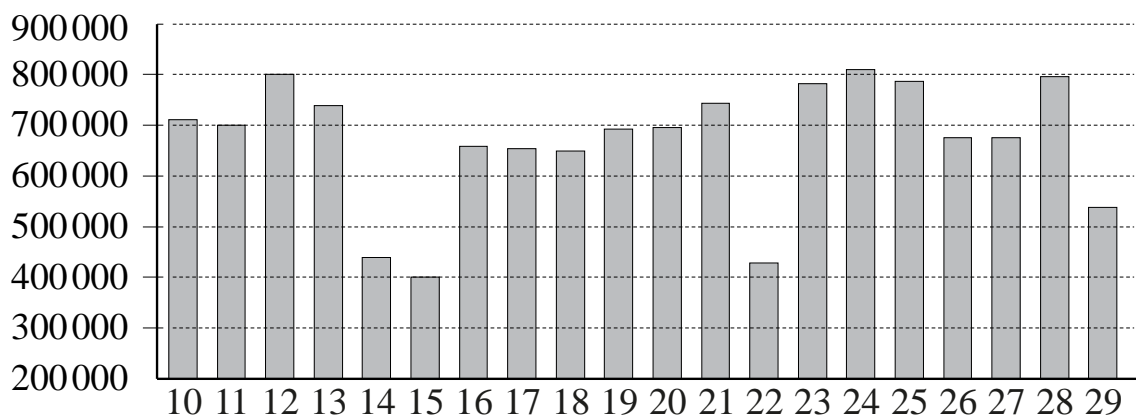
В таблице под каждой буквой, соответствующей величине, укажите номер её возможного значения.

Ответ:

А	Б	В	Г



- 3 На диаграмме показано количество посетителей сайта РИА «Новости» во все дни с 10 по 29 ноября 2009 года. По горизонтали указываются числа месяца, по вертикали — количество посетителей сайта за данный день.



Определите по диаграмме, какого числа количество посетителей сайта РИА «Новости» было наименьшим за указанный период.

Ответ: \_\_\_\_\_.

- 4 Работа постоянного тока (в джоулях) вычисляется по формуле  $A = I^2 R t$ , где  $I$  — сила тока (в амперах),  $R$  — сопротивление (в омах),  $t$  — время (в секундах). Пользуясь этой формулой, найдите  $A$  (в джоулях), если  $t = 3$  с,  $I = 5$  А и  $R = 10$  Ом.

Ответ: \_\_\_\_\_.

- 5 В случайном эксперименте симметричную монету бросают дважды. Найдите вероятность того, что орёл не выпадет ни разу.

Ответ: \_\_\_\_\_.

- 6 Для транспортировки 43 тонн груза на 1100 км можно воспользоваться услугами одной из трёх фирм-перевозчиков. Стоимость перевозки и грузоподъёмность подходящих для транспортировки автомобилей каждого перевозчика указаны в таблице.

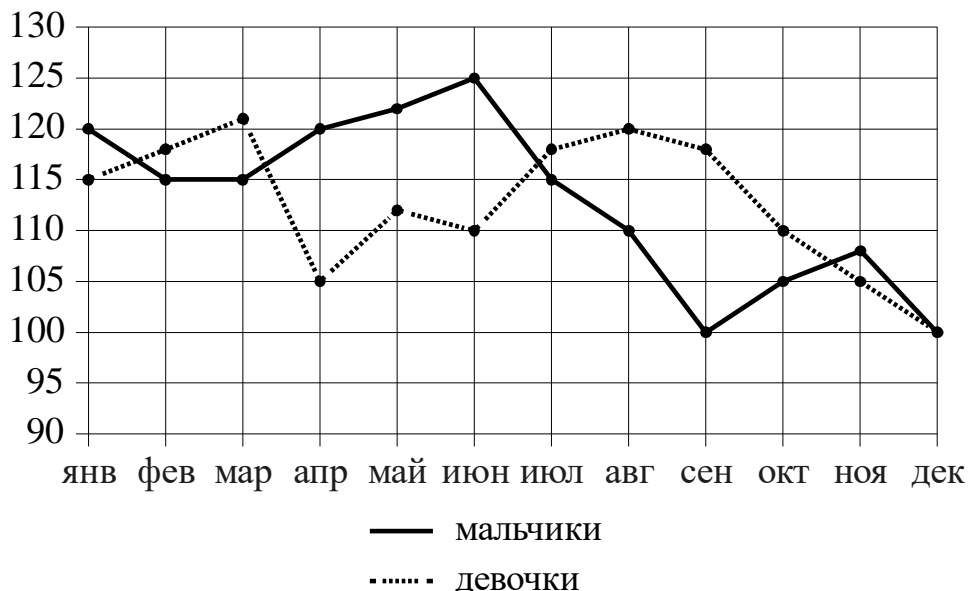
Перевозчик	Стоимость перевозки одним автомобилем (руб. на 100 км)	Грузоподъёмность одного автомобиля (тонны)
А	3200	3,5
Б	4100	5
В	9500	12

Сколько рублей придётся заплатить за самую дешёвую перевозку?

Ответ: \_\_\_\_\_.

7

На рисунке точками изображено число мальчиков и девочек (по отдельности), родившихся в городском роддоме, за каждый календарный месяц 2013 года. По горизонтали указываются месяцы, по вертикали — число рождений. Для наглядности точки соединены ломаными линиями.



Пользуясь рисунком, поставьте в соответствие каждому из указанных периодов времени характеристику рождаемости в этот период.

#### ПЕРИОДЫ ВРЕМЕНИ

- А) январь – март
- Б) апрель – июнь
- В) июль – сентябрь
- Г) октябрь – декабрь

#### ХАРАКТЕРИСТИКИ

- 1) Рождаемость мальчиков превышала рождаемость девочек.
- 2) Рождаемость девочек росла.
- 3) Рождаемость девочек снижалась.
- 4) Разность между числом родившихся девочек и числом родившихся мальчиков в один из месяцев этого периода достигла наибольшего значения за год.

В таблице под каждой буквой укажите соответствующий номер.

Ответ:

А	Б	В	Г


**8** На столе стоят 20 кружек с чаем. В шести из них чай с сахаром, а в остальных — без сахара. В четыре из этих кружек официант собирается положить по дольке лимона. Выберите утверждения, которые будут верны при указанных условиях независимо от того, в какие кружки официант положит дольки лимона.

- 1) Найдётся 9 кружек с чаем без сахара и лимона.
- 2) Найдётся 3 кружки с чаем с лимоном, но без сахара.
- 3) Если в кружке чай без сахара, то он с лимоном.
- 4) Не найдётся 8 кружек с чаем без сахара, но с лимоном.

В ответе запишите номера выбранных утверждений без пробелов, запятых и других дополнительных символов.

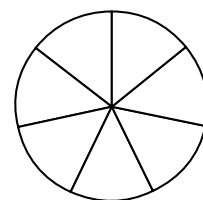
Ответ: \_\_\_\_\_.

**9** План местности разбит на клетки. Каждая клетка обозначает квадрат  $1\text{ м} \times 1\text{ м}$ . Найдите площадь участка, выделенного на плане. Ответ дайте в квадратных метрах.



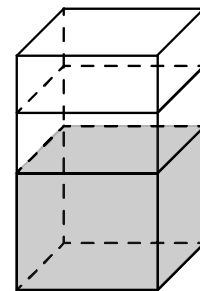
Ответ: \_\_\_\_\_.

**10** На рисунке показано, как выглядит колесо с 7 спицами. Сколько будет спиц в колесе, если угол между соседними спицами в нём будет равен  $36^\circ$ ?



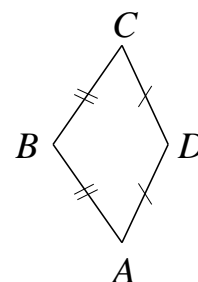
Ответ: \_\_\_\_\_.

- 11** В бак, имеющий форму правильной четырёхугольной призмы со стороной основания 90 см, налита жидкость. Чтобы измерить объём детали сложной формы, её полностью погружают в эту жидкость. Найдите объём детали, если после её погружения уровень жидкости в баке поднялся на 10 см. Ответ дайте в кубических сантиметрах.



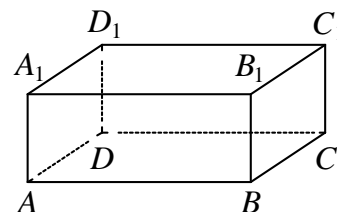
Ответ: \_\_\_\_\_.

- 12** В выпуклом четырёхугольнике  $ABCD$  известно, что  $AB = BC$ ,  $AD = CD$ ,  $\angle B = 128^\circ$ ,  $\angle D = 158^\circ$ . Найдите угол  $A$ . Ответ дайте в градусах.



Ответ: \_\_\_\_\_.

- 13** В прямоугольном параллелепипеде  $ABCD A_1 B_1 C_1 D_1$  рёбра  $BC$ ,  $BA$  и диагональ  $BC_1$  боковой грани равны соответственно 3, 7 и  $3\sqrt{5}$ . Найдите объём параллелепипеда  $ABCD A_1 B_1 C_1 D_1$ .



Ответ: \_\_\_\_\_.

- 14** Найдите значение выражения  $\frac{7}{25} - 3,3 - \left(-\frac{2}{5}\right)$ .

Ответ: \_\_\_\_\_.

- 15** Товар на распродаже уценили на 20 %, после этого он стал стоить 760 рублей. Сколько рублей стоил товар до распродажи?

Ответ: \_\_\_\_\_.

**16** Найдите значение выражения  $(\sqrt{23} - 4\sqrt{2})(\sqrt{23} + 4\sqrt{2})$ .

Ответ: \_\_\_\_\_.

**17** Найдите корень уравнения  $9x - 2(-5 + 7x) = -8x - 5$ .

Ответ: \_\_\_\_\_.

**18** Каждому из четырёх неравенств в левом столбце соответствует одно из решений в правом столбце. Установите соответствие между неравенствами и их решениями.

НЕРАВЕНСТВА

РЕШЕНИЯ

А)  $\frac{x-2}{x-6} > 0$

1)  $2 < x < 6$  или  $x > 6$

Б)  $(x-2)^2(x-6) < 0$

2)  $x < 2$  или  $2 < x < 6$

В)  $(x-2)(x-6) < 0$

3)  $2 < x < 6$

Г)  $\frac{(x-6)^2}{x-2} > 0$

4)  $x < 2$  или  $x > 6$

Впишите в приведённую в ответе таблицу под каждой буквой соответствующий решению номер.

Ответ:

А	Б	В	Г

**19** Найдите четырёхзначное натуральное число, меньшее 1360, которое делится на каждую свою цифру и все цифры которого различны и не равны нулю. В ответе укажите какое-нибудь одно такое число.

Ответ: \_\_\_\_\_.

**20** Теплоход, скорость которого в неподвижной воде равна 20 км/ч, проходит по течению реки и после стоянки возвращается в исходный пункт. Скорость течения равна 1 км/ч, стоянка длится 3 часа, а в исходный пункт теплоход возвращается через 43 часа после отправления из него. Сколько километров проходит теплоход за весь рейс?

Ответ: \_\_\_\_\_.

**21** Кузнечик прыгает вдоль координатной прямой в любом направлении на единичный отрезок за прыжок, делая первый прыжок из начала координат. Сколько существует различных точек на координатной прямой, в которых кузнечик может оказаться, совершив ровно 5 прыжков?

Ответ: \_\_\_\_\_.