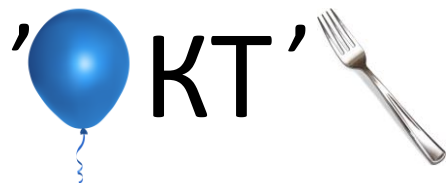


1 Разгадай ребус и запиши ответ.





--	--	--	--	--	--	--	--

2 Отметь ✓ картинку, изображающую пейзаж Арктики.



3 Отметь животных, которые обитают в Арктике.



4 Найди животных, обитающих в Арктике


Т	Я	В	Ы	Щ	О	Ш	К	Ф	Ё	Ж	М
Г	Д	У	З	Н	З	Ё	Ё	Й	Ш	А	Щ
Щ	Э	З	К	Ю	И	Ъ	Э	Э	Э	С	Б
Э	Т	Ю	Л	Е	Н	Ь	М	О	Р	Ж	И
И	Р	Г	М	Щ	Е	Ж	П	Е	С	Е	Ц
Д	М	Ц	Й	К	А	Й	Р	А	М	Ч	О
Й	Д	Ц	Э	И	З	Р	Р	Щ	К	Я	Ч
Б	Е	Л	Ы	Й	М	Е	Д	В	Е	Д	Ь
П	О	Л	Я	Р	Н	А	Я	С	О	В	А
П	Щ	Р	Г	Л	Ю	Х	Ъ	Ч	Ы	Ф	Ы
Ц	В	Ы	Щ	З	К	Ф	П	Ы	У	Ш	Ь
Ц	Л	Б	Е	Л	У	Х	А	У	У	О	Т

Найди слова:

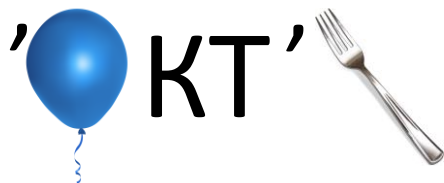
Песец
Белуха
Белый медведь
Тюлень

Полярная сова
Морж
Кайра

5 Раскрась рисунок.



1 Разгадай ребус и запиши ответ.






А	Р	К	Т	И	К	А
---	---	---	---	---	---	---

2 Отметь ✓ картинку, изображающую пейзаж Арктики.



3 Отметь животных, которые обитают в Арктике.




4 Найди животных, обитающих в Арктике

Т	Я	В	Ы	Щ	О	Ш	К	Ф	Ё	Ж	М
Г	Д	У	З	Н	З	Ё	Ё	Й	Ш	А	Щ
Щ	Э	З	К	Ю	И	Ъ	Э	Э	С	Б	
Э	Т	Ю	Л	Е	Н	Ь	М	О	Р	Ж	И
И	Р	Г	М	Щ	Е	Ж	П	Е	С	Е	Ц
Д	М	Ц	Й	К	А	Й	Р	А	М	Ч	О
Й	Д	Ц	Э	И	З	Р	Р	Щ	К	Я	Ч
Б	Е	Л	Ы	М	Е	Д	В	Е	Д	Ь	
П	О	Л	Я	Р	Н	А	Я	С	О	В	А
П	Щ	Р	Г	Л	Ю	Х	Ъ	Ч	Ы	Ф	Ы
Ц	В	Ы	Щ	З	К	Ф	П	Ы	У	Ш	Ь
Ц	Л	Б	Е	Л	У	Х	А	У	У	О	Т

Найди слова:

Песец	Полярная сова
Белуха	Морж
Белый медведь	Кайра
Тюлень	

5 Раскрась рисунок.



1 Реши ребус. Запиши ответ.

А



Е = КТИ

--	--	--	--	--	--	--	--

3 Выбери характеристики, присущие Арктическому региону.

- | | | |
|---|--|--|
| <input type="checkbox"/> низкая температура | <input type="checkbox"/> ледяные покровы | <input type="checkbox"/> короткое лето |
| <input type="checkbox"/> вечная мерзлота | <input type="checkbox"/> долгая зима | <input type="checkbox"/> высокая температура |
| <input type="checkbox"/> туманы | <input type="checkbox"/> дождливая осень | |

2 Выбери и отметь правильный ответ.

• **Арктика – это ...**

- Самое холодное море на Земле
- Полярный регион вокруг Северного полюса
- Название корабля

• **Северный морской путь – это ...**

- Самый длинный маршрут между Европой и Азией
- Маршрут вдоль берегов Антарктиды
- Самый короткий маршрут между Европой и Азией

• **Атомный ледокол – это ...**

- Судно, предназначенное для перевозки атомных отходов
- Корабль, прокладывающий путь во льдах, использующий атомную энергию
- Научная станция в Арктике

4 Переставь буквы и запиши названия ледоколов.

НЕЛИН

--	--	--	--	--	--

КИРТАКА

--	--	--	--	--	--	--	--


РИЬСИБ

--	--	--	--	--	--

ЛАМЯ

--	--	--	--

5 Раскрась картинку.



1 Реши ребус. Запиши ответ.

А



Е = КТИ

А Р К Т И К А

3 Выбери характеристики, присущие Арктическому региону.

- | | | |
|---|--|--|
| <input type="checkbox"/> низкая температура | <input type="checkbox"/> ледяные покровы | <input type="checkbox"/> короткое лето |
| <input type="checkbox"/> вечная мерзлота | <input type="checkbox"/> долгая зима | <input type="checkbox"/> высокая температура |
| <input type="checkbox"/> туманы | <input type="checkbox"/> дождливая осень | |

2 Выбери и отметь правильный ответ.

• **Арктика – это ...**

- Самое холодное море на Земле
- Полярный регион вокруг Северного полюса
- Название корабля

• **Северный морской путь – это ...**

- Самый длинный маршрут между Европой и Азией
- Маршрут вдоль берегов Антарктиды
- Самый короткий маршрут между Европой и Азией

• **Атомный ледокол – это ...**

- Судно, предназначенное для перевозки атомных отходов
- Корабль, прокладывающий путь во льдах, использующий атомную энергию
- Научная станция в Арктике

4 Переставь буквы и запиши названия ледоколов.

НЕЛИН

Л Е Н И Н

КИРТАКА

А Р К Т И К А

РИЬСИБ

С И Б И Р Ь

ЛАМЯ

Я М А Л

5 Раскрась картинку.

